

## **EGZAMIN POTWIERDZAJĄCY KWALIFIKACJE ZAWODOWE Czerwiec 2008**

### **ETAP PISEMNY**

#### **Instrukcja dla zdającego**

1. Sprawdź czy arkusz egzaminacyjny zawiera 20 stron. Ewentualny brak stron lub inne usterki zgłoś przewodniczącemu zespołu nadzorującego.
2. Do arkusza dołączona jest KARTA ODPOWIEDZI, na której:
  - wpisz symbol cyfrowy zawodu,
  - zamaluj kratkę z oznaczeniem wersji arkusza,
  - wpisz swój numer PESEL,
  - wpisz swoją datę urodzenia,
  - przyklej naklejkę ze swoim numerem PESEL w oznaczonym miejscu na karcie.
3. Arkusz egzaminacyjny składa się z dwóch części. Część I zawiera 50 zadań, część II 20 zadań.
4. Za każde poprawnie rozwiązane zadanie możesz uzyskać **1 punkt**.
5. Aby zdać etap pisemny egzaminu musisz uzyskać co najmniej 25 punktów z części I i co najmniej 6 punktów z części II.
6. Czytaj uważnie wszystkie zadania.
7. Rozwiązania zaznaczaj na KARCIE ODPOWIEDZI długopisem lub piórem z czarnym tuszem/atramentem.
8. Do każdego zadania podane są cztery możliwe odpowiedzi: A, B, C, D. Odpowiada im następujący układ krerek na KARCIE ODPOWIEDZI:

A	B	C	D
---	---	---	---

9. Tylko jedna odpowiedź jest poprawna.
10. Wybierz właściwą odpowiedź i zamaluj kratkę z odpowiadającą jej literą – np. gdy wybrałeś odpowiedź "A":

■	B	C	D
---	---	---	---

11. Staraj się wyraźnie zaznaczać odpowiedzi. Jeżeli się pomylisz i błędnie zaznaczysz odpowiedź, otocz ją kółkiem i zaznacz odpowiedź, którą uważasz za poprawną, np.

○ ■	B	C	■
-----	---	---	---

12. Po rozwiązaniu testu sprawdź, czy zaznaczyłeś wszystkie odpowiedzi na KARCIE ODPOWIEDZI i wprowadziłeś wszystkie dane, o których mowa w punkcie 2 tej instrukcji.

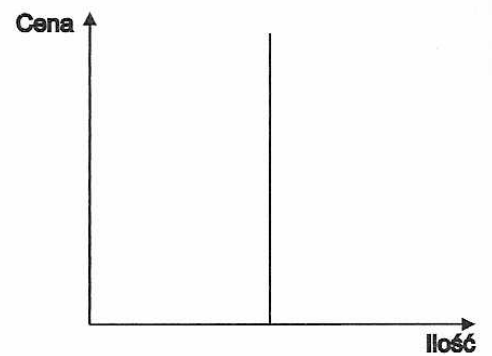
**Pamiętaj, że oddajesz przewodniczącemu zespołu nadzorującego tylko KARTĘ ODPOWIEDZI.**

***Powodzenia!***

## Zadanie 1.

Jaki rodzaj popytu przedstawia wykres?

- A. Sztywny.
- B. Elastyczny.
- C. Sezonowy.
- D. Potencjalny.



## Zadanie 2.

Do kosztów zmiennych w przedsiębiorstwie handlowym zalicza się koszty

- A. wynajmu pomieszczeń.
- B. wynagrodzenia kierownictwa.
- C. transportu towarów.
- D. ochrony pomieszczeń.

## Zadanie 3.

Do spółek osobowych prawa handlowego należą spółki:

- A. jawna, akcyjna, komandytowa.
- B. jawna, komandytowa, komandytowo – akcyjna.
- C. akcyjna, komandytowa, komandytowo – akcyjna.
- D. akcyjna, jawna, komandytowo – akcyjna.

## Zadanie 4.

Który schemat ilustruje przepływ towarów charakterystyczny dla przedstawionej działalności gospodarczej?

- A. Producent – detalista – konsument.
- B. Producent – hurtownik – detalista – konsument.
- C. Konsument – detalista – konsument.
- D. Konsument – konsument.

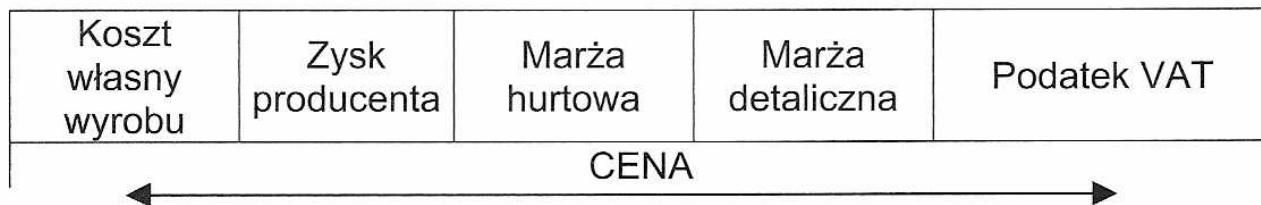


## Zadanie 5.

Który wyrób poddawany jest pasteryzacji?

- A. Sok jabłkowy.
- B. Masło.
- C. Miód.
- D. Kabanosy.

## Zadanie 6.



Schemat dotyczy ustalania ceny

- A. zbytu.
- B. hurtowej.
- C. detalicznej.
- D. skupu.

## Zadanie 7.

Zmianą biologiczną zachodzącą w przechowywanych towarach jest

- A. zbrylanie się soli.
- B. korozja metali.
- C. dojrzewanie serów.
- D. odbarwienie się tkaniny.

## Zadanie 8.

Który znak towarowy oznacza, że opakowanie nadaje się do przetworzenia?



A.



B.



C.



D.

## Zadanie 9.

*„...Zwiększa się popyt na produkt, zyski firmy rosną, pojawia się konkurencja, stosuje się promocję nakłaniającą do zakupu....”*

Dla której fazy cyklu życia produktu charakterystyczny jest przedstawiony opis?

- A. Wprowadzenia.
- B. Wzrostu.
- C. Dojrzałości.
- D. Spadku.

### Zadanie 10.

Do elementów marketingu-mix, oprócz produktu i ceny, zalicza się

- A. personel i promocję.
- B. promocję i zarządzanie.
- C. personel i dystrybucję.
- D. dystrybucję i promocję.

### Zadanie 11.

Metoda badawcza, której podstawowym instrumentem zbierania informacji jest standaryzowany kwestionariusz, to

- A. burza mózgów.
- B. eksperyment.
- C. test obrazkowy.
- D. ankieta.

### Zadanie 12.

Z oferty zakładu fotograficznego wynika, że właściciel firmy stosuje rabat

- A. gotówkowy.
- B. wartościowy.
- C. ilościowy.
- D. związany z nabywcą.

**SPECJALNY RABATOWY CENNIK  
NA ZDJĘCIA DO DOKUMENTÓW DLA  
EMERYTÓW I RENCISTÓW !**

**Dowód osobisty**

4 szt. zdjęć kolor 3,5x4,5 cm 14 zł

**Paszport**

4 szt. zdjęć kolor 4x5 cm 14 zł

**TERMIN 10 MINUT**

### Zadanie 13.

PAPIRUS		BIUROX	
Należności	Zobowiązania	Należności	Zobowiązania
20 000 zł	35 000 zł	35 000 zł	20 000 zł

Tabela przedstawia dane dotyczące wartości wzajemnych świadczeń usług dwóch kontrahentów.

Jeżeli strony ustaliły sposób regulowania wzajemnych należności i zobowiązań jako rozliczenie sald na koniec miesiąca, to znaczy, że w tym terminie

- A. PAPIRUS przeleje 15 000 zł na rzecz BIUROX.
- B. BIUROX przeleje 35 000 zł na rzecz PAPIRUS.
- C. PAPIRUS przeleje 20 000 na rzecz BIUROX.
- D. BIUROX przeleje 20 000 zł na rzecz PAPIRUS.

### **Zadanie 14.**

Warunkiem dokonywania zakupów w punktach sprzedaży cash & carry jest

- A. prowadzenie działalności gospodarczej przez kupujących.
- B. nabycie jednorazowo co najmniej 10 opakowań jednego artykułu.
- C. posiadanie przez kupujących osobowości prawnej.
- D. zakup o wartości minimum 500 zł.

### **Zadanie 15.**

Który znak informuje o wdrożeniu przez producenta systemu zarządzania jakością?

- A. Znak firmowy.
- B. Zdrowa żywność.
- C. ISO 9001
- D. Certyfikat bezpieczeństwa.

### **Zadanie 16.**

Faktura sprzedaży powinna być wystawiona na podstawie

- A. faktury zakupu.
- B. specyfikacji wyrobu.
- C. przyjęcia towaru z zewnątrz.
- D. wydania towaru z magazynu.

### **Zadanie 17.**

Bawełna jest włóknem

- A. sztucznym.
- B. syntetycznym.
- C. naturalnym pochodzenia roślinnego.
- D. naturalnym pochodzenia zwierzęcego.

### **Zadanie 18.**

Który produkt jest mlecznym koncentratem?

- A. Śmietana.
- B. Mleko w proszku.
- C. Jogurt.
- D. Ser twarogowy.

## Zadanie 19.

Jak określa się w wymianie z zagranicą relację zmian cen towarów eksportowanych do zmian cen towarów importowanych?

- A. Terms of trade.
- B. Eksport netto.
- C. Import netto.
- D. Bilans handlowy.


## Zadanie 20.

Przedstawiony produkt zalicza się do

- A. środków higieny osobistej.
- B. chemii gospodarczej.
- C. wyrobów perfumeryjnych.
- D. kosmetyków.

*Puder w kamieniu  
dla cery wrażliwej*

*kolor:002*



*jasny beż  
waga:20g*

## Zadanie 21.

Jaki rozmiar kurtki powinien kupić mężczyzna o wzroście 178 cm i obwodzie klatki piersiowej 101 cm?

Rozmiar	S	M	L	XL	XXL
Obwód talii	82	86	90	94	98
Obwód bioder	96	100	104	108	112
Obwód klatki piersiowej	92-95	96-99	100-103	104-107	108-...
Wzrost	174-175	176-177	178-179	180-181	182-...

- A. XXL
- B. L
- C. M
- D. XL

## Zadanie 22.

Kształt pilota do odbiornika TV, to cecha

- A. ekonomiczna.
- B. ergonomiczna.
- C. ekologiczna.
- D. logistyczna.



### Zadanie 23.

Tkanina charakteryzująca się następującymi właściwościami: łatwo się pierze, po praniu bieleje, trudno się farbuje, jest dość sztywna została wykonana

- A. z lnu.
- B. z bawełny.
- C. z wełny.
- D. z jedwabiu.

### Zadanie 24.

Na podstawie informacji zawartej na opakowaniu śmietanki kremowej można stwierdzić, że dostarcza ona organizmowi przede wszystkim

- A. węglowodanów.
- B. tłuszczu.
- C. białka.
- D. wapnia.

Wartość odżywcza w 100 gramach	
Wartość energetyczna:	291 kcal
Białko	2 g
Węglowodany	3 g
Tłuszcz	30 g
Wapń	86 mg

### Zadanie 25.

Hurtownia kosmetyczna stosuje marżę w wysokości 10% od ceny zakupu. Cena zakupu netto kremu do opalania wynosi 15 zł. Po sezonie dla swoich stałych klientów hurtownia wprowadziła 20% rabat, liczony od ceny hurtowej netto. Ile wyniesie cena hurtowa netto po uwzględnieniu rabatu?

- A. 13,20 zł
- B. 13,50 zł
- C. 16,00 zł
- D. 16,50 zł

### Zadanie 26.

Ile wyniesie cena detaliczna brutto towaru, jeśli cena zakupu netto wynosi 100 zł, marża detaliczna liczona „od sta” wynosi 10%, a stawka podatku VAT dla tego towaru to 7%?

- A. 171,00 zł
- B. 111,00 zł
- C. 117,70 zł
- D. 110,70 zł



## Zadanie 27.

Spółka otrzymała od odbiorcy za sprzedane towary czek gotówkowy. Na jakich kontach księgowych należy dokonać ewidencji tej operacji gospodarczej?

- A. „Kasa” Dt, „Rozrachunki z odbiorcami” Ct.
- B. „Rozrachunki z odbiorcami” Dt, „Kasa” Ct.
- C. „Inne środki pieniężne” Dt, „Rozrachunki z odbiorcami” Ct.
- D. „Rozrachunki z odbiorcami” Dt, „Inne środki pieniężne” Ct.

## Zadanie 28.

Wydział - Dział <i>Księgowność</i>		K-to kosztów	K-to wydz.	Nr zlecenia		<b>Rw</b> Pobranie materiałów wielopoz.	Nr bieżący Rw <i>1/12/05</i>		
Data <i>04.12.2005</i>		Skąd <i>Magazyn</i>		Dokąd <i>Księgowność</i>			Nr magaz. Rw <i>1/12/05</i>		
Nr indeksu materiałowego	Nazwa materiału	Ilość			Cena		Wartość		Konto syntet. mater.
		Żądana	J.m.	Wydana	złotych	gr	złotych	gr	
	<i>Papier ksero</i>	<i>5</i>	<i>1/2</i>	<i>5</i>	<i>15,-</i>		<i>75,-</i>		

Ewidencji operacji gospodarczej na podstawie przedstawionego fragmentu dowodu księgowego Rw należy dokonać na następujących kontach księgowych

- A. „Zużycie materiałów” Dt, „Materiały” Ct.
- B. „Materiały” Dt, „Zużycie materiałów” Ct.
- C. „Sprzedaż towarów” Dt, „Towary” Ct.
- D. „Towary” Dt, „Sprzedaż towarów” Ct.

## Zadanie 29.

W przedsiębiorstwie handlowym umowa o wspólnej odpowiedzialności materialnej czyni odpowiedzialnymi za powierzony majątek kierownika działu w wysokości 10% niedoboru oraz trzech pracowników, w wysokości po 30% niedoboru każdy. Jeżeli w wyniku inwentaryzacji stwierdzono niedobór w wysokości 6 000 zł, to za powstały niedobór odpowiada

- A. wyłącznie kierownik, w wysokości 6 000 zł.
- B. trzech pracowników, każdy w wysokości 2 000 zł.
- C. kierownik w wysokości 600 zł i trzech pracowników, każdy w wysokości 1 800 zł.
- D. kierownik i pracownicy, wszyscy w wysokości 1 500 zł.



### Zadanie 30.

Na podstawie przedstawionych danych, ustal wynik finansowy brutto firmy handlowej.

- A. 13 800 zł
- B. 25 200 zł
- C. 29 800 zł
- D. 31 200 zł

Przychody ze sprzedaży	56 000 zł
Koszty działalności podstawowej	32 000 zł
Otrzymane odsetki za zwłokę w zapłacie	2 000 zł
Odsetki od kredytu	5 000 zł
Zyski nadzwyczajne	4 200 zł

### Zadanie 31.

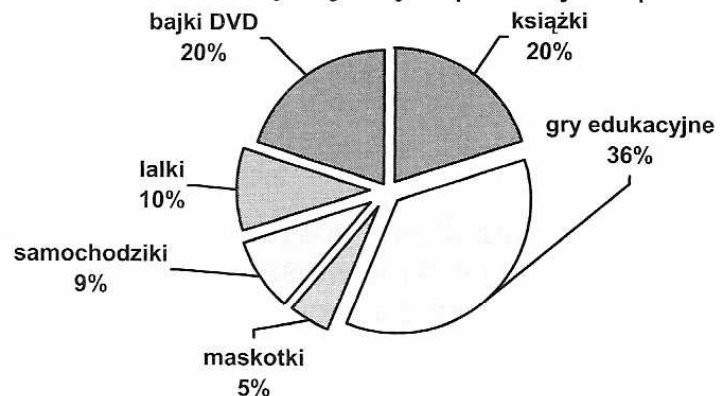
Przedsiębiorstwo Handlowo-Usługowe „OMEGA” S.A. osiągnęło zysk na działalności operacyjnej w wysokości 24 500 zł. Dodatkowo w analizowanym okresie przychody finansowe wyniosły 4 000 zł, a straty nadzwyczajne 3 400 zł. Podatek dochodowy, który musi zapłacić przedsiębiorstwo wynosi

- A. 25 100 zł
- B. 20 800 zł
- C. 5 522 zł
- D. 4 769 zł

### Zadanie 32.

Na podstawie wyników badań marketingowych przeprowadzonych wśród grupy rodziców przedszkolaków można stwierdzić, że najchętniej kupowanymi produktami są

- A. gry edukacyjne.
- B. książki.
- C. bajki DVD.
- D. samochodziki.



### Zadanie 33.

Agencja badań marketingowych przedstawiła wyniki przeprowadzonych badań dotyczących struktury sprzedaży kremów do twarzy na rynku lokalnym. Który z kremów ma co najmniej 30% udział w rynku?

- A. Nagietkowy.
- B. Rumiankowy.
- C. Owocowy.
- D. Przeciwalergiczny.

Rodzaj kremu	Wartość sprzedaży w zł
Rumiankowy	4 300
Owocowy	3 500
Przeciwalergiczny	4 200
Nagietkowy	8 000
<b>RAZEM</b>	<b>20 000</b>

### Zadanie 34.

Na podstawie analizy przedstawionych danych ustal, w którym oddziale firmy wydajność pracy przypadająca na 1 zatrudnionego pracownika jest najwyższa.

Oddział fir	Sprzedaż w tys. zł	Liczba zatrudnionych
w Warszawie	480 000	8
w Łodzi	360 000	6
w Gdańsku	250 000	5
w Krakowie	630 000	9

- A. Oddział w Krakowie.
- B. Oddział w Warszawie.
- C. Oddział w Łodzi.
- D. Oddział w Gdańsku.

### Zadanie 35.

Wskaźnik rentowności kapitału własnego informuje o wielkości zysku przypadającego na jednostkę

- A. akcji.
- B. aktywów.
- C. kapitału własnego.
- D. przychodu ze sprzedaży.

### Zadanie 36.

Przedsiębiorstwo handlowe pożyczyło od banku kwotę 5 000 zł na okres 1 roku. Odsetki z tytułu pożyczki wynoszą 30% w stosunku rocznym. Jaką kwotę firma powinna zwrócić pożyczkodawcy po 12 miesiącach?

- A. 5 000 zł
- B. 5 300 zł
- C. 6 500 zł
- D. 8 000 zł

### Zadanie 37.

Na podstawie przedstawionego fragmentu tabeli kursów walut określ, jaka wartość faktury w złotych odpowiada fakturze o wartości 2 000 funtów brytyjskich.

- A. 1 128 zł
- B. 1 182 zł
- C. 11 280 zł
- D. 11 820 zł

EUR.....	3,90 PLN
USD.....	3,20 PLN
GBP.....	5,91 PLN

## Zadanie 38.

Najdogodniejszą formą sprzedaży napojów w puszkach na terenie szkół jest sprzedaż

- A. ratalna.
- B. preselekcyjna.
- C. z automatów.
- D. tradycyjna.

## Zadanie 39.

Na podstawie przedstawionej faktury VAT określ sposób zapłaty.

<b>SPRZEDAWCA</b> Hurtownia Artykułów Biurowych "ADAM" Sp. z o.o. Adres: 91-305 Łódź ul. Limanowskiego 24 Tel: 899-30-30-364		<b>Faktura VAT</b> ORYGINAL / KOPIA <sup>51</sup> Nr 1/12/05		Miejscowość: Łódź Data wystawienia faktury: 05.12.2005 r. Dzielnica, odesłać i rok dokonania sprzedaży (miejscowość)					
<b>NABYWCZA</b> Sklep Spożywczy "Karmelek" Adres: 92-230 Łódź, ul. Gazowa 15 NIP: 800-23-79-368									
LP	Nazwa towaru lub usługi	Symbol identyfikacji towarowej (PKCE) lub symbol własny	Symb. j.m.	Ilość	Cena jednostkowa bez podatku	Wartość towaru (usługi) bez podatku	Stawka podatku	Kwota podatku	Wartość towaru (usługi) wraz z podatkiem
1	papier ksero-ryza		szt.	22	10,-	220,-	22	48,40	268,40
Sposób zapłaty: przelew      termin zapłaty: 14 dni					Zastosujcie sprzeczną w/w stawki podatku				
W banku:      220,-					22%				
Nr konta: 88 1010 16 74 0005 5022 2200 0000					7%				
Do zapłaty: 268 zł 40					3%				
dwieście sześćdziesiąt osiem 40/100					0%				
					zw.				
					<b>RAZEM</b> 220,-      48,40      268,40				
Adnotacje					Anna Nowak				

- A. Akredytywa otwarta przez Sklep „Karmelek”.
- B. Wpłata gotówkowa w kasie Hurtowni „Adam”.
- C. Przelew pieniędzy z konta Hurtowni „Adam” na rzecz Sklepu „Karmelek”.
- D. Przelew pieniędzy z konta Sklepu „Karmelek” na rzecz Hurtowni „Adam”.

## Zadanie 40.

Właściciel niewielkiej księgarni w mało atrakcyjnym handlowo punkcie miasta prowadzi sprzedaż metodą tradycyjną. Jaka formę sprzedaży powinien zastosować, aby zwiększyć swoje obroty?

- A. Preselekcję.
- B. Sprzedaż przez Internet.
- C. Sprzedaż komisową.
- D. Akwizycję.

## Zadanie 41.

Preselekcja jest formą optymalną w przypadku sprzedaży

- A. artykułów nabiałowych.
- B. kawy.
- C. mebli młodzieżowych.
- D. książek.

## Zadanie 42.

Producent specjalistycznych maszyn włókienniczych, który chce rozpocząć działalność gospodarczą na polskim rynku, powinien wybrać sprzedaż

- A. tradycyjną.
- B. przez Internet.
- C. preselekcyjną.
- D. przez przedstawiciela handlowego.

## Zadanie 43.

Spółka z o. o. planuje produkcję na następny rok analizując dane liczbowe przedstawione w tabeli, dotyczące sprzedaży określonych towarów. Jakie zmiany w asortymencie sprzedawanych wyrobów powinna wprowadzić spółka w następnym roku?

Dochody ze sprzedaży według asortymentu w tys. zł

Wyszczególnienie	2004	2005	2006	Dynamika w %	
				2005/2004	2006/2005
Batoniki	14 562	20 569	6 589	141,25	32,03
Pierniczki	58 900	57 367	52 366	97,40	91,28
Cukierki	23 400	25 600	37 569	109,40	146,75
Czekolada	34 800	25 300	26 500	72,70	104,74
Wafelki	32 100	20 000	22 596	62,31	112,98

- A. Zwiększyć produkcję batoników.
- B. Zwiększyć produkcję cukierków.
- C. Zmniejszyć produkcję wafelków.
- D. Zmniejszyć produkcję czekolady.

#### Zadanie 44.

Na podstawie danych dotyczących sprzedaży w księgarni oceń, w którym dziale wystąpiło największe odchylenie wykonania od założonego planu.

	Nazwa działu	Plan	Wykonanie	% wykonania planu
A.	Książki historyczne	23 000	32 457	141,12
B.	Poezja	5 000	3 982	79,64
C.	Książki dla dzieci	2 700	2 531	93,74
D.	Książki turystyczne	50 000	78 654	157,31

#### Zadanie 45.

Na podstawie danych w tabeli określ, która oferta dostawy towaru dla stałych klientów jest najkorzystniejsza.

Oferta dostawy towaru	Cena towaru w zł/szt	Opust ceny towaru dla stałych klientów w %	Koszty transportu w zł
A.	160	25	90
B.	150	16	70
C.	140	20	80
D.	130	10	90

#### Zadanie 46.

Sprzedawca ma obowiązek wydać kupującemu dowód sprzedaży, którym może być

- A. karta gwarancyjna.
- B. instrukcja obsługi.
- C. faktura VAT.
- D. charakterystyka produktu.

#### Zadanie 47.

Obowiązek dostarczenia pracownikowi odzieży ochronnej spoczywa na

- A. pracodawcy.
- B. urzędach pracy.
- C. Państwowej Inspekcji Pracy.
- D. związkach zawodowych.

#### Zadanie 48.

Faktury VAT należy archiwizować w kategorii

- A. B2
- B. B5
- C. B7
- D. B10

### **Zadanie 49.**

Kategoria akt B5 oznacza dokumenty, których okres przechowywania wynosi

- A. 6 lat.
- B. 4 lata.
- C. 3 lata.
- D. 5 lat.

### **Zadanie 50.**

Palenie papierosów w pomieszczeniach magazynowych jest

- A. dozwolone tylko w miejscach odosobnionych.
- B. dozwolone, gdy nie ma klientów.
- C. zabronione podczas przyjmowania towarów.
- D. bezwzględnie zabronione.