

Zawód: **sprzedawca**

Symbol cyfrowy zawodu: **522[01]**

Wersja arkusza: **X**

**EGZAMIN
POTWIERDZAJĄCY KWALIFIKACJE
ZAWODOWE**

522[01]-0X-082

ETAP PISEMNY

CZERWIEC 2008

Instrukcja dla zdającego

1. Sprawdź czy arkusz egzaminacyjny zawiera 23 stron. Ewentualny brak stron lub inne usterki zgłoś przewodniczącemu zespołu nadzorującego.
2. Do arkusza dołączona jest **KARTA ODPOWIEDZI**, na której:
 - wpisz symbol cyfrowy zawodu,
 - zamaluj kratkę z oznaczeniem wersji arkusza,
 - wpisz swój numer PESEL,
 - wpisz swoją datę urodzenia,
 - przyklej naklejkę ze swoim numerem PESEL w oznaczonym miejscu na karcie.
3. Arkusz egzaminacyjny składa się z dwóch części. Część I zawiera 50 zadań, część II 20 zadań.
4. Za każde poprawnie rozwiązane zadanie uzyskasz **1 punkt**.
5. Aby zdać etap pisemny egzaminu musisz uzyskać co najmniej 25 punktów z części I i co najmniej 6 punktów z części II.
6. Czytaj uważnie wszystkie zadania.
7. Rozwiązania zaznaczaj na **KARCIE ODPOWIEDZI** długopisem lub piórem z czarnym tuszem/atramentem.
8. Dla każdego zadania podane są cztery możliwe odpowiedzi: A, B, C, D. Odpowiada im następujący układ kratek na **KARCIE ODPOWIEDZI**:

A	B	C	D
---	---	---	---

9. Tylko jedna odpowiedź jest poprawna.
10. Wybierz właściwą odpowiedź i zamaluj kratkę z odpowiadającą jej literą - np. gdy wybrałeś odpowiedź "A":

	B	C	D
--	---	---	---

11. Staraj się wyraźnie zaznaczać odpowiedzi. Jeżeli się pomylisz i błędnie zaznaczysz odpowiedź, otocz ją kółkiem i zaznacz odpowiedź, którą uważasz za prawdziwą, np.

(A)	B	C	
-----	---	---	--

12. Po rozwiązaniu testu sprawdź czy zaznaczyłeś wszystkie odpowiedzi na **KARCIE ODPOWIEDZI** i wprowadziłeś wszystkie dane, o których mowa w punkcie 2 tej instrukcji.

Pamiętaj, że oddajesz przewodniczącemu zespołu nadzorującego tylko KARTĘ ODPOWIEDZI.

Powodzenia!

**Czas trwania
egzaminu
120 minut**

**Liczba punktów
do uzyskania:
z części I – 50 pkt.
z części II – 20 pkt.**

Zadanie 1.

Klientka, u której na twarzy pojawiają się pękające naczynka krwionośne, chce nabyć krem zapobiegający ich dalszemu powstawaniu. W ramkach, zamieszczono informacje producentów dotyczące różnych kremów. Który produkt jest najbardziej odpowiedni dla zaspokojenia potrzeb tej klientki?

Komplex zapobiega mikroskurczom mięśni twarzy, w efekcie czego zmarszczki mimiczne ulegają rozluźnieniu, a skóra staje się odprężona i gładka.

A.

Jedwabisty krem o specjalnej recepturze zapewniający naturalną gładkość i świeży, zdrowy wygląd. Doskonale się wchłania, odżywiając skórę i przeciwdziałając jej nadmiernemu wysychaniu.

B.

Odżywczy krem nawilżający na dzień. Zawiera aktywny, naturalny dla skóry składnik - HYDRAMINE₂, która reguluje poziom nawilżenia skóry oraz chroni przed utratą wilgoci.

C.

Przeznaczony do cery PÓŁTŁUSTEJ suchej i normalnej z rozszerzonymi i pękającymi naczynkami krwionośnymi, oraz skłonnością do rumienia.

D.

Zadanie 2.

Który towar wykonany jest z materiału skóropodobnego?

- A. Torebka damska ze skaju.
- B. Mokasyny męskie z nubuku.
- C. Rękawiczki damskie z szewro.
- D. Kozaki męskie ze skóry bukatowej.

Zadanie 3.

Klientce, która poszukuje twardego, żółtego sera do zapiekanki należy zaproponować

- A. brie.
- B. fetę.
- C. bryndzę.
- D. parmezan.

Zadanie 4.

Na podstawie informacji zawartych w tabeli wskaż rozmiar rajstop, jaki należy zaproponować klientce o wzroście 168 cm i obwodzie bioder 112 cm.

- A. S/36-38
- B. M/40-42
- C. L/44-46
- D. XL/48-50

Rozmiar	S/36-38	M/40-42	L/44-46	XL/48-50
Wzrost /w cm/	162-164	164-170	164-170	170-176
Obwód bioder /w cm/	96-104	104-108	108-116	116-121

Zadanie 5.

W sklepie kosmetycznym starsza pani poprosiła o niedrogi krem odpowiedni do jej wieku. Sprzedawca, aby jak najlepiej obsłużyć klientkę powinien

- A. przedstawić jej cały asortyment kremów znajdujących się na półkach sklepowych.
- B. zapytać klientkę o rodzaj cery i zaproponować luksusowe kremy dla osób starszych na noc i na dzień.
- C. poinformować ją o wszystkich kremach dla osób starszych znajdujących się w sprzedaży.
- D. zapytać klientkę o rodzaj cery i zaproponować kilka niedrogich kremów dla cery dojrzałej.

Zadanie 6.

Podczas zakupów jeden z klientów głośno wyrażał swoje niezadowolenie z powodu wysokich cen. Przekonywał pozostałych nabywców, że w innych sklepach te same towary można nabyć znacznie taniej. W zaistniałej sytuacji sprzedawca powinien

- A. stanowczo uspokoić klienta.
- B. spokojnie porozmawiać z klientem.
- C. zdecydowanie wyprosić klienta ze sklepu.
- D. poprosić o interwencję kierownika sklepu.

Zadanie 7.

Na półkach sklepu spożywczego znajduje się zapas 60 opakowań serka homogenizowanego. Jego termin przydatności do spożycia producent określił sformułowaniem na opakowaniu: „Najlepiej spożyć do 10 marca 2008 roku”. W związku z tym od 11 marca kierownik sklepu powinien

- A. sprzedać serek.
- B. wycofać cały zapas serka ze sprzedaży.
- C. zwrócić serek dostawcy z żądaniem wymiany na świeży.
- D. rozdać serek klientom w formie bezpłatnego dodatku do zrobionych zakupów.

Zadanie 8.

Na podstawie informacji zawartych w tabeli wskaż towar, który można układać na półkach sklepowych obok wyrobów cukierniczych.

- A. Nabiał i wyroby garmażeryjne.
- B. Ryby i przetwory owocowe.
- C. Owoce i wyroby tytoniowe.
- D. Konserwy i wina.

Grupa towarowa	W bezpośrednim sąsiedztwie grup towarowych	
	można układać:	nie można układać:
Wyroby cukiernicze	wina, wódki, konserwy, owoce, nabiał, przetwory owocowe.	mięsa, ryb, warzyw, wyrobów tytoniowych, wyrobów garmażeryjnych.

Zadanie 9.


Towary „magnesy”, które przyciągają swoim wyglądem uwagę konsumentów, powinny być rozmieszczone na regałach

- A. w centralnych miejscach sali sprzedażowej.
- B. w głębi sali sprzedażowej.
- C. specjalnie wydzielonych.
- D. w pobliżu kas.

Zadanie 10.

Przedstawiony znak, umieszczony na opakowaniu dostarczonego do magazynu towaru oznacza, że

- A. w opakowaniu znajduje się towar pod szczególną ochroną.
- B. w opakowaniu znajduje się nowa dostawa parasoli.
- C. opakowanie należy chronić przed wilgocią.
- D. opakowanie zabezpiecza towar przed deszczem.



Zadanie 11.





Klientka chce kupić świeżą, chudą rybę. Zgodnie z informacjami zamieszczonymi w tabeli sprzedawca powinien polecić jej

- A. patroszonego karpia.
- B. dzwonki łososia.
- C. płaty pstrąga.
- D. filety z dorsza.

Grupa ryb	Zawartość tłuszczu	Nazwy ryb
Tłuste	powyżej 5%	łosoś, makrela, szprot, tuńczyk węgorz, halibut
Średnio tłuste	od 1% do 5%	karp, leszcz, lin, płóć, pstrąg
Chude	do 1%	morszczuk, okoń, dorsz, szczupak

Zadanie 12.

Klientka poszukuje w sklepie ogrodniczym nawozu do różnorodnych domowych kwiatów doniczkowych. Na podstawie zamieszczonych opisów czterech typów nawozów oferowanych do sprzedaży określ, który z nich klientka powinna kupić.

	Oferowany towar	Opis towaru
A.	 AGROCOL K NAWÓZ SPECJALNY	Wysokiej jakości płynny wieloskładnikowy nawóz organiczno-mineralny przeznaczony do nawożenia wszelkich odmian kaktusów i sukulentów.
B.	 BIOHUMUS FORTE NAWÓZ ORGANICZNO- MINERALNY	Płynny, wieloskładnikowy nawóz organiczno-mineralny przeznaczony do nawożenia wszelkich roślin w domu, na balkonie i na tarasie.
C.	 AGRECOL	Wysokiej jakości, wieloskładnikowy nawóz organiczno-mineralny przeznaczony do nawożenia wszelkich odmian palm, juk i dracen.
D.	 ZIELONY DOM	Nawóz fizjologicznie kwaśny do rododendronów, wrzosów, borówki amerykańskiej, jagody kamczackiej, wawrzynka wilczełyko. Wiosną można stosować do iglaków.

Zadanie 13.

Asortyment szeroki i płytki, typowy dla sprzedaży kioskowej, powinien być sprzedawany metodą

- A. preselekcji.
- B. samoobsługi.
- C. wysyłkową.
- D. tradycyjną.

Zadanie 14.

Zakład szyjący odzież sportową rozesłał do hurtowni na terenie całego kraju katalogi z najnowszymi modelami produkowanej odzieży. Jaki etap zawierania umowy sprzedaży został w ten sposób opisany?

- A. Zapytanie o ofertę.
- B. Sprzedaż towarów.
- C. Oferta sprzedaży.
- D. Negocjowanie ceny.

Zadanie 15.

Pan Nowak zamierza otworzyć sklep z galanterią skórzaną i poszukuje dostawców towaru. Swoje działania powinien rozpocząć od

- A. wynegocjowania warunków dostawy.
- B. ustalenia najkorzystniejszej ceny.
- C. zapoznania się z ofertą.
- D. zapytania o ofertę.

Zadanie 16.

W nowo wybudowanym osiedlu rozpoczyna swoją działalność mały sklep zoologiczny. Jaki środek promocji powinien zastosować jego właściciel, aby poinformować jak najwięcej mieszkańców osiedla o otwarciu sklepu?

- A. Ogłoszenie w prasie ogólnokrajowej.
- B. Ulotki roznoszone do mieszkań na osiedlu.
- C. Spoty reklamowe w telewizji ogólnokrajowej.
- D. Spotkanie zorganizowane z potencjalnymi klientami.

Zadanie 17.

Który zestaw towarów może być w całości sprzedawany zarówno w formie tradycyjnej jak i nowoczesnej?

- A. Mleko, owoce, ciasto na wagę, zabawki, słodczy paczkowane.
- B. Owoce, słodczy paczkowane, wędliny porcjowane na życzenie klienta, mleko, zabawki.
- C. Wędliny w opakowaniach hermetycznych, owoce, mleko, zabawki, słodczy paczkowane.
- D. Słodczy paczkowane, mleko, żywe ryby, zabawki, owoce.

Zadanie 18.

Kasza manna otrzymywana jest

- A. z jęczmienia.
- B. z pszenicy.
- C. z owsa.
- D. z żyta.

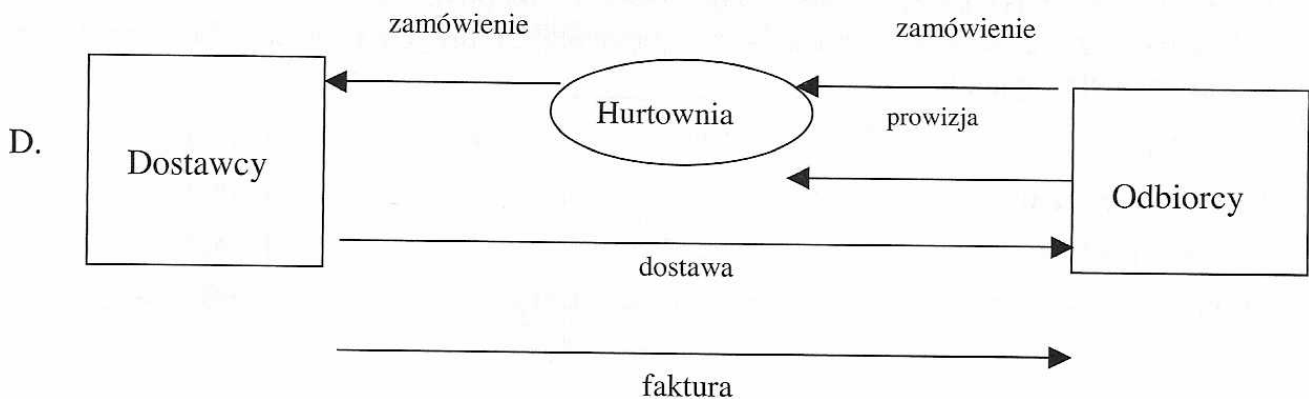
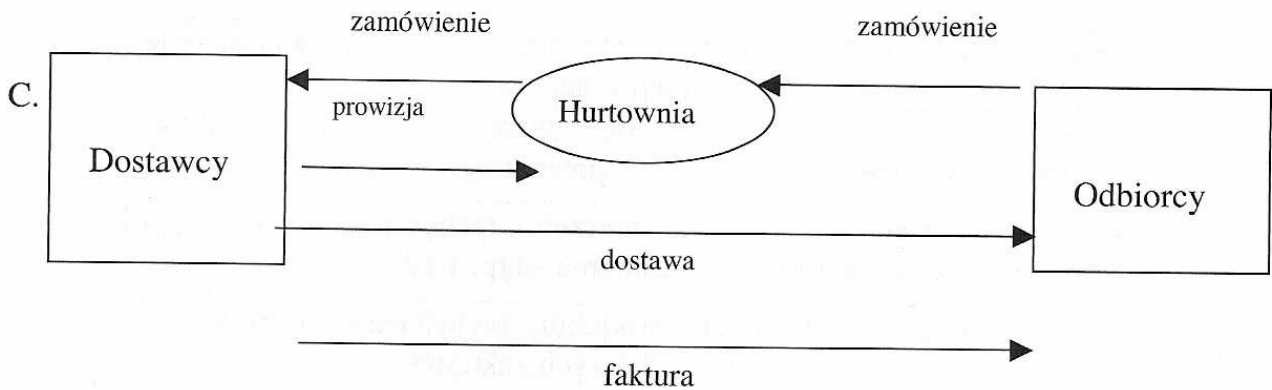
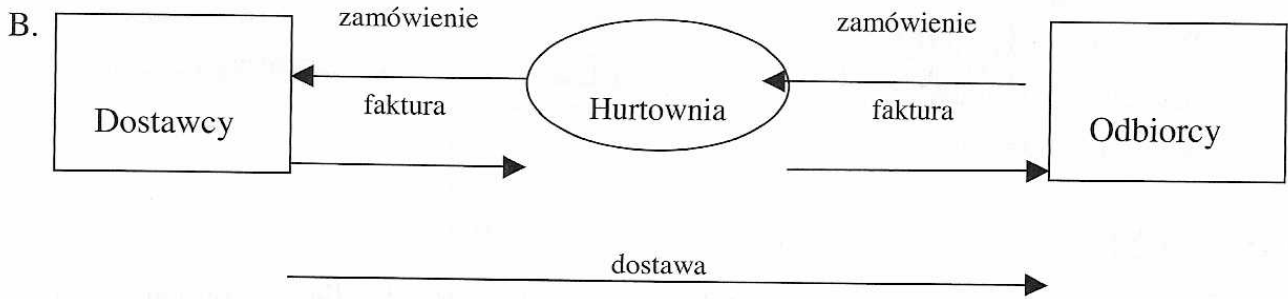
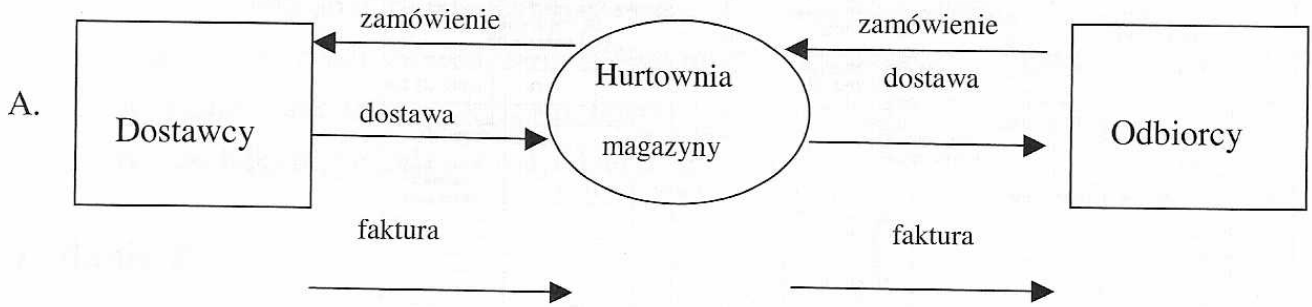
Zadanie 19.

Ekspedientka obsługująca klientów na tradycyjnym stanowisku nabiałowym, powinna być ubrana:

- A. w wygodne obuwie na płaskiej podeszwie, rękawice ochronne, czepek ochronny.
- B. w czepek ochronny, fartuch gumowy, wygodne obuwie na płaskiej podeszwie.
- C. w czysty fartuch, czepek ochronny, wygodne obuwie na płaskiej podeszwie.
- D. w fartuch gumowy, czepek ochronny, rękawice ochronne.

Zadanie 20.

Na podstawie przedstawionych schematów obrotu towarowego na szczeblu hurtu określ, w którym typie przebiegu towarowego hurtownik organizuje jedynie dostawę i otrzymuje za to prowizję od dostawcy.



Zadanie 21.

zamawiający		odbiorca					
Firma Remontowo-Budowlana "BUDROPOL"		Firma Remontowo-Budowlana "BUDROPOL"		data wpływu	symb. dok.	nr ewidenc.	
43-400 Katowice ul. Jaśkowa 13		43-400 Katowice ul. Jaśkowa 13		a d r e s a t			
Z A M Ó W I E N I E		płatnik		Przedsiębiorstwo Wielobranżowe "POLMAGAZYN"			
warunki płatności		Firma Remontowo-Budowlana "BUDROPOL"		Spółka Prawa Handlowego 33-455 Łódź			
GOTÓWKA				ul. Snieżna 18			
nr statystyczny zamawiającego		43-400 Katowice ul. Jaśkowa 13		symbol dokum.	nr dokumentu	data dokum.	
Bank:	Bud-Bank II Oddział w Katowicach			ZM	1576	2007-02-28	
konto	99 9999-9999-9999-9999-9999						
region zamawiającego		region odbiorcy		region płatnika		numer umowy	
12345-12345		12345-12345		12345-12345			
lp.	nazwa artykułu - wyrobu	indeks	jed. miary	ilość	termin dostawy		
1.	Atlas - klej	6990-001-234-124	kg				
2.	Drzwi pełne P-80	6990-001-234-136	szt.				
3.	Cement	6990-001-234-133	kg				
4.	Błacha czarna	6990-001-234-126	kg				
5.	Drzwi pełne L-80	6990-001-234-135	szt.				
6.	Cegła pełna	6990-001-234-131	szt.				
7.	Cement	6990-001-234-133	kg				

Którego etapu zawierania umowy sprzedażowej dotyczy przedstawiony dokument?

- A. Złożenia zamówienia.
- B. Przedstawienia oferty.
- C. Sprzedaży towarów.
- D. Wydania towarów.

Zadanie 22.

Do sklepu z zabawkami z tradycyjną metodą sprzedaży wszedł klient z zamiarem zakupu prezentu dla dwuletniego dziecka. Prawidłowy przebieg jego obsługi opisany został w tabeli w wierszu

A.	zachęcanie do dalszych zakupów, prezentacja produktu, wyjaśnienie wątpliwości, ustalenie potrzeb, inkaso należności
B.	ustalenie potrzeb, zachęcanie do dalszych zakupów, inkaso należności, wyjaśnienie wątpliwości, prezentacja produktu
C.	prezentacja produktu, ustalenie potrzeb, zachęcanie do dalszych zakupów, inkaso należności, wyjaśnienie wątpliwości
D.	ustalenie potrzeb, prezentacja produktu, wyjaśnienie wątpliwości, inkaso należności, zachęcanie do dalszych zakupów

Zadanie 23.

Producent znanej marki kawy zachęcał klientów do zakupu jednego ze swoich produktów poprzez umieszczanie wewnątrz opakowania pięknych, srebrnych łyżeczek. Takie działania producenta określa się jako

- A. reklamę.
- B. public relations.
- C. sprzedaż osobistą.
- D. promocję sprzedaży.

Zadanie 24.

Właściciel sklepu z zabawkami zakupił dużą partię porcelanowych lalek i ułożył je na półce z lalkami. Nowo zakupiony towar nie cieszył się zainteresowaniem klientów. Aby zapobiec powstaniu trudno zbywalnego zapasu i zminimalizować straty, właściciel powinien

- A. zwrócić lalki do hurtowni zabawek, w której zostały zakupione.
- B. usunąć lalki z sali sprzedażowej, robiąc miejsce na towar „chodliwy”.
- C. wyeksponować lalki w oknie wystawowym sklepu.
- D. rozdać lalki przychodzącym do sklepu dziewczynkom.

Zadanie 25.

Zgodnie z informacjami zawartymi w tabeli najkrócej przechowywać można

- A. kaszanke .
- B. kabanosy.
- C. kurczaka wędzonego.
- D. wyroby garmażeryjne.

Nazwa wyrobu	Temperatura przechowywania	Okres przechowywania
Kurczak wędzony	od 2 ⁰ C do 10 ⁰ C	72 h
Kabanosy	od 2 ⁰ C do 10 ⁰ C	25 dni
Kabanosy	od 0 ⁰ C do 8 ⁰ C	10 dni
Kaszanka	od 2 ⁰ C do 10 ⁰ C	48 h
Wyroby garmażeryjne	od 0 ⁰ C do 6 ⁰ C	od 4 do 7 dni

Zadanie 26.

W Hurtowni „Ewa” cena hurtowa netto jednego opakowania kawy „Finezja” o wadze 0,25 kg wynosi 5 zł. Ile zapłaci klient za 10 kg kawy, jeżeli stawka podatku VAT na ten towar wynosi 22%?

- A. 100,00 zł
- B. 122,00 zł
- C. 200,00 zł
- D. 244,00 zł

Zadanie 27.

W listopadzie 2007 r. otworzono nową hurtownię sprzętu sportowego. Zgodnie ze stanem księgowym wartość majątku firmy w towarze wynosiła 650 000 zł. Do dnia 30 listopada z magazynów wydano towar zgodnie z zestawieniem pokazanym w tabeli.

Po przeprowadzonej 1 grudnia inwentaryzacji stwierdzono, że obecny stan majątku hurtowni w towarze wynosi

- A. 520 000 zł
- B. 528 000 zł
- C. 559 000 zł
- D. 640 000 zł

Rodzaj towaru	Łączna wartość sprzedanego towaru w zł
Sprzęt sportowy	30 000
Sprzęt fitness	70 000
Sprzęt lekkoatletyczny	21 000
Ubiór sportowy	9 000

Zadanie 28.

Na opakowaniu zamrożonych pierogów z mięsem producent umieścił dane dotyczące warunków ich przechowywania. Jak długo można je przechowywać w zamrażarce, w której panuje temperatura (-12°C) ?

- A. 24 godziny.
- B. 1 tydzień.
- C. 1 miesiąc.
- D. 3 miesiące.

Nazwa towaru	Warunki przechowywania	
	temperatura	czas
Pierogi z mięsem	$(+)$ 4°C	24 h
	$(-)$ 6°C	1 tydzień
	$(-)$ 12°C	1 miesiąc
	$(-)$ 18°C	3 miesiące

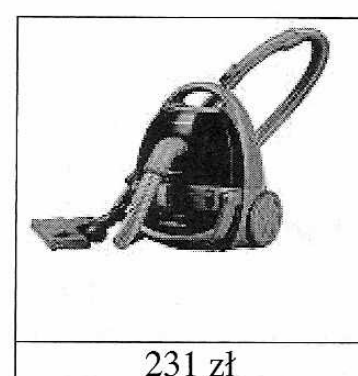



Zadanie 29.

W sklepie samoobsługowym klient włożył do koszyka pieczywo za 6,50 zł, nabiał za 8,30 zł i opakowanie szynki o wadze 10 dkg w cenie 16 zł/kg. Jaką najniższą kwotę powinien przygotować, aby uregulować należność za towary pobrane z półek?

- A. 31,00 zł
- B. 25,00 zł
- C. 17,00 zł
- D. 16,00 zł

Zadanie 30.

Klient dysponujący kwotą 400 zł pragnie zakupić drobny sprzęt AGD. Jakie dwa towary z przedstawionych mogłyby nabyć klient za posiadaną gotówkę?



- A. Maszynkę do mięsa i czajnik bezprzewodowy.
- B. Żelazko i czajnik bezprzewodowy.
- C. Żelazko i maszynkę do mięsa.
- D. Odkurzacz i żelazko.

Zadanie 31.

W celu prawidłowego wypełnienia protokołu reklamacyjnego sprzedawca powinien uzyskać od klienta między innymi dane dotyczące

- A. daty i miejsca jego urodzenia.
- B. adresu zakładu pracy klienta.
- C. numeru jego konta bankowego.
- D. numeru rachunku lub faktury za zakupiony towar.

..... dnia
PROTOKÓŁ REKLAMACYJNY NR
Sporządzony w dniu w związku ze zgłoszeniem reklamacji nr z dnia
Imię i nazwisko nabywcy
Dokładny adres
Nr telefonu
Data nabycia towaru
nr rachunku lub faktury..... z dnia
Rodzaj towaru typ

Zadanie 32.

Pani Ewa kupiła maszynkę do mięsa po obniżonej cenie. Obniżka nastąpiła z powodu porysowanej obudowy, o czym sprzedawca poinformował klientkę w chwili zakupu. Po miesiącu w maszynce zepsuł się silnik. Klientka zgłaszając reklamację może żądać w pierwszej kolejności

- A. naprawy silnika.
- B. odstąpienia od umowy.
- C. wymiany towaru na inny.
- D. naprawy obudowy i naprawy silnika.

Zadanie 33.

Zgodnie z przepisami bhp i ochrony przeciwpożarowej w obiektach handlowych **niedopuszczalne jest**

- A. wieszanie gaśnic na ścianach.
- B. korzystanie z telefonów komórkowych.
- C. umieszczenie na ścianach oznakowań ewakuacyjnych.
- D. blokowanie dostępu do wyjść awaryjnych składowanym towarem.

Zadanie 34.

Klient chce zareklamować zakupiony towar posiadający wadę produkcyjną. Przed wypełnieniem protokołu reklamacyjnego klient powinien w pierwszej kolejności

- A. pisemnie potwierdzić sprzedawcy zakup towaru.
- B. przedstawić fakturę lub paragon fiskalny na ten towar.
- C. otrzymać zgodę kierownika sklepu na przyjęcie reklamacji.
- D. dostarczyć reklamowany towar.

Zadanie 35.

Na podstawie przedstawionego fragmentu faktury VAT wystawionej przez hurtownię serów oszacuj kwotę, jaką musi przygotować nabywca aby mógł uregulować należność według wystawionej faktury.

L.p.	Nazwa towaru	Symbol	J. m	Ilość towaru	Cena jednostkowa bez podatku (w zł)	Wartość towaru bez podatku (w zł)	VAT %	Kwota podatku (w zł)	Wartość towaru z podatkiem (w zł)
1	Ser kortowski	2345-10	kg	25	12,00	300,00	7	21,00	321,00
2	Ser Gouda	2345-10	kg	10	11,00	110,00	7	7,70	117,70
3	Ser edamski	2345-10	kg	15	10,00	150,00	7	10,50	160,50

- A. 440,00 zł
- B. 480,00 zł
- C. 550,00 zł
- D. 610,00 zł

Zadanie 36.

W tabeli przedstawiono wykaz towarów, które chce kupić klient. Jaka kwotę reszty powinien otrzymać jeśli zapłaci banknotem o wartości 50 zł?

- A. 36,60 zł
- B. 35,40 zł
- C. 14,60 zł
- D. 13,40 zł

Nazwa towaru	J.m.	Ilość	Cena jednostkowa w zł
Masło ekstra	szt.	3	3,20
Mleko 3,2%	l	4	2,10
Twaróg	kg	2	9,30

Zadanie 37.

Cena sprzedaży netto 1 kg sera kortowskiego wynosi 15,00 zł. Stawka podatku VAT na ten towar wynosi 7%. Jaka jest cena sprzedaży brutto?

- A. 10,50 zł
- B. 15,00 zł
- C. 13,95 zł
- D. 16,05 zł

Zadanie 38.

<i>Odbiorca</i> Hutrownia papiernicza ul. J. Kochanowskiego 6 36-582 Białystok		<i>Dostawca:</i> Zakłady wyrobów papierowych Papirus ul. Nowa 5 46-567 Bielsko		PZ Przyjęcie z zewnątrz	data wystawienia 10.04.2006 Nr :
	NAZWA TOWARU	J.M	ILOŚĆ	CENA DETALICZNA	WARTOŚĆ
1	bloki rysunkowe	szt	5000	1,90	9500,00
2	Zeszyty A4 – 60 kartkowe	szt	1000	3,80	3800,00
3	kołozeszyty	szt	1000	5,20	5200,00
	RAZEM				18 5 00,00
Wystawił W. Piotrowski data 10.04.2006		Przyjął W. Piotrowski Data 10.04.2006		Zatwierdził - K. Nowacki Data 10.04.2006	

Przedstawiony dowód księgowy Pz - przyjęcie z zewnątrz

- A. został wypełniony w całości prawidłowo.
- B. zawiera błąd w podliczeniu wartości towarów.
- C. nie posiada numeru dowodu przyjęcia.
- D. nie posiada daty wystawienia.





Zadanie 39.

Cena zestawu wypoczynkowego „Alfa” wynosi 1 750 zł. Z powodu zbyt niskiego popytu na te meble producent obniżył ich cenę o 30%. Cena zestawu wypoczynkowego „Alfa” po obniżce to

- A. 525,00 zł
- B. 1 225,00 zł
- C. 1 697,50 zł
- D. 1 802,50 zł

Zadanie 40.

Przed zamknięciem straganu klient zakupił po 1 kg bananów i gruszek oraz 2 kg winogron. Jako ostatni nabywca w tym dniu otrzymał 10% opustu od ich pierwotnej ceny. Ile zapłacił za owoce?



- A. 14,04 zł
- B. 15,60 zł
- C. 19,71 zł
- D. 21,90 zł

Zadanie 41.

Jaki stan ilościowy piłek do koszykówki na dzień 18.04.08 należy wpisać w przedstawionej kartotece magazynowej?

- A. 50 szt.
- B. 200 szt.
- C. 150 szt.
- D. 100 szt.

Kartoteka Magazynowa							
FHU „SPORTIM” Sp. z o. o. ul. Wesoła 9 60-140 Poznań			Piłka do koszykówki				
			Cena zakupu netto			100 zł/szt.	
			Jednostka miary				szt.
L.p.	Data	Symbol i numer dowodu	Przeznaczenie	Przychód	Rozchód	Stan	
1.	15.04.08	Pz 67/08	Do sprzedaży	100		100	
2.	18.04.08	Pz 90/08	Sprzedaż		50	

Zadanie 42.

Klient kupił: 2 kg schabu w cenie 13,20 zł/kg, 1 kg mięsa mielonego w cenie 9,70 zł/kg oraz 0,5 kg polędwicy sopockiej w cenie 24 zł/kg. Za zakupione towary klient zapłacił banknotem o wartości 100 zł. Ile powinien otrzymać reszty?

- A. 39,90 zł
- B. 48,10 zł
- C. 51,90 zł
- D. 53,10 zł

Zadanie 43.

Klient nabył towary przedstawione w tabeli. Która z podanych kwot pozwoli mu na zapłacenie rachunku?

- A. 127,00 zł
- B. 106,00 zł
- C. 91,00 zł
- D. 70,00 zł

Nazwa towaru	J. m.	Ilość	Cena jednostkowa w zł
Tapeta ścienna	szt.	2	36,00
Klej do tapet	szt.	3	10,50
Farba olejna	l	1	23,00

Zadanie 44.

W sklepach branży spożywczej podstawowym obowiązkiem sprzedawcy związanym z przygotowaniem towarów do sprzedaży jest:

- A. kosztowanie każdego nowego towaru w celu poinformowania klientów o jego walorach smakowych.
- B. codzienna kontrola towarów w celu usunięcia z obrotu artykułów przeterminowanych.
- C. umieszczanie na półkach towarów z nowej dostawy przed towarami z dostaw wcześniejszych.
- D. regularne dokonywanie zmiany miejsc położenia towarów na półkach ze względów estetycznych.

Zadanie 45.

Na sali sprzedażowej zainstalowano niewłaściwy system oświetleniowy. Długotrwała praca w takich warunkach może spowodować u ekspedientki

- A. zaburzenia wzroku i bóle głowy.
- B. bezsenność i bóle serca.
- C. zwiększoną pobudliwość i bezsenność.
- D. zmniejszenie refleksu i duszność.

Zadanie 46.

Na podstawie przedstawionego fragmentu dowodu przyjęcia towaru do hurtowni kosmetycznej określ, ile wynosi wartość przyjętego towaru.

Nazwa towaru	J.m.	Ilość	Cena zgrzewki w zł	Wartość w zł
Proszek „E”	zgrzewka	100	30,00	3 000,00
Pasta do zębów	zgrzewka	50	50,00	2 500,00
Płyn „Vanisch”	zgrzewka	100	30,00	3 000,00
Krem „Nivea”	zgrzewka	4	150,00	600,00

- A. 260,00 zł
- B. 1 450,00 zł
- C. 9 100,00 zł
- D. 14 500,00 zł

Zadanie 47.

Właściciel sklepu meblowego po raz kolejny zamówił u producenta mebli towary o łącznej wartości 35 000 zł. Jako stałemu klientowi podczas sporządzania umowy udzielono mu 10% rabatu. W związku z tym właściciel sklepu zapłaci za zamówione meble

- A. 38 500,00 zł
- B. 35 350,00 zł
- C. 34 650,00 zł
- D. 31 500,00 zł

Zadanie 48.

W magazynie hurtowni spożywczej na dzień 31 maja stwierdzono zapas 820 zgrzewek soku pomarańczowego. W dniu 01 czerwca dokupiono 600 zgrzewek tego soku. Zapas bieżący pozwalający na zachowanie ciągłości sprzedaży wynosi 1 000 zgrzewek. Zapas nadmierny to

- A. 180 zgrzewek.
- B. 400 zgrzewek.
- C. 420 zgrzewek.
- D. 1 420 zgrzewek.

Zadanie 49.

Poładwica sopocka przygotowana do sprzedaży w sklepie samoobsługowym powinna być wyłożona na półki

- A. w większych kawałkach, do samodzielnego krojenia.
- B. w kawałkach, w opakowaniach hermetycznych .
- C. w kawałkach, bez opakowania.
- D. luzem, pokrojona na plasterki.

Zadanie 50.

Z przedstawionego fragmentu dowodu księgowego Wz wystawionego przez hurtownię pasmanteryjną wynika, że wartość wydanych towarów wynosi

- A. 250,00 zł
- B. 190,00 zł
- C. 165,00 zł
- D. 145,00 zł

L.p.	Nazwa towaru	SWW	J.m.	Ilość	Cena w zł	Wartość w zł
1.	Zamki błyskawiczne	2561-19-01	szt	50	2,10	105,00
2.	Nici białe	2561-19-03	szt	50	1,70	85,00
3.	Wstążka biała	2561-19-10	m	100	0,60	60,00