

Zawód: **sprzedawca**
Symbol cyfrowy zawodu: **522[01]**
Wersja arkusza: **Y**

**EGZAMIN
POTWIERDZAJĄCY KWALIFIKACJE
ZAWODOWE**

522[01]-0Y-092

ETAP PISEMNY

**CZERWIEC
2009**

Instrukcja dla zdającego

1. Sprawdź, czy arkusz egzaminacyjny zawiera 22 strony. Ewentualny brak stron lub inne usterki zgłoś przewodniczącemu zespołu nadzorującego.
2. Do arkusza dołączona jest KARTA ODPOWIEDZI, na której:
 - wpisz symbol cyfrowy zawodu,
 - zamaluj kratkę z oznaczeniem wersji arkusza,
 - wpisz swój numer PESEL,
 - wpisz swoją datę urodzenia,
 - przyklej naklejkę ze swoim numerem PESEL w oznaczonym miejscu na karcie.
3. Arkusz egzaminacyjny składa się z dwóch części. Część I zawiera 50 zadań, część II 20 zadań.
4. Za każde poprawnie rozwiązane zadanie uzyskasz 1 punkt.
5. Aby zdać etap pisemny egzaminu, musisz uzyskać co najmniej 25 punktów z części I i co najmniej 6 punktów z części II.
6. Czytaj uważnie wszystkie zadania.
7. Rozwiązania zaznaczaj na KARCIE ODPOWIEDZI długopisem lub piórem z czarnym tuszem/atramentem.
8. Dla każdego zadania podane są cztery odpowiedzi: A, B, C, D. Odpowiada im następujący układ krater na KARCIE ODPOWIEDZI:

A	B	C	D
---	---	---	---

9. Tylko jedna odpowiedź jest poprawna.
10. Wybierz właściwą odpowiedź i zamaluj kratkę z odpowiadającą jej literą - np. gdy wybrałeś odpowiedź „A”:

<input checked="" type="checkbox"/>	B	C	D
-------------------------------------	---	---	---

11. Staraj się wyraźnie zaznaczać odpowiedzi. Jeżeli się pomylisz i błędnie zaznaczysz odpowiedź, otocz ją kółkiem i zaznacz odpowiedź, którą uważasz za poprawną, np.

<input checked="" type="checkbox"/>	B	C	<input checked="" type="checkbox"/>
-------------------------------------	---	---	-------------------------------------

12. Po rozwiązaniu testu sprawdź, czy zaznaczyłeś wszystkie odpowiedzi na KARCIE ODPOWIEDZI i wprowadziłeś wszystkie dane, o których mowa w punkcie 2 tej instrukcji.

Pamiętaj, że oddajesz przewodniczącemu zespołu nadzorującego tylko KARTĘ ODPOWIEDZI.

Powodzenia!

**Czas trwania
egzaminu
120 minut**

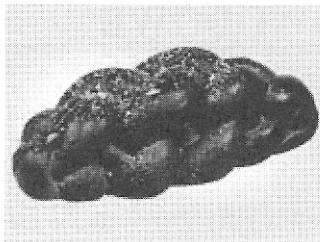
**Liczba punktów
do uzyskania:
z części I – 50 pkt.
z części II – 20 pkt.**

CZĘŚĆ I

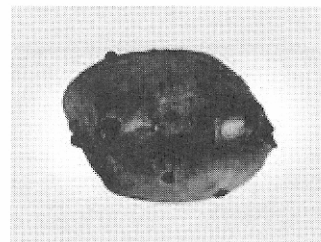
Zadanie 1.

Przedstawione na rysunku towary zalicza się do grupy pieczywa

- A. pszennego półcukierniczego.
- B. pszennego zwykłego.
- C. mieszanego.
- D. żytniego.



chałka



bułka maślana z rodzynekami

Zadanie 2.

Metoda konserwowania żywności, np. mleka i przetworów owocowych, polegająca na jednokrotnym ogrzewaniu produktu w temperaturze w przedziale od 60 °C do 100 °C to

- A. sterylizacja.
- B. pasteryzacja.
- C. tyndalizacja.
- D. blanszowanie.

Zadanie 3.

Surowcem włókienniczym pochodzenia zwierzęcego jest

- A. bawełna.
- B. wełna.
- C. juta.
- D. len.

Zadanie 4.

W którym z wymienionych zestawów towarów wszystkie artykuły mają wysoką zawartość białka?

- A. Czekolada mleczna, groszek konserwowy, morele.
- B. Fasola szparagowa, filec z kurczaka, rodzynek.
- C. Baton czekoladowy, cebula, mleko skondensowane.
- D. Ser żółty, soja, filec z dorsza.

Zadanie 5.

Na podstawie informacji zamieszczonych w tabeli, wskaż rozmiar spódnicy, jaki należy zaproponować klientce o wymiarach: obwód pasa 68 cm, obwód bioder 93 cm.


Rozmiar	Obwód klatki piersiowej w cm	Obwód pasa w cm	Obwód bioder w cm
34	78-81	63-65	88-91
36	82-85	66-69	92-95
38	86-89	70-73	96-98
40	90-93	74-77	99-102

- A. 40
- B. 38
- C. 36
- D. 34

Zadanie 6.

Przedstawiony znak manipulacyjny, umieszczany na opakowaniach oznacza

- A. „Uwaga kruche”.
- B. „Góra, nie przewracać”.
- C. „W opakowaniu znajdują się kieliszki”.
- D. „Dopuszczone do kontaktu z żywnością”.

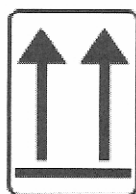


Zadanie 7.

Który z przedstawionych znaków należy do grupy znaków promocyjnych i wzmacnia zaufanie klienta do firmy?




A.



B.



C.



D.

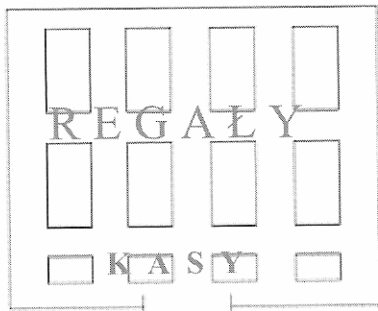
Zadanie 8.

Która forma sprzedaży nie wymaga lokalu sklepowego?

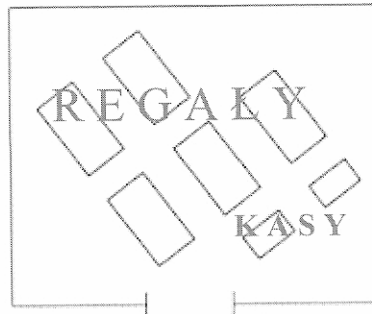
- A. Samoobsługowa.
- B. Preselekcyjna.
- C. Bezpośrednia.
- D. Tradycyjna.

Zadanie 9.

Układ sal sprzedażowych pokazany na rysunkach jest typowy dla sprzedaży



liniowy



rozrzucony

- A. tradycyjnej ze zredukowaną obsługą.
- B. tradycyjnej z rozwiniętą obsługą.
- C. samoobsługowej.
- D. bezpośredniej.


Zadanie 10.

Które towary powinny być ułożone w sali sprzedażowej obok siebie?

- A. W tej samej cenie.
- B. Zaspakajające tę samą potrzebę.
- C. W opakowaniach tej samej wielkości.
- D. W opakowaniach w tym samym kolorze.

Zadanie 11.

Wskaż prawidłowe ułożenie na regale oleju w butelkach o pojemności 0,5 l, 1 l i 5 l.



Zadanie 12.

Produkty nabywane impulsywnie, zaspakajające nieplanowane potrzeby, które cechuje niska cena jednostkowa umieszcza się

- A. przy towarach najdroższych.
- B. w najdalszej części sklepu.
- C. na najwyższych półkach.
- D. przy kasie.

Zadanie 13.

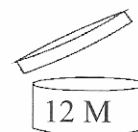
Na półkach obok przetworów zbożowych takich jak: mąka, kasze, makarony można układać

- A. mięso i wędliny.
- B. ryby i przetwory rybne.
- C. nabiał i wyroby garmazeryjne.
- D. cukier i trwałe wyroby cukiernicze.

Zadanie 14.

Przedstawiony rysunek umieszczony na kremie do twarzy oznacza, że produkt należy

- A. zużyć przed upływem 12 miesięcy od momentu otwarcia opakowania.
- B. zużyć przed upływem 12 miesięcy od momentu zakupu towaru.
- C. utrzymywać na twarzy przez 12 minut.
- D. używać po upływie 12 miesięcy.



Zadanie 15.

Na podstawie danych w tabeli wskaż warzywo, które należy przechowywać w magazynie, gdzie wilgotność powietrza wynosi 90%, a temperatura 0 °C.

Nazwa warzywa	Warunki przechowywania	
	temperatura	wilgotność
Cebula	od 0 °C do 1 °C	od 70% do 75%
Czosnek	0 °C	od 60% do 70%
Por	0 °C	od 90% do 98%
Papryka	od 7 °C do 10 °C	od 85% do 90%

- A. Czosnek.
- B. Papryka.
- C. Cebula.
- D. Por.

Zadanie 16.

W punktach obrotu detalicznego towary handlowe zgodnie z ustawą o rachunkowości powinny być inwentaryzowane

- A. raz w roku.
- B. raz w miesiącu.
- C. raz w ciągu dwóch lat.
- D. raz w ciągu czterech lat.

Zadanie 17.

Inwentaryzację towarów w hurtowni przeprowadza się metodą

- A. uzgodnienia sald.
- B. spisu z natury.
- C. weryfikacji dokumentów.
- D. ustaloną przez kierownika jednostki.

Zadanie 18.

Korzystając z fragmentu instrukcji inwentaryzacyjnej wskaż osobę, która podejmuje decyzję o sposobie rozliczenia różnic inwentaryzacyjnych towarów podobnych.

- A. Główny księgowy.
- B. Osoba dokonująca spisu z natury.
- C. Osoba materialnie odpowiedzialna.
- D. Kierownik jednostki gospodarczej.

<p style="text-align: center;"><i>Fragment instrukcji inwentaryzacyjnej.</i> Instrukcja inwentaryzacyjna Hurtowni Materiałów Budowlanych sp. z o. o. wprowadzona decyzją Prezesa Zarządu nr 5/2009</p> <p style="text-align: center;">Par. 22</p> <p>Na wniosek osób odpowiedzialnych materialnie, zespołów spisowych, komisji inwentaryzacyjnej, głównego księgowego, może być dokonana kompensata niedoborów i nadwyżek stwierdzonych na towarach podobnych (...)</p> <p style="text-align: center;">Par. 23</p> <p>Kierownik jednostki, na wniosek komisji inwentaryzacyjnej zamieszczony w protokole weryfikacji różnic inwentaryzacyjnych, zaopiniowany przez głównego księgowego, podejmuje decyzję o sposobie rozliczenia różnic(...)</p>

Zadanie 19.

Udzielenie gwarancji jakości towaru następuje przez

- A. potwierdzenie sprzedaży towaru paragonem.
- B. ustne zagwarantowanie jakości przez sprzedawcę.
- C. wręczenie kupującemu paragonu razem z nabytym towarem.
- D. wręczenie kupującemu wraz z towarem dokumentu gwarancyjnego.

Zadanie 20.

Umowę sprzedaży gotówkowej uważa się za zawartą, gdy zostaną wykonane czynności:

- A. wydanie towaru, inkaso należności i wydanie dokumentu sprzedaży.
- B. zapakowanie towaru, wydanie towaru i pożegnanie klienta.
- C. prezentacja towaru, inkaso należności i wydanie towaru.
- D. wydanie towaru, inkaso należności i pożegnanie klienta.

Zadanie 21.

Obsługa klienta zdecydowanego w osiedlowym sklepie spożywczym z tradycyjną formą sprzedaży przebiega według schematu:

- A. przywitanie klienta, ustalenie potrzeb, podanieżądanego towaru, inkaso należności, pożegnanie.
- B. przywitanie klienta, ustalenie potrzeb, doradztwo w wyborze, podanie towaru, inkaso należności, pożegnanie.
- C. przywitanie klienta, ustalenie potrzeb, prezentacja towarów, doradztwo w wyborze, podanie towaru, inkaso należności, pożegnanie.
- D. przywitanie klienta, ustalenie potrzeb, prezentacja towarów, doradztwo w wyborze, podanie towaru, negocjowanie ceny, inkaso należności, pożegnanie.

Zadanie 22.

Które z wymienionych towarów mogą być sprzedawane z automatów?

- A. Zeszyty, napoje, warzywa.
- B. Pieczywo, zabawki, owoce.
- C. Odzież, obuwie, cukierki paczkowane.
- D. Bilety komunikacji miejskiej, napoje, batoniki.

Zadanie 23.

Który z wymienionych towarów można reklamować z tytułu niezgodności towaru z umową, jeżeli niezgodność została zgłoszona we właściwym terminie?

- A. Odbarwioną bluzkę wypraną w zbyt wysokiej temperaturze.
- B. Torebkę zniszczoną na skutek naturalnego zużycia surowca.
- C. Płaszcz, którego materiał uległ odbarwieniu podczas deszczu.
- D. Rozdartą sukienkę na skutek nieuwagi użytkownika.

Zadanie 24.

Kiedy sprzedawca **nie ma** obowiązku wydania pisemnego potwierdzenia zawarcia umowy sprzedaży?

- A. Przy sprzedaży na raty.
- B. Na życzenie konsumenta.
- C. Przy sprzedaży za cenę powyżej 2 tysięcy złotych.
- D. Przy sprzedaży za gotówkę za cenę do 2 tysięcy złotych.

Zadanie 25.

W której sytuacji klient **nie może żądać** zwrotu gotówki za zareklamowany towar z tytułu jego niezgodności z umową?

- A. Sprzedawca proponuje wymianę reklamowanego towaru na identyczny towar zgodny z umową.
- B. W punkcie serwisowym odmówiono naprawy towaru w ustawowym terminie.
- C. Sprzedawca proponuje wymianę reklamowanego towaru na inny towar.
- D. Naprawa towaru jest niemożliwa.

Zadanie 26.

Prezentacja towarów w tradycyjnej formie sprzedaży odbywa się

- A. u producenta.
- B. u dystrybutora.
- C. u konsumenta.
- D. w lokalu sklepowym.

Zadanie 27.

Cena zakupu przez drogerię kremu pielęgnacyjnego *Natura* jest niższa o 20% od jego ceny detalicznej wynoszącej 30 zł/szt. W jakiej cenie drogeria zakupiła krem?

- A. 6 zł/szt.
- B. 24 zł/szt.
- C. 30 zł/szt.
- D. 36 zł/szt.

Zadanie 28.

Cena zakupu netto tabliczki czekolady wynosi 4 zł/szt., marża detaliczna stanowi 20% ceny sprzedaży netto. Kwota marży realizowana na sprzedaży tabliczki czekolady wynosi

- A. 0,80 zł/szt.
- B. 1,00 zł/szt.
- C. 5,00 zł/szt.
- D. 8,00 zł/szt.

Zadanie 29.

Właścicielka sklepu spożywczego zakupiła 80 kg cukierków w cenie 10 zł/kg. Aby sprzedaż cukierków była opłacalna, ustaliła marżę na poziomie 30% ceny zakupu. Jaką kwotę uzyska z marży, jeśli zostaną sprzedane wszystkie cukierki?

- A. 24 zł
- B. 30 zł
- C. 240 zł
- D. 300 zł

Zadanie 30.

Podatek VAT od sprzedaży towarów opodatkowanych stawką 22% wynosi 220 złotych. Jaka jest wartość obrotu, od którego został obliczony podatek VAT?

- A. 1 000 zł
- B. 220 zł
- C. 100 zł
- D. 48 zł

Zadanie 31.

Piekarnia w okresie sprawozdawczym osiągnęła obrót w wysokości 200 000 złotych. Limit na pokrycie niedoboru niezawinionego został ustalony na poziomie 0,21% wartości obrotu. Ile może wynosić szacunkowa kwota niedoboru mieszczącego się w granicach ustalonych norm ubytków naturalnych?

- A. 4 000 zł
- B. 2 200 zł
- C. 440 zł
- D. 400 zł

Zadanie 32.

Właściciel sklepu odzieżowego dokonał posezonowej obniżki cen przedstawionych towarów. Oszacuj ceny tych towarów po przecenie.

Bluza polarowa



**Cena: 89,00 zł / szt.
minus 10%**

Bluza z kapturem



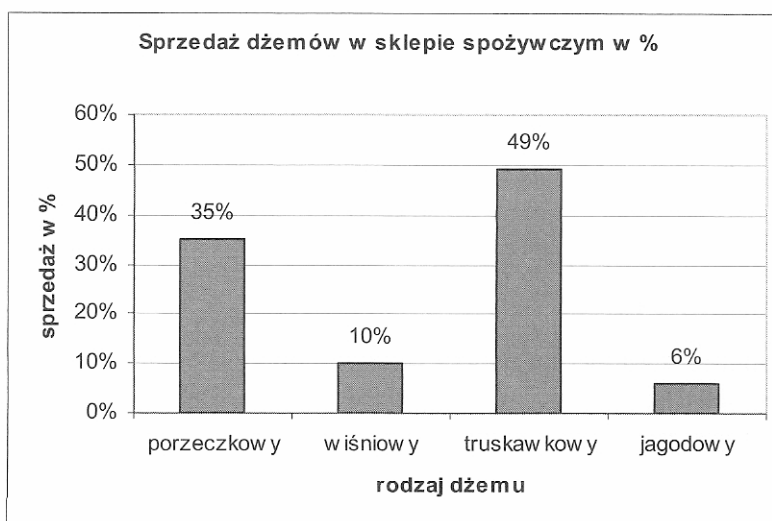
**Cena: 101 zł / szt.
minus 15%**

- A. Bluza polarowa - około 80 zł, bluza z kapturem - około 85 zł
- B. Bluza polarowa - około 90 zł, bluza z kapturem - około 85 zł
- C. Bluza polarowa - około 90 zł, bluza z kapturem - około 100 zł
- D. Bluza polarowa - około 80 zł, bluza z kapturem - około 100 zł

Zadanie 33.

Na podstawie danych przedstawionych na wykresie wskaż dżem, który cieszył się największym zainteresowaniem klientów.

- A. Wiśniowy.
- B. Jagodowy.
- C. Truskawkowy.
- D. Porzeczkowy.



Zadanie 34.

Przedsiębiorstwo handlu detalicznego w okresie sprawozdawczym osiągnęło sprzedaż w wysokości 40 000 złotych, a przeciętny zapas towarów wyniósł 10 000 złotych. Ile razy został sprzedany zapas przeciętny?

- A. 40 razy.
- B. 10 razy.
- C. 4 razy.
- D. 1 raz.

Zadanie 35.

Zamieszczona tabela informuje o osiągniętych przez jednostkę handlową wskaźnikach rotacji w razach i w dniach w poszczególnych kwartałach 2009 r. W którym kwartale hurtownia najczęściej odnawiała swoje zapasy?

- A. W pierwszym.
- B. W drugim.
- C. W trzecim.
- D. W czwartym.

Kwartał	Wskaźnik rotacji	
	w razach	w dniach
Pierwszy	4	22,5
Drugi	6	15,0
Trzeci	3	24,5
Czwarty	7	14,0

Zadanie 36.

Klient zakupił 1 kg mięsa mielonego w cenie 12,50 zł/kg i 0,50 kg szynki *Babuni* po 15,00 zł/kg. Ile powinien zapłacić za zakupione towary?

- A. 12,50 zł
- B. 15,00 zł
- C. 20,00 zł
- D. 27,50 zł

Zadanie 37.

Jednostka handlowa sprzedała towar kontrahentowi z Francji o wartości 20 000 EUR. Średni kurs euro w dniu wystawienia faktury wynosił 4,40 zł/EUR. Należność liczona w złotych od kontrahenta wyniesie?

- A. 20 000 zł
- B. 44 000 zł
- C. 80 000 zł
- D. 88 000 zł

Zadanie 38.

Klient zakupił towary według przedstawionego paragonu kasy fiskalnej i podał kasjerowi banknot 100 złotowy. Jaką kwotę reszty klient powinien otrzymać?


- A. 24,21 zł
- B. 75,79 zł
- C. 100,00 zł
- D. 124,21 zł

Sklep Rybny, ul Długa 6	
49-300 Brzeg	
NIP 747-133-38-16	
Dn 05.05.0X. nr wydr 399999	
PARAGON FISKALNY	
Pł. śledziowe	0,79 * 11,00 = 8,69 C
Filet panga	0,97 * 16,00 = 15,52 C
Kw.op.C=3%	24,20 PTU 0,71
	Razem PTU 0,71
RAZEM	24,21
Gotówka	100,00
Reszta

Zadanie 39.

Hurtownia Artykułów Spożywczych otrzymała od stałego klienta drogą e-mailową zamówienie na 24 sztuki wody *Natura*. Na podstawie zamieszczonego fragmentu oferty Hurtowni Artykułów Spożywczych, wskaż wartość sprzedaży netto przygotowanego do wydania towaru klientowi.

- A. 48,80 zł
- B. 40,00 zł
- C. 24,40 zł
- D. 20,00 zł

Woda Natura	
12 szt. / zgrzewka	
	
cena netto:	20,00 PLN
VAT:	22 %
cena brutto:	24,40 PLN
jednostka:	zgrzewka

Zadanie 40.

Kartoteka magazynowa							
Hurtownia Artykułów Spożywczych „Smaczek” Sp. z o. o. ul. Lipowa 12 30 -407 Brzeg				Ciastka kruche			
				Cena zakupu netto		9,00 zł/kg	
				Jednostka miary			kg
L.p.	Data	Dowód	Treść	Przychód	Rozchód	Stan	
1.	1.06.09	BO	Saldo początkowe	950	-----	950	
2.	4.06.09	Pz 11/09	Zakup	150	-----	1 100	
3.	5.06.09	Wz 4/09	Sprzedaż	-----	100	1 000	

Na podstawie danych z przedstawionej kartoteki magazynowej, określ wartość ciastek kruchych na dzień 6 czerwca 2009 r.

- A. 9 900 zł
- B. 9 400 zł
- C. 9 000 zł
- D. 8 550 zł

Zadanie 41.

FAKTURA KORYGUJĄCA NR 25/06/2010 r. Bydgoszcz, 20.06.2010 r.														
ORYGINAŁ / KOPIA * KOREKTA *														
Sprzedawca: Przedsiębiorstwo Produkcyjne TARA 85-102 Bydgoszcz ul. Piękna 3 NIP :746-234-09-23 Nr konta: 70 1320 022 0097 0104 8765 9841						Nabywca: Hurtownia Odzieżowa DIANA 50-310 Wrocław, ul. Kolorowa 56 NIP 898-678-43-12				Nr rachunku bankowego: 70 1320 022 0097 0104 8765 9841 Sposób zapłaty: przelew Do faktury VAT nr 56/06/2010 Data wystawienia: 10.06.2010 r. Data sprzedaży: 8.06.2010 r.				
Przed korektą	L.p.	Nazwa wyrobu, towaru lub usługi	PKWiU	J.m.	Ilość	Cena jedno. bez podatku		Wartość bez podatku		Podatek		Wartość z podatkiem		
					zł gr		zł gr		Stawka %	Kwota		zł gr		
										zł gr				
	1	Kurtki skórzane		szt	50	300	00	15 000	00	22	3 300	00	18 300	00
	Razem:							15 000	00	22	3 300	00	18 300	00
Po korekcie	1	Kurtki skórzane		szt	40	300	00	12 000	00	22	2 640	00	14 640	00
	Razem							12 000	00	22	2 640	00	14 640	00
	Wartość korekty					Różnica		3 000	00	22	660	00	3 660	00
Słownie zł: trzy tysiące sześćset sześćdziesiąt														
Jerzy Piotrowski			Jan Nowakowski			Tytuł zmniejszenia podatku: reklamacja								
Data i podpis osoby upoważnionej do odbioru faktury korygującej			Wystawiający fakturę korygującą			towar zwrócony sprzedawcy, zwrot nabywcy kwot nienależnych, zwrot sprzedawcy zaliczek, przedpłat, zadatków, rabat-bonifikata, upust, uznana reklamacja, skonto								

Dla kogo przeznaczony jest oryginał przedstawionej faktury korygującej?

- A. Dla Jana Nowakowskiego.
- B. Dla Jerzego Piotrowskiego.
- C. Dla Hurtowni Odzieżowej DIANA.
- D. Dla Przedsiębiorstwa Produkcyjnego TARA.

Zadanie 42.

Sprzedawca punktu sprzedaży detalicznej powinien wydać klientowi paragon kasy fiskalnej

- A. wyłącznie na życzenie kupującego.
- B. niezwłocznie po dokonaniu sprzedaży.
- C. w ciągu siedmiu dni od dnia dokonania sprzedaży.
- D. do końca miesiąca, w którym dokonano sprzedaży.

Zadanie 43.

Wskaż zasadę rozmieszczenia towarów w sklepie, mającą na celu zachęcenie klienta do zakupów i przynoszącą duże zyski.

- A. Towary tańsze są układane wyżej, a droższe niżej.
- B. Towary lekkie są układane wyżej, a ciężkie niżej.
- C. Towary drogie, rzadko kupowane są układane na regale przy kasie.
- D. Towary nabywane pod wpływem impulsu, na których realizowana jest największa marża są układane na wysokości oczu klienta.

Zadanie 44.

W jaki sposób na działalność małych sklepów wpłynie pojawienie się w ich pobliżu wielkopowierzchniowych placówek handlowych?

- A. Spadną obroty małego sklepu.
- B. Wzrośnie podaż towarów w małym sklepie.
- C. Wzrośnie popyt na towary oferowane przez mały sklep.
- D. Spadnie liczba reklamacji na towary sprzedawane w małym sklepie.

Zadanie 45.

Okresowe szkolenie pracownika w zakresie bezpieczeństwa i higieny pracy powinno się odbyć

- A. w godzinach pracy i na koszt pracownika.
- B. po godzinach pracy i na koszt pracodawcy.
- C. po godzinach pracy i na koszt pracownika.
- D. w godzinach pracy i na koszt pracodawcy.

Zadanie 46.

W sklepach samoobsługowych sprzedaż wędlin i serów na wagę powinna odbywać się na

- A. wyodrębnionych stanowiskach i przez odrębnego sprzedawcę.
- B. wyodrębnionych stanowiskach i przez tego samego sprzedawcę.
- C. tych samych stanowiskach i przez tego samego sprzedawcę.
- D. tych samych stanowiskach, ale przez odrębnego sprzedawcę.

Zadanie 47.

Sklep dokonujący sprzedaży mięsa i wędlin powinien posiadać umywalkę wyposażoną w armaturę

- A. z bieżącą wodą oraz lusterko.
- B. z bieżącą zimną i ciepłą wodą oraz lusterko.
- C. z bieżącą zimną i ciepłą wodą, środki do mycia rąk oraz krem do rąk.
- D. z bieżącą zimną i ciepłą wodą, środki do mycia rąk i do ich higienicznego suszenia.

Zadanie 48.

W sklepie samoobsługowym znajduje się masło śmietankowe z czterech różnych dostaw od tego samego producenta. Masło, z której dostawy powinno być wyłożone na półkach stoiska nabiałowego najbliższej klienta?

- A. Czwartej.
- B. Trzeciej.
- C. Drugiej.
- D. Pierwszej.

Dostawa	Termin przydatności do spożycia
Pierwsza	08.09.2010 r.
Druga	27.08.2010 r.
Trzecia	30.10.2010 r.
Czwarta	27.11.2010 r.

Zadanie 49.

Sprzedawca marketu przemysłowego, układający towary na dużych wysokościach, powinien stosować przede wszystkim środki ochrony

- A. głowy.
- B. słuchu.
- C. oczu.
- D. twarzy.

Zadanie 50.

Podczas upadku z wysokości, u pracownika hurtowni ceramiki budowlanej, który nie stosuje środków ochrony indywidualnej najczęściej zagrożone są następujące części ciała:

- A. czaszka i ręce.
- B. czaszka i oczy.
- C. czaszka, nogi i oczy.
- D. czaszka, ręce i nogi.