

**EGZAMIN**  
**POTWIERDZAJĄCY KWALIFIKACJE ZAWODOWE**  
**Czerwiec 2010**


**Etap pisemny**

**Instrukcja dla zdającego**



1. Sprawdź, czy arkusz egzaminacyjny zawiera 23 strony. Ewentualny brak stron lub inne usterki zgłoś przewodniczącemu zespołu nadzorującego.
2. Do arkusza dołączona jest KARTA ODPOWIEDZI, na której:
  - wpisz symbol cyfrowy zawodu,
  - zamaluj kratkę z oznaczeniem wersji arkusza,
  - wpisz swój numer PESEL,
  - wpisz swoją datę urodzenia,
  - przyklej naklejkę ze swoim numerem PESEL w oznaczonym miejscu na karcie.
3. Arkusz egzaminacyjny składa się z dwóch części. Część I zawiera 50 zadań, część II 20 zadań.
4. Za każde poprawnie rozwiązane zadanie możesz uzyskać 1 punkt.
5. Aby zdać etap pisemny egzaminu, musisz uzyskać co najmniej 25 punktów z części I i co najmniej 6 punktów z części II.
6. Czytaj uważnie wszystkie zadania.
7. Rozwiązania zaznaczaj na KARCIE ODPOWIEDZI długopisem lub piórem z czarnym tuszem/atramentem.
8. Do każdego zadania podane są cztery odpowiedzi: A, B, C, D. Odpowiada im następujący układ krerek na KARCIE ODPOWIEDZI:

A	B	C	D
---	---	---	---

9. Tylko jedna odpowiedź jest poprawna.
10. Wybierz właściwą odpowiedź i zamaluj kratkę z odpowiadającą jej literą – np. gdy wybrałeś odpowiedź "A":

	B	C	D
---	---	---	---

11. Staraj się wyraźnie zaznaczać odpowiedzi. Jeżeli się pomylisz i błędnie zaznaczysz odpowiedź, otocz ją kółkiem i zaznacz odpowiedź, którą uważasz za poprawną, np.

	B	C	
---	---	---	---

12. Po rozwiązaniu testu sprawdź, czy zaznaczyłeś wszystkie odpowiedzi na KARCIE ODPOWIEDZI i wprowadziłeś wszystkie dane, o których mowa w punkcie 2 tej instrukcji.

**Pamiętaj, że oddajesz przewodniczącemu zespołu nadzorującego tylko  
KARTĘ ODPOWIEDZI**

***Powodzenia!***

# Część I

## Zadanie 1.

Pieniądz nie pełni funkcji

- A. środka wymiany.
- B. środka tezauryzacji.
- C. miernika wartości towarów.
- D. miernika użyteczności produktów.

## Zadanie 2.

Wysoka elastyczność cenowa występuje, gdy procentowa zmiana wielkości popytu jest

- A. mniejsza od procentowej zmiany ceny.
- B. większa od procentowej zmiany ceny.
- C. mniejsza od procentowej zmiany dochodu.
- D. większa od procentowej zmiany dochodu.

## Zadanie 3.

Spółka osobowa, której wspólnicy sami prowadzą sprawy spółki i wszyscy w pełni odpowiadają za jej zobowiązania osobiście, solidarnie i nieograniczenie, to spółka

- A. akcyjna.
- B. jawna.
- C. komandytowa.
- D. z ograniczoną odpowiedzialnością.

## Zadanie 4.

Który produkt z przedstawionych na zdjęciach jest objęty akcyzą?



A.



B.



C.



D.

### Zadanie 5.

Klient złożył reklamację na aparat fotograficzny. Stwierdzono jej zasadność. Roszczenia klienta powinny być zaspokojone w następującej kolejności:

- A. obniżenie ceny, naprawa, wymiana na nowy aparat, odstąpienie od umowy.
- B. naprawa, obniżenie ceny, wymiana na nowy aparat, odstąpienie od umowy.
- C. naprawa, wymiana na nowy aparat, obniżenie ceny, odstąpienie od umowy.
- D. wymiana na nowy aparat, naprawa, obniżenie ceny, odstąpienie od umowy.

### Zadanie 6.

Na podstawie fragmentu uproszczonego bilansu, wskaż formę organizacyjno-prawną przedsiębiorstwa, które ten bilans sporządziło.

- A. Spółdzielnia.
- B. Spółka jawna.
- C. Przedsiębiorstwo państwowe.
- D. Spółka akcyjna.

<i>Fragment uproszczonego bilansu</i>	
<b>Pasywa</b>	<b>Wartość w zł</b>
KAPITAŁ (FUNDUSZ) WŁASNY	680 000
Kapitał zakładowy	500 000
Kapitał zapasowy	150 000
Kapitał rezerwowy	30 000

### Zadanie 7.

Funkcją marży w przedsiębiorstwie handlowym jest

- A. pokrycie wydatków.
- B. finansowanie zakupów.
- C. podwyższenie wartości zapasów towarów.
- D. pokrycie kosztów działalności i wygospodarowanie zysku.

### Zadanie 8.

Koszt, który **nie jest** dla przedsiębiorstwa wydatkiem, to

- A. amortyzacja środków trwałych.
- B. zapłata prowizji bankowej.
- C. wypłata wynagrodzeń.
- D. spłata należności.

### Zadanie 9.

Na którym rynku przedmiotem obrotu są lokaty terminowe?

- A. Dóbr konsumpcyjnych.
- B. Usług produkcyjnych.
- C. Finansowym.
- D. Pracy.

### Zadanie 10.

Który z elementów czeku **nie jest** obowiązkowy?

- A. Nazwa dokumentu „czek”.
- B. Znak opłaty skarbowej.
- C. Suma czekowa podana cyframi.
- D. Suma czekowa podana słownie.

### Zadanie 11.

Dobra, które wzajemnie się uzupełniają i zakup jednego pociąga za sobą konieczność zakupu drugiego, to dobra

- A. trwałe.
- B. naturalne.
- C. substytucyjne.
- D. komplementarne.

### Zadanie 12.

Podstawą opodatkowania towarów i usług podatkiem VAT jest

- A. cena detaliczna zakupu towarów i usług.
- B. cena hurtowa zakupu towarów i usług.
- C. wartość netto sprzedaży towarów i usług.
- D. wartość brutto sprzedaży towarów i usług.

### Zadanie 13.

Znak ® zamieszczony na etykiecie produktu oznacza

- A. certyfikat jakości.
- B. zarejestrowaną firmę.
- C. zarejestrowaną markę.
- D. certyfikat bezpieczeństwa.



### Zadanie 14.

Przedsiębiorstwo handlowe wykorzystuje, na użytek badań marketingowych, opracowania statystyczne wydane przez GUS. Takie informacje klasyfikuje się jako informacje

- A. wtórne.
- B. pierwotne.
- C. wewnętrzne.
- D. jednorazowe.

### Zadanie 15.

Produkt, cena, promocja i dystrybucja to kontrolowane i kształtowane przez jednostki gospodarcze narzędzia marketingu mix oddziaływania na rynek. Działanie marketingowe producenta odzieży sportowej, który podjął aktywną kampanię informacyjno-propagandową na temat zdrowego stylu życia dotyczy

- A. ceny.
- B. promocji.
- C. produktu.
- D. dystrybucji.

### Zadanie 16.

Marketingowa formuła AIDA stosowana przez sprzedawców towarów oznacza:

- A. **A**-zwróć uwagę **I**-wzbudź zainteresowanie **D**-wzbudź chęć posiadania  
**A**-nakłoń do kupna.
- B. **A**-nakłoń do kupna **I**-zwróć uwagę **D**-wzbudź chęć posiadania  
**A**-wzbudź zainteresowanie.
- C. **A**-zwróć uwagę **I**-wzbudź chęć posiadania **D**-wzbudź zainteresowanie  
**A**-nakłoń do kupna.
- D. **A**-wzbudź zainteresowanie **I**-zwróć uwagę **D**-wzbudź chęć posiadania  
**A**-nakłoń do kupna.

### Zadanie 17.

Obsługa klienta metodą tradycyjną obejmuje czynności wykonywane w kolejności:

- A. prezentacja towaru, wyjaśnianie wątpliwości klienta, ustalanie potrzeb klienta.
- B. wyjaśnianie wątpliwości klienta, prezentacja towaru, ustalanie potrzeb klienta.
- C. prezentacja towaru, ustalanie potrzeb klienta, wyjaśnianie wątpliwości klienta.
- D. ustalanie potrzeb klienta, prezentacja towaru, wyjaśnianie wątpliwości klienta.

## Zadanie 18.



Przedstawiony schemat rozliczenia to

- A. akredytywa.
- B. inkaso faktur.
- C. polecenie zapłaty.
- D. polecenie przelewu.

## Zadanie 19.

Do bezgotówkowych nie zalicza się rozliczeń za pomocą

- A. akredytywy.
- B. polecenia zapłaty.
- C. przekazu pocztowego.
- D. czeku rozrachunkowego.

## Zadanie 20.

Wysokość naliczonego podatku VAT ustala się na podstawie

- A. rejestru zakupu.
- B. noty korygującej.
- C. rejestru sprzedaży.
- D. raportów kasowych.

## Zadanie 21.

Jaki dokument powinien wystawić Sklep „KAJA”, gdy w fakturze, otrzymanej od dostawcy towarów stwierdzono pomyłkę dotyczącą danych adresowych sklepu?

- A. Fakturę VAT.
- B. Kopię faktury.
- C. Notę korygującą.
- D. Zgłoszenie reklamacyjne.

### Zadanie 22.

Do której grupy technologicznej zalicza się rolady?

- A. Kiełbasy.
- B. Wędzonki.
- C. Produkty blokowe.
- D. Wędliny podrobowe.

### Zadanie 23.

Oferowane w sklepie obuwniczym paski skórzane, skarpetki i pasta do butów stanowią asortyment

- A. podstawowy.
- B. uniwersalny.
- C. uzupełniający.
- D. specjalistyczny.

### Zadanie 24.

Płaski obcas, szeroki nosek, łatwość zapinania to cechy, które muszą być spełnione przez obuwie

- A. męskie.
- B. damskie.
- C. dziecięce.
- D. młodzieżowe.

### Zadanie 25.

Jeżeli cena brutto towaru opodatkowanego stawką podstawową podatku VAT wynosi 61,00 zł, to cena netto towaru wynosi

- A. 50,00 zł
- B. 55,45 zł
- C. 57,01 zł
- D. 59,22 zł

### Zadanie 26.

Sklep spożywczy zakupił towar po cenie netto 20 zł i sprzedaje go stosując marżę 20% liczoną od ceny sprzedaży. Jeżeli towar objęty jest stawką podatku VAT 7%, to cena sprzedaży brutto wynosi

- A. 25,00 zł
- B. 26,75 zł
- C. 28,62 zł
- D. 30,62 zł

### Zadanie 27.

Na których kontach księgowych należy dokonać ewidencji rozchodu z magazynu papieru do pakowania towarów?

- A. Dt „Zużycie materiałów i energii”, Ct „Materiały”.
- B. Dt „Towary”, Ct „Zużycie materiałów i energii”.
- C. Dt „Zużycie materiałów i energii”, Ct „Towary”.
- D. Dt „Materiały”, Ct „Zużycie materiałów i energii”.

### Zadanie 28.

Na podstawie danych z wybranych kont oblicz wynik finansowy brutto.

Dt	Rozrachunki z tytułu wynagrodzeń	Ct	Dt	Przychody ze sprzedaży towarów	Ct
	15 000,-			500 000,-	

Dt	Rachunek bankowy	Ct	Dt	Wartość sprzedanych towarów w cenie zakupu	Ct	Dt	Koszty handlowe	Ct
	Sp 30 000,-			300 000,-			56 000,-	

- A. 444 000 zł
- B. 200 000 zł
- C. 144 000 zł
- D. 129 000 zł



### Zadanie 29.

Księgowa hurtowni otrzymała rachunek za transport zakupionych towarów. Koszty księgowane są w Zespole 4. Ewidencji poniesionych kosztów należy dokonać na kontach

- A. Dt „Usługi obce”, Ct „Rozrachunki z dostawcami”
- B. Dt „Koszty zarządu”, Ct „Rozliczenie kosztów”
- C. Dt „Rozliczenie kosztów”, Ct „Koszty zakupu”
- D. Dt „Rachunek bieżący”, Ct „Usługi obce”

### Zadanie 30.

Zmiany w aktywach i pasywach przedsiębiorstwa spowoduje operacja gospodarcza o treści

- A. „zakup materiałów za gotówkę”.
- B. „spłata kredytu bankowego przelewem z rachunku bieżącego”.
- C. „spłata kredytem obrotowym zobowiązań wobec dostawcy”.
- D. „wypłata z kasy zaliczki na delegację służbową pracownika”.

### Zadanie 31.

Przedsiębiorstwo dokonało zakupu towarów i otrzymało fakturę płatną w terminie 14 dni. Kwota wynikająca z faktury stanowi dla przedsiębiorstwa - nabywcy

- A. zobowiązanie z tytułu dostaw i usług.
- B. zobowiązanie długoterminowe.
- C. należność długoterminową.
- D. należność z tytułu dostaw i usług.

### Zadanie 32.

Jeżeli sprzedano środek trwały o wartości początkowej 200 000 zł a dotychczasowe umorzenie wynosi 20 000 zł, to w ciężar konta „Pozostałe koszty operacyjne” należy zaksięgować kwotę

- A. 20 000 zł
- B. 160 000 zł
- C. 180 000 zł
- D. 200 000 zł

### Zadanie 33.

Dt	Materiały	Ct	Dt	Odchylenia od cen ewid. materiałów	Ct
Sp) 20 000,-	8 000,- (1		Sp) 3 000,-	1 000,- (1	

Na podstawie zapisów na kontach księgowych, ustal wartość zapasu materiałów w magazynie w rzeczywistej cenie zakupu.

- A. 12 000 zł
- B. 14 000 zł
- C. 15 000 zł
- D. 23 000 zł

### Zadanie 34.

Ile wynosi saldo końcowe przedstawionego konta księgowego „Kredyty bankowe”?

- A. 5 000 zł
- B. 8 300 zł
- C. 9 300 zł
- D. 10 300 zł

Dt	Kredyty bankowe	Ct
1)1.000 ,-		5.000,- (Sp 4.000,- (2 300,- (3

### Zadanie 35.

*Fragment dokumentu inwentaryzacyjnego sklepu*

L.p.	Treść	Wartość w zł
1.	Stan księgowy towarów według raportu nr 12/08	100 000
2.	Stan faktyczny towarów	94 000

W sklepie między okresami inwentaryzacyjnymi obrót wynosi 1 000 000 zł, a limit ubytków 0,5% wielkości obrotu. Na podstawie przedstawionych danych stwierdzono, że w sklepie występuje

- A. nadwyżka limitu nad niedoborem w wysokości 1 000 zł.
- B. nadwyżka limitu nad niedoborem w wysokości 6 000 zł.
- C. niedobór przekraczający limit o kwotę 1 000 zł.
- D. niedobór przekraczający limit o kwotę 6 000 zł.

### Zadanie 36.

W przedsiębiorstwie handlowym po zakończeniu okresu ustalono na podstawie prowadzonych ksiąg rachunkowych, że

- wynik (zysk) ze sprzedaży wynosi 180 000 zł
- pozostałe przychody operacyjne wynoszą 50 000 zł
- pozostałe koszty operacyjne wynoszą 30 000 zł

Zysk na działalności operacyjnej przedsiębiorstwa za ten okres wynosi

- A. 20 000 zł
- B. 80 000 zł
- C. 200 000 zł
- D. 260 000 zł

### Zadanie 37.

Na podstawie zamieszczonych w tabeli wyników badań marketingowych, dotyczących popytu na słodcze wskaż baton, na który popyt w pierwszym półroczu był największy.

NAZWA TOWARU	POPYT w tys. szt.	
	I KWARTAŁ	II KWARTAŁ
Mars	3 100	2 600
Snickers	3 000	2 800
Twix	2 800	2 500
Bounty	2 400	3 500
RAZEM	11 300	11 400

- A. Mars.
- B. Snickers.
- C. Twix.
- D. Bounty.

### Zadanie 38.

Wyszczególnienie	2008 r.	2009 r.
	Wartość w zł	
Przychody ze sprzedaży	1 000 000	1 200 000

W przedsiębiorstwie ALTA badano dynamikę przychodów ze sprzedaży. Na podstawie danych zamieszczonych w tabeli stwierdzono, że przyrost wartości przychodów w roku 2009 w stosunku do wartości przychodów w 2008 r. wynosi

- A. 20%
- B. 80%
- C. 117%
- D. 120%

### Zadanie 39.

Przedsiębiorstwo ATRA przedstawiło do dyskonta weksel na sumę 3 000 zł ( $S_w$ ).

Oblicz na podstawie wzoru wartość sumy dyskontowej ( $S_d$ ), wiedząc, że weksel jest płatny po 60 dniach ( $t$ ), a roczna stopa oprocentowania wynosi 20% ( $i$ ).

- A. 100 zł
- B. 600 zł
- C. 2 900 zł
- D. 3 100 zł

$$S_d = \frac{S_w \cdot i \cdot t}{360 \cdot 100}$$

### Zadanie 40.

Cena towaru gatunku II jest niższa o 180 zł od ceny towaru I gatunku co stanowi 10% ceny gatunku I. Ile wynosi cena towaru gatunku I?

- A. 190 zł
- B. 198 zł
- C. 1 620 zł
- D. 1 800 zł

### Zadanie 41.

Adresat		Dostawca		PZ Przyjęcie materiałów zewn.		Nr bieżący	Egz.	
Hurtownia Artykułów Biurowych „PRZYBORNIK” Sp. z o.o.		Sklep „ALFA” Sp. z o.o.				Pz		
						2/04/10		
Nr zamówienia	Środek transportu	Przeznaczenie	Data wysyłki	Wysyłka na koszt	Nr i data faktury			
120/04/10					15/04/10 21/04/10			
Nr indeksu materiałowego	Nazwa materiału	Ilość			cena	Wartość	Konto syntet. mat.	Stan końcowy
		otrzymana	j.m.	przyjęta	złoty /gr	złoty / gr		
Segregator	32445466	140	szt.	140	4,40	616,00		260
Długopis Pentel BK	21334355	80	szt.	80	3,20	256,00		150
wystawił	zatwierdził	dostarczył	data	przyjął	Ewidencja ilość, wartość			

Na podstawie dowodu Pz ustal ile wynosi zapas początkowy segregatorów.

- A. 120 szt.
- B. 140 szt.
- C. 260 szt.
- D. 400 szt.

### Zadanie 42.

Kartoteka Magazynowa						
FHU „Moje biuro” ul. Spokojna 4 33-870 Tarnów				Segregator		
Jednostka miary szt.				Cena zakupu 5,50 zł/szt.		
L.p.	Data	Symbol i numer dowodu	Przeznaczenie	Przychód	Rozchód	Stan
1.	5.05.10	Pz 45/10	Do sprzedaży	550		550
2.	10.05.10	Wz 90/10	Sprzedaż		80	

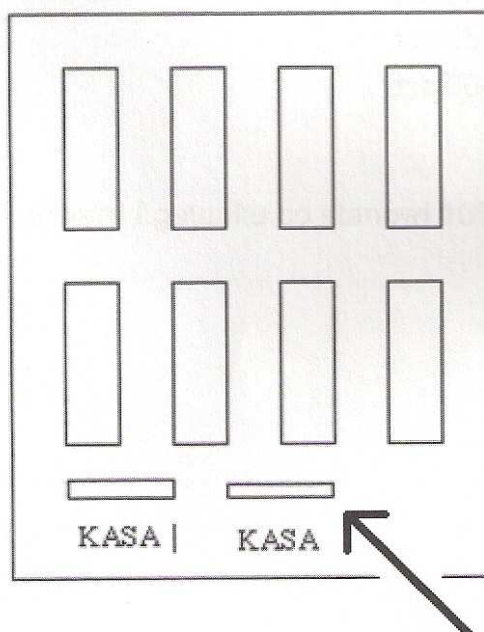
Jaki stan ilościowy segregatorów należy wpisać do kartoteki magazynowej w dniu 10.05.10 roku?

- A. 50 szt.
- B. 80 szt.
- C. 470 szt.
- D. 550 szt.

### Zadanie 43.

Które towary, zgodnie z zasadą ekspozycji towarów, powinno się ułożyć w miejscu wskazanym strzałką na schemacie sali sprzedażowej?

- A. Towary specjalne.
- B. Towary częstego zakupu
- C. Towary sporadycznego zakupu.
- D. Towary kupowane pod wpływem impulsu.



#### Zadanie 44.


Którą formę sprzedaży powinno się stosować przy sprzedaży paczkowanych mrożonek owocowych?

- A. Z automatów.
- B. Preselekcyjną.
- C. Samoobsługową.
- D. Z rozwiniętą obsługą.

#### Zadanie 45.

Przedstawiony znak umieszczany na etykiecie towaru informuje

- A. o wysokiej jakości towaru.
- B. o krótkiej przydatności towaru do spożycia
- C. o pochodzeniu towaru z importu.
- D. o zgodności towaru z wymaganiami w zakresie bezpieczeństwa i zdrowia użytkowników.



#### Zadanie 46.

Ogólna zasada ochrony przeciwpożarowej to zakaz

- A. wykonywania czynności mogących spowodować pożar.
- B. spalania śmieci w miejscu umożliwiającym zapalenie się sąsiednich obiektów.
- C. użytkowania elektrycznych urządzeń grzewczych ustawionych na podłożu palnym.
- D. rozgrzewania za pomocą ognia materiałów w odległości mniejszej niż 5 m od obiektu.

#### Zadanie 47.

Dokument oznaczony kategorią BE 5 należy

- A. przekazać do archiwum państwowego na 5 lat, a następnie przechowywać w siedzibie przedsiębiorstwa.
- B. przechowywać w siedzibie przedsiębiorstwa przez 5 lat, a następnie przekazać do biura rachunkowego.
- C. przechowywać w siedzibie przedsiębiorstwa przez 5 lat, a następnie przekazać do ekspertyzy archiwalnej.
- D. przekazać do biura rachunkowego na 5 lat, a następnie przechowywać w siedzibie przedsiębiorstwa.

### **Zadanie 48.**

Dokumenty inwentaryzacyjne przechowuje się

- A. 5 lat.
- B. 25 lat.
- C. 50 lat.
- D. 75 lat.

### **Zadanie 49.**

Czerwona barwa sygnalizatora świetlnego w magazynie hurtowni oznacza

- A. niebezpieczeństwo.
- B. wolne drogi transportu.
- C. ostrzeżenie przed uruchomieniem urządzeń transportujących.
- D. ostrzeżenie przed przedmiotami będącymi w ruchu.

### **Zadanie 50.**

Nieprzestrzeganie przez pracownika hurtowni norm dźwigania przy układaniu paczkowanych, ciężkich towarów na górnych półkach magazynu, może stać się przyczyną:

- A. urazu kręgosłupa, zwichnięcia nogi, skaleczenia.
- B. urazu kręgosłupa, urazu kończyn, przepukliny.
- C. zwichnięcia ręki, skaleczenia, przepukliny.
- D. zwichnięcia nogi, potłuczenia, skaleczenia.