

Zawód: **sprzedawca**
Symbol cyfrowy zawodu: **522[01]**
Wersja arkusza: **X**

**EGZAMIN
POTWIERDZAJĄCY KWALIFIKACJE
ZAWODOWE**

*Arkusz zawiera
informacje prawnie
chronione do momentu
rozpoczęcia egzaminu*

522[01]-0X-112

ETAP PISEMNY

Instrukcja dla zdającego

1. Sprawdź, czy arkusz egzaminacyjny zawiera 22 strony. Ewentualny brak stron lub inne usterki zgłoś przewodniczącemu zespołu nadzorującego.
2. Do arkusza dołączona jest KARTA ODPOWIEDZI, na której:
 - wpisz symbol cyfrowy zawodu,
 - zamaluj kratkę z oznaczeniem wersji arkusza,
 - wpisz swój numer PESEL*,
 - wpisz swoją datę urodzenia,
 - przyklej naklejkę ze swoim numerem PESEL w oznaczonym miejscu na karcie.
3. Arkusz egzaminacyjny składa się z dwóch części. Część I zawiera 50 zadań, część II 20 zadań.
4. Za każde poprawnie rozwiązane zadanie uzyskasz 1 punkt.
5. Aby zdać etap pisemny egzaminu, musisz uzyskać co najmniej 25 punktów z części I i co najmniej 6 punktów z części II.
6. Czytaj uważnie wszystkie zadania.
7. Rozwiązania zaznaczaj na KARCIE ODPOWIEDZI długopisem lub piórem z czarnym tuszem/atramentem.
8. Dla każdego zadania podane są cztery odpowiedzi: A, B, C, D. Odpowiada im następujący układ kratek na KARCIE ODPOWIEDZI:

A	B	C	D
---	---	---	---

9. Tylko jedna odpowiedź jest poprawna.
10. Wybierz właściwą odpowiedź i zamaluj kratkę z odpowiadającą jej literą - np. gdy wybrałeś odpowiedź „A”:

<input checked="" type="checkbox"/>	B	C	D
-------------------------------------	---	---	---

11. Staraj się wyraźnie zaznaczać odpowiedzi. Jeżeli się pomylisz i błędnie zaznaczysz odpowiedź, otocz ją kółkiem i zaznacz odpowiedź, którą uważasz za poprawną, np.

<input checked="" type="checkbox"/>	B	C	<input checked="" type="checkbox"/>
-------------------------------------	---	---	-------------------------------------

12. Po rozwiązaniu testu sprawdź, czy zaznaczyłeś wszystkie odpowiedzi na KARCIE ODPOWIEDZI i wprowadziłeś wszystkie dane, o których mowa w punkcie 2 tej instrukcji.

**Pamiętaj, że oddajesz przewodniczącemu zespołu nadzorującego
tylko KARTĘ ODPOWIEDZI**

**Czerwiec
2011**

**Czas trwania
egzaminu
120 minut**

**Liczba punktów
do uzyskania:
z części I – 50 pkt.
z części II – 20 pkt.**

Powodzenia!

Część I

Zadanie 1.

Zamieszczony rysunek przedstawia


- A. botki.
- B. kozaki.
- C. półbuty.
- D. trzewiki.



Zadanie 2.

Przedstawione na zdjęciu urządzenie niskotemperaturowe służy do przechowywania i ekspozycji mrozonek. Jest typowym wyposażeniem sklepu spożywczego, który prowadzi sprzedaż

- A. tradycyjną.
- B. bezpośrednią.
- C. preselekcyjną.
- D. samoobsługową.



Zadanie 3.

W sytuacji, gdy cena wybranego modelu aparatu fotograficznego wydaje się klientowi za wysoka, sprzedawca powinien

- A. podyskutować z klientem na temat ceny towaru.
- B. obniżyć cenę towaru do możliwości finansowych klienta.
- C. zaproponować inny, równie dobry ale tańszy aparat.
- D. poinformować klienta, że ten sam towar w sklepie obok jest być może nieco tańszy.

Zadanie 4.

Kierownik hipermarketu uzupełnił stan posiadanych środków ochrony indywidualnej dla swoich pracowników. Zamówił większą ilość fartuchów gumowych, które są niezbędnym wyposażeniem stroju roboczego pracownika na dziale

- A. owocowo-warzywnym.
- B. piekarniczym.
- C. nabiałowym.
- D. rybnym.

Zadanie 5.

Który z wymienionych elementów należy uzupełnić w przedstawionym dowodzie wydania na zewnątrz – Wz, aby cały dokument wypełniony był prawidłowo?

HURTOWNIA CHEM. - KOSMETYCZNA UL. ŁĄKOWA 80-796 GDANSK		ODBIORCA: SKLEP „JANTAR” UL. MORSKA 81-002 GDYNIA		WZ – WYDANIE TOWARÓW		DATA 4.05.2011 NR 124/2011	
Nr indeksu	Nazwa towaru	Ilość żądana	Jedn.	Ilość wydana	Cena	Wartość	Zapas
	Pasta do zębów	50	szt.	50	8,00	400,00	1500
	Krem Nivea	80	szt.	80	4,00	320,00	3000
	Mydło Kajtek	50	Szt.	50	2,50	125,00	2000
	Płyn Ludwik	30	Szt.	30	4,50	135,00	1200
	RAZEM						
Wystawił Jan Zgoda		Zatwierdził W. Mróz	Wydał Jan Zgoda	Data 04.05.2011	Odebrał T. Nowak		

- A. Podpis osoby wydającej towar.
- B. Wartość wydanych towarów.
- C. Adres odbiorcy towaru.
- D. Datę wydania towaru.

Zadanie 6.

Zgodnie z przepisami ochrony środowiska, jednostki handlu detalicznego

- A. są zobowiązane do przyjmowania opakowań zwrotnych wielokrotnego użytku po produktach, które znajdują się w ich ofercie handlowej.
- B. są zobowiązane do przyjmowania wszystkich opakowań zwrotnych wielokrotnego użytku.
- C. nie mają obowiązku przyjmowania opakowań zwrotnych wielokrotnego użytku po produktach, które znajdują się w ich ofercie handlowej.
- D. mają obowiązek informowania klienta o miejscach odbioru opakowań zwrotnych.

Zadanie 7.

Wieloletnia praca w wilgotnym, zimnym magazynie przysklepowym może być u pracownika przyczyną

- A. płaskostopia.
- B. żylaków nóg.
- C. reumatyzmu.
- D. chorób kręgosłupa.

Zadanie 8.

W tabeli przedstawiono zadania instytucji, które wspomagają działalność przedsiębiorstwa handlowego. Które z zamieszczonych zadań realizują przedsiębiorstwa transportowe?

A.	Dokonywanie rozliczeń między przedsiębiorstwami.
B.	Zbieranie informacji o potrzebach klientów, organizowanie kampanii reklamowych.
C.	Ubezpieczenie majątku przedsiębiorstwa, wypłata odszkodowań.
D.	Przemieszczanie ludzi i ładunków, zapewnienie przestrzegania łańcucha chłodniczego w trakcie przewozu towarów.

Zadanie 9.

W przypadku niezdolności do pracy trwającej dłużej niż 30 dni pracownik sklepu powinien otrzymać od swojego pracodawcy skierowanie na badania

- A. na nosicielstwo.
- B. przesiewowe.
- C. kontrolne.
- D. wstępne.

Zadanie 10.

W ciągu 180 dni obrót sklepu chemicznego wyniósł 600 000 zł, a zapas przeciętny 30 000 zł. Rotację w dniach oblicza się wg wzoru

$$Rd = (Zp \times D) : O$$

Rd - rotacja w dniach, **Zp** – zapas przeciętny, **D** – ilość dni, **O** - obrót

Oblicz na ile dni wystarczał zapas przeciętny w tym sklepie.

- A. 90 dni.
- B. 20 dni.
- C. 9 dni.
- D. 2 dni.

Zadanie 11.

Zamieszczona tabela przedstawia zasady rozmieszczania wybranych grup towarowych

	W bezpośrednim sąsiedztwie	
	można układać	nie można układać
Pieczywo	Nabiał, wyroby cukiernicze	Mięso, ryby, warzywa, wyroby tytoniowe
Nabiał	Pieczywo, wyroby cukiernicze, przetwory owocowe, tłuszcze roślinne	Mięso, ryby, warzywa, owoce świeże i suszone, wyroby tytoniowe
Wyroby cukiernicze	Wina, wódki, konserwy, owoce, pieczywo, przetwory owocowe, nabiał	Mięso, ryby, warzywa, wyroby garmazeryjne, wyroby tytoniowe
Przetwory zbożowe	Cukier	Mięso, ryby, wyroby cukiernicze, nabiał, wyroby tytoniowe

Sprzedawca układając na zapleczu nową partię nabiału może rozmieścić go na półkach obok

- A. warzyw i owoców.
- B. pieczywa i owoców.
- C. tłuszczów roślinnych i warzyw.
- D. wyrobów cukierniczych i przetworów owocowych.

Zadanie 12.


Zamieszczone ilustracje przedstawiają cztery placówki handlowe oferujące towary różnych branż. Wskaż, w której z nich prowadzona jest samoobsługowa sprzedaż towarów.




A.



B.



C.



D.

Zadanie 13.

W sklepie odzieżowym klientka kupiła spodnie lniane i bluzkę bawełnianą. Zakupione ubrania wykonane zostały z włókien

- A. roślinnych.
- B. zwierzęcych.
- C. chemicznych sztucznych.
- D. chemicznych syntetycznych.

Zadanie 14.

Przygotowując towary do sprzedaży, zgodnie z wymaganiami higieniczno-sanitarnymi, na regałach chłodniczych sprzedawca powinien umieścić

- A. czekolady.
- B. powidła.
- C. dżemy.
- D. jaja.

Zadanie 15.

Przenoszenie przez pracownika towarów o masie przewyższającej obowiązujące normy może spowodować u niego po dłuższym czasie

- A. reakcje alergiczne.
- B. choroby kręgosłupa.
- C. choroby zatok.
- D. zaniki mięśni.

Zadanie 16.

Który z serów należy zaproponować klientowi zainteresowanemu zakupem sera pleśniowego?

- A. Feta.
- B. Brie.
- C. Parmezan.
- D. Oszczypek.

Zadanie 17.

W sklepie owocowo-warzywnym sprzedawca w ciągu godziny sprzedał

- 3 kg winogron w cenie 7,20 zł/kg,
- 20 kg ziemniaków w cenie 0,80 zł/kg,
- 6 kg jabłek w cenie 3,20 zł/kg,
- 3 kg pomarańczy w cenie 5,90 zł/kg.

Stan gotówki w kasie powiększył się

- A. o 74,50 zł
- B. o 58,50 zł
- C. o 56,80 zł
- D. o 55,30 zł

Zadanie 18.

Korzystając z otrzymanego kuponu rabatowego klientka zdecydowała się na zakup przedstawionych produktów.



30,00 zł



20,00 zł



40,00 zł

KUPON RABATOWY

- środki do pielęgnacji włosów – **20%**
- środki do pielęgnacji skóry – **10%**
- środki upiększające – **30%**

Sprzedawczyni wystawiła klientce paragon na kwotę

- A. 90,00 zł
- B. 81,00 zł
- C. 72,00 zł
- D. 63,00 zł

Zadanie 19.


W marcu sklep sprzedał towary na kwotę 210 000 zł. Zapas przeciętny w tym okresie wynosił 70 000 zł. Ile razy sklep musiał odnowić zapas przeciętny, by utrzymać ciągłość sprzedaży?

- A. 1 raz.
- B. 3 razy.
- C. 10 razy.
- D. 30 razy.

Zadanie 20.

Przedstawiony na rysunku znak umieszczony na metce swetra oznacza, że ten sweter powinien być suszony

- A. w suszarce bębnowej.
- B. w pozycji poziomej na słońcu.
- C. w pozycji pionowej w temperaturze pokojowej.
- D. w pozycji poziomej w temperaturze pokojowej.



Zadanie 21.

Na podstawie danych zawartych w tabeli wskaż, jakich środków konserwujących użyto do produkcji „żurawiny do mięsa”, która w swoim składzie zawiera:

E 440	E 330	E 300
-------	-------	-------

- A. Barwniki i zagęszczacze.
- B. Barwniki i przeciwutleniacze.
- C. Konserwanty i przeciwutleniacze.
- D. Zagęszczacze i przeciwutleniacze.

ŚRODKI KONSERWUJĄCE	
E 100 i wyżej	barwniki
E 200 i wyżej	konserwanty
E 300 i wyżej	przeciwutleniacze
E 400 i wyżej	zagęszczacze

Zadanie 22.

Producent **nie ma obowiązku** znakowania datą minimalnej trwałości albo terminem przydatności do spożycia, takich produktów jak

- A. cukier i sól.
- B. mleko i masło.
- C. twarogi i jogurty.
- D. soki i napoje niegazowane.

Zadanie 23.

Jak nazywa się zapas towarów, który mimo podejmowanych działań przez punkt sprzedaży, **nie znajduje** nabywców?

- A. Minimalny.
- B. Przeciętny.
- C. Maksymalny.
- D. Nadmierny.

Zadanie 24.

Na podstawie przedstawionej kartoteki magazynowej wskaż, jaki był rozchód szamponu do dywanów w dniu 02.05.2011 r.

- A. 2 300 szt.
- B. 1 500 szt.
- C. 800 szt.
- D. 700 szt.

KARTOTEKA MAGAZYNOWA						
PHH „ALASKA” 53-520 Zabrze ul. Górna 35				Szampon do dywanów		
Jednostka miary - sztuki					Cena zakupu 11,00zł/sz	
L.p.	Data	Symbol i numer dowodu	Przeznaczenie	Przychód	Rozchód	Stan
1	23.04.2011	Pz 21/2011	do sprzedaży	1 500		1 500
2	02.05.2011	Wz 54/2011	sprzedaż		?	800

Zadanie 25.

Sprzedawca przygotowujący ekspozycję towarów w sali sprzedażowej samoobsługowego sklepu spożywczego powinien

- A. towary z nowej dostawy układać za towarami z krótszymi terminami przydatności do spożycia.
- B. umieszczać na dolnych półkach towary o niewielkich rozmiarach.
- C. oznaczać etykietami cenowymi tylko towary luksusowe.
- D. zmieniać miejsce eksponowania towarów.

Zadanie 26.

Zamieszczona tabela przedstawia wykaz towarów zakupionych przez klienta. Płacąc banknotem 100 zł klient powinien otrzymać resztę w wysokości


- A. 67,00 zł
- B. 70,00 zł
- C. 79,00 zł
- D. 85,00 zł

Nazwa towaru	Ilość w szt.	Cena jednostkowa w zł
Kawa Jacobs	2	9,00
Herbata owocowa	3	4,00
Sok malinowy	1	3,00

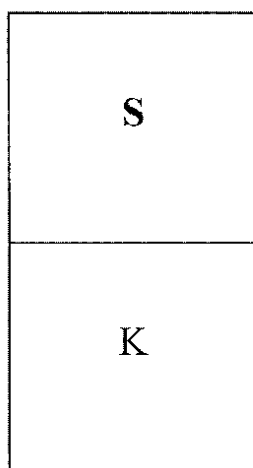
Zadanie 27.

Sala sprzedażowa sklepu z tradycyjną metodą sprzedaży, ma powierzchnię sprzedażową podzieloną na dwie części: część /K/ przeznaczoną dla klientów, zajmującą około 40% i część /S/ przeznaczoną dla sprzedawców zajmującą około 60%.

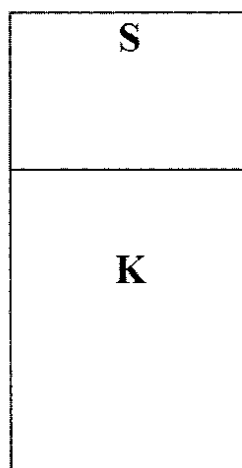
Który z przedstawionych schematów prawidłowo obrazuje podział powierzchni sklepu z tradycyjną metodą sprzedaży?



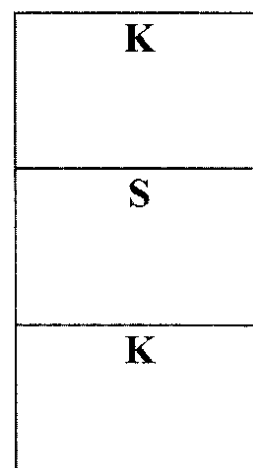
A.



B.



C.



D.

Zadanie 28.

Przedstawiony zakres czynności sprzedawcy charakterystyczny jest dla sprzedaży


- A. obnośnej.
- B. obwoźnej.
- C. wysyłkowej.
- D. akwizycyjnej.

ZAKRES CZYNNOŚCI

- ✓ ustalenie listy nabywców
- ✓ zorganizowanie spotkania
- ✓ prezentacja towaru
- ✓ zamknięcie sprzedaży

Zadanie 29.

W sklepie motoryzacyjnym klient kupił komplet opon zimowych. Towar oznakowany był kodem



Przedstawiona tabela prefiksów wskazuje, że zakupione opony wytworzone zostały przez producenta zarejestrowanego na terenie

- A. Francji.
- B. Niemiec.
- C. Szwecji.
- D. Chin.

prefiks	kraj
690 - 695	Chiny
730 - 739	Szwecja
400- 440	Niemcy
300 - 379	Francja

Zadanie 30.

Rozmieszczając towary w magazynie sklepowym należy

- A. wszystkie przechowywać w jednakowej temperaturze i wilgotności.
- B. podczas składowania uwzględnić ich cechy fizykochemiczne.
- C. systematycznie zmieniać ich miejsca składowania.
- D. układać je na regałach przylegających do ścian.

Zadanie 31.

Klienci sklepu internetowego „Bon Prix” dokonujący zakupów odzieży korzystają ze sprzedaży


- A. osobistej.
- B. obwoźnej.
- C. wysyłkowej.
- D. komisowej.

Zadanie 32.


Zamieszczona tabela przedstawia dane dotyczące przechowywania niektórych gatunków wędlin.

Produkty	Maksymalny okres przechowywania	Temperatura
parówki	do 2 dni	od 2°C do 7°C
salami	do 90dni	od 10°C do 15°C
wędzone suche	do 30 dni	od 10°C do 15°C
pasztety, kaszanka, salceson	do 2 dni	od 2°C do 7°C


W sklepie mięsnym, w odpowiednich warunkach, najdłużej można przechowywać.




A.



B.



C.



D.

Zadanie 33.

Właściciel sklepu sportowego otrzymał cztery oferty warunków dostawy 100 męskich kompletów dresowych. Najkorzystniejszą ofertę nadesłał dostawca

Warunki dostawy	Dostawca			
	A.	B.	C.	D.
Cena dresu	289,00 zł	299,00 zł	279,00 zł	319,00 zł
Wartość zakupu	2 890, 00zł	2 990,00 zł	2 790,00 zł	3 190,00 zł
Koszty dostawy	100,00 zł	70,00 zł	150,00zł	-----
Termin zapłaty	21 dni od dnia dostawy	14 dni od dnia dostawy	21 dni od dnia dostawy	w dniu dostawy

Zadanie 34.

Z treści przedstawionego fragmentu pisma, które było dołączone do dostarczonej do sklepu przesyłki wynika, że jest to

- A. sporządzona pisemna umowa.
- B. potwierdzenie zamówienia.
- C. zapytanie o ofertę.
- D. oferta handlowa.

Wyroby, które prezentujemy w dołączonym katalogu są jedynie częścią naszej bogatej oferty. Wszystkie produkty cieszą się uznaniem klientów. Zapytania dotyczące konkretnych produktów prosimy kierować na adres.....

Zadanie 35.

Podczas inwentaryzacji zdawczo-odbiorczej przeprowadzonej z powodu zmiany kierownictwa sklepu dokonano spisu z natury

- A. towarów znajdujących się na półkach sklepowych.
- B. opakowań i towarów znajdujących się na zapleczu.
- C. wszystkich towarów, gotówki i opakowań.
- D. wszystkich towarów.

Zadanie 36.

Cena netto sprzedaży opakowania farby do włosów wynosi 13,00 zł. Towar ten objęty jest 23% stawką podatku VAT. Cena brutto towaru wynosi

- A. 10,01 zł
- B. 13,00 zł
- C. 13,91 zł
- D. 15,99 zł

Zadanie 37.

Klientka regularnie dokonująca zakupów na targowisku miejskim zauważyła podwyżki cen wielu owoców i warzyw. Najbardziej kwotowo wzrosły ceny

	Towary	Cena przed podwyżką	Cena po podwyżce
A.	pomidory	3,20 zł	4,10 zł
B.	pomarańcze	3,90 zł	5,00 zł
C.	winogrona	6,70 zł	7,40 zł
D.	ziemniaki	1,10 zł	1,60 zł

Zadanie 38.




Pracownik magazynu czyszcząc urządzenie chłodnicze uległ porażeniu prądem. Wystąpiły u niego zaburzenia w oddychaniu. Udzielając poszkodowanemu pierwszej pomocy, w pierwszej kolejności należy

- A. zawiadomić kierownika magazynu i wezwać pogotowie.
- B. położyć go na boku i ciepło okryć (np. kocem).
- C. zastosować sztuczne oddychanie.
- D. odłączyć go od źródła prądu.

Zadanie 39.

W miesiącu styczniu w sklepie sportowym obniżono ceny wielu artykułów sprzętu zimowego. Na podstawie przedstawionych danych ustal, o ile procent obniżono ceny tych artykułów.

- A. O 50%
- B. O 30%
- C. O 20%
- D. O 10%

		
360,00 zł 180,00 zł	150,00 zł 75,00 zł	270,00 zł 135,00 zł

Zadanie 40.

Na podstawie zamieszczonego fragmentu faktury VAT ustal, jaką kwotę powinien zapłacić nabywca w celu uregulowania należności za zakupione towary.

Nazwa towaru	J. m	Ilość	Cena jednostkowa bez podatku w zł	Wartość towaru bez podatku w zł.	Stawka VAT w %	Kwota podatku w zł	Wartość towaru z podatkiem w zł
Talerze płaskie	szt.	30	4,00	120,00	23	27,60	
Miski małe	Szt.	20	5,00	100,00	23	23,00	

- A. 123,00 zł
- B. 147,60 zł
- C. 230,00 zł
- D. 270,60 zł

Zadanie 41.

W tabeli przedstawiono dopuszczalne normy ręcznego dźwigania ciężarów przez kobiety.

Rodzaj pracy	Dopuszczalna masa przedmiotów w kg	Uwaga
Ręczne podnoszenie i przenoszenie ciężarów:		W okresie ciąży i karmienia normy dźwigania zmniejszają się 4- krotnie
– przy pracy stałej	12	
– przy pracy dorywczej	20	

Pracownica będąca w 3 miesiącu ciąży, na stałe pracująca w sklepie spożywczym, może przenosić towary o maksymalnej masie

- A. 20 kg
- B. 12 kg
- C. 5 kg
- D. 3 kg

Zadanie 42.

Właściciel sklepu sportowego chciałby rozszerzyć asortyment o urządzenia do ćwiczeń siłowych. W tym celu wysłał e-maile do producentów i hurtowni z prośbą o przesłanie ofert. Którego etapu zawierania umowy sprzedaży dotyczy przedstawiony opis?

- A. Zapytania o ofertę.
- B. Wysłania oferty sprzedaży.
- C. Wyboru dostawcy towarów.
- D. Negocjowania warunków sprzedaży.

Zadanie 43.

Klient reklamował towar, który okazał się niezgodny z umową. Sprzedawca wypełniając protokół reklamacyjny poinformował klienta, że w pierwszej kolejności może on żądać

- A. naprawy lub wymiany towaru na nowy.
- B. wymiany towaru na nowy.
- C. odstąpienia od umowy.
- D. obniżenia ceny.

Zadanie 44.

Które z przedstawionych znaków gwarantują klientowi bezpieczne i bezproblemowe użytkowanie zakupionego towaru?



I



II



III



IV



V

- A. I i III
- B. III i V
- C. II i IV
- D. III i IV

Zadanie 45.

Wskaż prawidłowy przebieg obsługi klienta w sklepie kosmetycznym prowadzącym sprzedaż swoich towarów metodą tradycyjną.

- A. Prezentacja towarów, zachęcenie do dalszych zakupów, ustalenie potrzeb, inkaso należności.
- B. Ustalenie potrzeb, prezentacja towarów, inkaso należności, zachęcenie do dalszych zakupów.
- C. Ustalenie potrzeb, inkaso należności, prezentacja towarów, zachęcenie do dalszych zakupów.
- D. Prezentacja towarów, ustalenie potrzeb, inkaso należności, zachęcenie do dalszych zakupów.

Zadanie 46.

Z przedstawionego fragmentu dowodu księgowego Wz wynika, że z magazynu wydano towary o łącznej wartości

Nazwa towaru	Ilość żądana	J. m	Ilość wydana	Cena w zł	Wartość w zł
Czekolada Wedel	150	szt.	150	3,50	525,00
Ciastka Delicje	300	szt.	300	4,00	1 200,00
Ptasie mleczko	200	szt.	200	10,00	2 000,00

- A. 3 725,00 zł
- B. 3 200,00 zł
- C. 2 525,00 zł
- D. 1 725,00 zł

Zadanie 47.

W sklepie odzieżowym z nowoczesną formą sprzedaży sprzedawca powinien zgodnie z **zasadą** komplementarności, obok płaszczy wyeksponować

- A. szaliki i sweterki.
- B. szaliki i rękawiczki.
- C. sweterki i spódniczki.
- D. rękawiczki i spódniczki.

Zadanie 48.

Na podstawie danych przedstawiających wynik inwentaryzacji zdawczo-odbiorczej przeprowadzonej w małym sklepie spożywczym ustalono

- A. niedobór w wysokości 200 zł
- B. niedobór w wysokości 500 zł
- C. nadwyżkę w wysokości 200 zł
- D. nadwyżkę w wysokości 500 zł

Stan księgowy	26 000,00 zł
Dane ze spisu	
Wartość opakowań	300,00 zł
Wartość gotówki	700,00 zł
Wartość towaru	24 800,00 zł

Zadanie 49.

Właściciel sklepu z zabawkami przeprowadził badania popytu konsumpcyjnego. Z analizy opracowanej karty rejestracyjnej przedstawionej w tabeli wynika, że w sklepie występuje wzmożony popyt na zabawki

- A. zdalnie sterowane.
- B. dla niemowląt.
- C. edukacyjne.
- D. plastyczne.

Rodzaj zabawek	Liczba pytań o towar
plastyczne	35
edukacyjne	86
zdalnie sterowane	76
dla niemowląt	68

Zadanie 50.

Podaj, jaką wartość netto należy wpisać w przedstawionym fragmencie faktury VAT.

Nazwa towaru	J. m	Ilość	Cena jednostkowa netto w zł	Wartość sprzedaży netto w zł	Stawka VAT w %	Kwota podatku w zł	Wartość sprzedaży brutto w zł
Świecznik szklany	szt.	3	11,50	?	23%	7,94	42,44

- A. 7,59 zł
- B. 11,50 zł
- C. 34,50 zł
- D. 42,44 zł