

Zawód: **technik handlowiec**
Symbol cyfrowy zawodu: **341[03]**
Wersja arkusza: **X**

Arkusz zawiera informacje
prawnie chronione do
momentu rozpoczęcia
egzaminu

341[03]-0X-112

Czas trwania egzaminu: 120 minut

EGZAMIN POTWIERDZAJĄCY KWALIFIKACJE ZAWODOWE Czerwiec 2011

Etap pisemny

Instrukcja dla zdającego

1. Sprawdź, czy arkusz egzaminacyjny zawiera 24 strony. Ewentualny brak stron lub inne usterki zgłoś przewodniczącemu zespołu nadzorującego.
2. Do arkusza dołączona jest KARTA ODPOWIEDZI, na której:
 - wpisz symbol cyfrowy zawodu,
 - zamaluj kratkę z oznaczeniem wersji arkusza,
 - wpisz swój numer PESEL*,
 - wpisz swoją datę urodzenia,
 - przyklej naklejkę ze swoim numerem PESEL w oznaczonym miejscu na karcie.
3. Arkusz egzaminacyjny składa się z dwóch części. Część I zawiera 50 zadań, część II 20 zadań.
4. Za każde poprawnie rozwiązane zadanie możesz uzyskać 1 punkt.
5. Aby zdać etap pisemny egzaminu, musisz uzyskać co najmniej 25 punktów z części I i co najmniej 6 punktów z części II.
6. Czytaj uważnie wszystkie zadania.
7. Rozwiązania zaznaczaj na KARCIE ODPOWIEDZI długopisem lub piórem z czarnym tuszem/atramentem.
8. Do każdego zadania podane są cztery odpowiedzi: A, B, C, D. Odpowiada im następujący układ kratek na KARCIE ODPOWIEDZI:

A	B	C	D
---	---	---	---

9. Tylko jedna odpowiedź jest poprawna.
10. Wybierz właściwą odpowiedź i zamaluj kratkę z odpowiadającą jej literą – np. gdy wybrałeś odpowiedź "A":

■	B	C	D
---	---	---	---

11. Staraj się wyraźnie zaznaczać odpowiedzi. Jeżeli się pomylisz i błędnie zaznaczysz odpowiedź, otocz ją kółkiem i zaznacz odpowiedź, którą uważasz za poprawną, np.

○■	B	C	■
----	---	---	---

12. Po rozwiązaniu testu sprawdź, czy zaznaczyłeś wszystkie odpowiedzi na KARCIE ODPOWIEDZI i wprowadziłeś wszystkie dane, o których mowa w punkcie 2 tej instrukcji.

**Pamiętaj, że oddajesz przewodniczącemu zespołu nadzorującego tylko
KARTĘ ODPOWIEDZI**

Powodzenia!

* w przypadku braku numeru PESEL - seria i numer paszportu lub innego dokumentu potwierdzającego tożsamość.

Część I

Zadanie 1.

Podatek dochodowy od osób fizycznych jest podatkiem

- A. pośrednim.
- B. katastralnym.
- C. majątkowym.
- D. bezpośrednim.

Zadanie 2.

Cena zbytu to cena po jakiej sprzedaje wyroby

- A. detalista.
- B. akwizytor.
- C. hurtownik.
- D. producent.

Zadanie 3.

Dług publiczny jest


- A. różnicą dochodów i wydatków budżetu państwa.
- B. różnicą przychodów i kosztów budżetu państwa.
- C. zadłużeniem podmiotów sektora finansów publicznych.
- D. zadłużeniem przedsiębiorstw publicznych wobec państwa.

Zadanie 4.

Wada zasadnicza towaru to

- A. bombaż puszek konserw.
- B. asymetryczność pomidorów.
- C. pęknięcia na skórce pieczywa.
- D. nierównomierne oczka w serze.

Zadanie 5.

POLSKI KOMITET NORMALIZACYJNY		PN-A-74859
	Wyroby cukiernicze trwałe Pakowanie, przechowywanie i transport	Zamiast BN-85/8098-12
		Grupa katalogowa SKN 1249 ICS 67.060 67.180.10

Zamieszczony przykład części tytułowej dotyczy normy

- A. krajowej.
- B. branżowej.
- C. regionalnej.
- D. międzynarodowej.

Zadanie 6.

Finansowanie małych i średnich przedsiębiorstw polegające na wniesieniu kapitału przez inwestorów zewnętrznych na sfinansowanie innowacyjnych produktów, które nie zostały jeszcze zweryfikowane przez rynek, a więc stwarzają wysokie ryzyko niepowodzenia inwestycji jest formą finansowania firmy przez

- A. kredyt.
- B. leasing.
- C. pożyczkę.
- D. venture capital.

Zadanie 7.

Art. 31. Do zakresu działania Prezesa Urzędu należy:

- 1) sprawowanie kontroli przestrzegania przez przedsiębiorców przepisów ustawy;
- 2) wydawanie decyzji w sprawach praktyk ograniczających konkurencję, w sprawach koncentracji przedsiębiorców oraz w sprawach praktyk naruszających zbiorowe interesy konsumentów, a także innych decyzji przewidzianych w ustawie;
- 3) prowadzenie badań stanu koncentracji gospodarki oraz zachowań rynkowych przedsiębiorców;
- 4) przygotowywanie projektów rządowych programów rozwoju konkurencji oraz projektów rządowej polityki konsumenckiej;
- 5) współpraca z krajowymi i międzynarodowymi organami i organizacjami, do których zakresu działania należy ochrona konkurencji i konsumentów;

Przedstawiony we fragmencie ustawy zakres działań to kompetencje Prezesa

- A. Urzędu Antymonopolowego.
- B. Urzędu Zamówień Publicznych.
- C. Głównego Urzędu Statystycznego.
- D. Urzędu Ochrony Konkurencji i Konsumentów.

Zadanie 8.

Do kosztów zmiennych w przedsiębiorstwie handlowym zalicza się koszty

- A. wynajmu pomieszczeń.
- B. transportu towarów.
- C. wynagrodzenia kierownictwa.
- D. ochrony pomieszczeń.

Zadanie 9.

Wartość finalnych dóbr i usług wytworzonych na terenie danego kraju w ciągu roku to

- A. Produkt Krajowy Netto.
- B. Produkt Krajowy Brutto.
- C. Produkt Narodowy Netto.
- D. Produkt Narodowy Brutto.

Zadanie 10.

Redukcja ceny podręczników szkolnych dla pośredników handlowych w zamian za promowanie przez nich wydawnictwa jest przykładem zastosowania rabatu

- A. gotówkowego.
- B. wartościowego.
- C. funkcjonalnego.
- D. związanego z nabywcą.

Zadanie 11.

Do której grupy kryteriów segmentacji rynku należy kryterium – wielkość rodziny?

- A. Behawioralnych.
- B. Demograficznych.
- C. Psychograficznych.
- D. Geograficznych.

Zadanie 12.

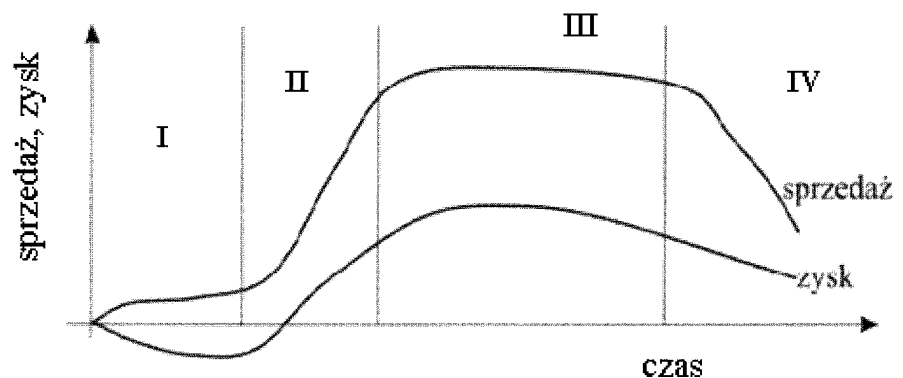
Przekaz: „Cena rozmów telefonicznych u nas jest niższa niż u wiodącego operatora” to reklama

- A. ukryta.
- B. społeczna.
- C. podprogowa.
- D. porównawcza.

Zadanie 13.

Wykres przedstawia klasyczny cykl życia produktu. Druga faza cyklu nazywa się fazą

- A. spadku.
- B. wzrostu.
- C. dojrzałości.
- D. wprowadzenia produktu na rynek.




Zadanie 14.

Świadczenia dodatkowe Nadawca (imię i nazwisko - nazwa) 00-000 Oznaczkowe Ulica, Nr domu, Nr mieszkania, miejscowość Pocztą na zł gr Słownie groszy jak wyżej Adresat (imię i nazwisko lub nazwa instytucji) 00-000 Ulica, nr domu, Nr mieszkania, miejscowość Pocztą	Odcinek dla adresata Nadawca (imię i nazwisko - nazwa) Ulica, nr domu, Nr mieszkania Oznaczkowe pocztą Zł ADRESAT gr Imię i nazwisko (nazwa)	Starannie przechowywać Dowód nadania przekazu pocztowego (pokwitowanie) Nadawca (imię i nazwisko - nazwa) Ulica, Nr domu, Nr mieszkania Ozn. Kod. pocztą Zł gr Adresat (imię i nazwisko - nazwa) Ulica, Nr domu, Nr mieszkania Ozn. Kod. pocztą
--	--	--

Nr nadania Stempel okrągowy
.....
Dzień nadania podpis przyjm.
Dzień nadania podpis kontr.

Uwaga: Części zakreślone tłustą linią wypełnia nadawca atramentem, długopisem, drukiem, maszyną do pisania lub za pomocą tuszowego odcisku stempla.



Oplata Nr nadania
zł gr
Dzień nadania podpis przyjm.

Zamieszczony formularz dokumentu to

- A. awizo.
- B. polecenie zapłaty.
- C. przekaz pocztowy.
- D. polecenie przelewu.

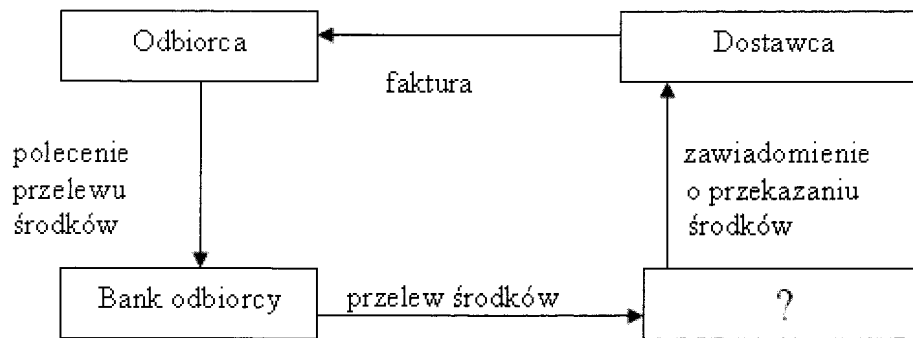
Zadanie 15.

Forma zapłaty występująca w handlu międzynarodowym, polegająca na zablokowaniu środków na koncie dłużnika i przekazaniu ich w zamian za odpowiednie dokumenty to

- A. weksel.
- B. akredytywa.
- C. polecenie zapłaty.
- D. polecenie przelewu.

Zadanie 16.

Schemat przedstawia obieg dokumentów związanych z poleceniem przelewu:



Brakującym podmiotem gospodarczym jest

- A. hurtownia.
- B. bank dostawcy.
- C. izba rozrachunkowa.
- D. centrum rozliczeniowe.

Zadanie 17.

Nazwa jednostki inwentaryzacyjnej Adres.....	<div style="background-color: black; width: 100px; height: 15px; margin-bottom: 5px;"></div> Rodzaj inwentaryzacji..... Strona.....						
Skład komisji inwentaryzacyjnej(zespołu spisującego)							
Imię i nazwisko osoby materialnie odpowiedzialnej							
+							
Lp.	Symbol PKWiU	Nazwa(określenie) przedmiotu spisywanego	J.m.	Ilość stwierdzona	Cena	Wartość	Uwagi
1	2	3	4	5	6	7	8

Druk dokumentu, którego fragment zamieszczono, to

- A. raport kasowy.
- B. kontrolka sprzedaży.
- C. arkusz spisu z natury.
- D. raport fiskalny dobowy.

Zadanie 18.

§ 1. Dostawca zobowiązuje się do dostarczenia Odbiorcy następujących towarów:

- 1) w ilości
po cenie za w terminach
- 2) w ilości
po cenie za w terminach
- 3) w ilości
po cenie za w terminach

§ 2. Towar dostarczony będzie przez Dostawcę na ryzyko i

koszt.....

do.....

Formularz dokumentu, którego fragment zamieszczono, to

- A. umowa zlecenia.
- B. umowa dostawy.
- C. zamówienie.
- D. oferta.

Zadanie 19.


Które z wymienionych dóbr są towarami?

- A. Bułki w sklepie spożywczym.
- B. Bułki w kiosku z hamburgerami.
- C. Bułki w zakładzie produkującym bułkę tartą.
- D. Bułki przeznaczone do spożycia przez rodzinę właściciela piekarni.

Zadanie 20.

Na rysunku przedstawiono opakowanie

- A. zbiorcze.
- B. ochronne.
- C. jednostkowe.
- D. transportowe.



Zadanie 21.

Substytutem masła jest

- A. ser.
- B. mleko.
- C. śmietana.
- D. margaryna.

Zadanie 22.

Do grupy przypraw nasiennych zalicza się

- A. bazylię.
- B. wanilię.
- C. gorczycę.
- D. cynamon.

Zadanie 23.

Jeżeli cena zakupu netto towaru wynosi 500 zł, koszty zakupu 100 zł a narzut zysku stanowi 50% ceny nabycia to cena sprzedaży netto wyniesie

- A. 600 zł
- B. 650 zł
- C. 750 zł
- D. 900 zł

Zadanie 24.

Ewidencji operacji gospodarczej o treści „stwierdzono niedobór materiałów w magazynie powstały z winy pracownika” należy dokonać na kontach

- A. Dt „Koszty wg rodzaju” i Ct „Materiały”.
- B. Dt „Straty nadzwyczajne” i Ct „Materiały”.
- C. Dt „Rozrachunki z pracownikami” i Ct „Materiały”.
- D. Dt „Rozliczenie niedoborów i szkód” i Ct „Materiały”.

Zadanie 25.

Wzrost długu wynikającego z nieuregulowania przez przedsiębiorstwo faktur powoduje zmiany

- A. w zapasach przedsiębiorstwa.
- B. w zysku netto przedsiębiorstwa.
- C. w należnościach przedsiębiorstwa.
- D. w zobowiązaniach przedsiębiorstwa.

Zadanie 26.

Kolejność aktywów w bilansie przedsiębiorstwa ustalona jest według kryterium

- A. płynności.
- B. rentowności.
- C. ekonomiczności.
- D. rotacji aktywów.

Zadanie 27.

Przedsiębiorstwo z zaciągniętego kredytu bankowego sfinansowało zakup maszyny produkcyjnej. Dokonany zakup powoduje zmiany

- A. w aktywach trwałych i kapitałach obcych.
- B. w aktywach obrotowych i kapitałach obcych.
- C. w aktywach trwałych i aktywach obrotowych.
- D. w aktywach obrotowych i kapitałach własnych.

Zadanie 28.

Ewidencji odsetek od środków zgromadzonych przed przedsiębiorstwo handlowe na rachunku należy dokonać się na kontach

- A. Dt „Pozostałe koszty operacyjne”, Ct „Rachunek bankowy”.
- B. Ct „Rachunek bankowy”, „Dt Koszty finansowe”.
- C. Dt „Rachunek bankowy”, Ct „Przychody finansowe”.
- D. Ct „Pozostałe przychody operacyjne”, Dt „Rachunek bankowy”.

Zadanie 29.

Wybrane składniki aktywów przedsiębiorstwa

Wyszczególnienie	Wartość w zł
Budynki	1 000 000,00
Komputery	8 000,00
Udziały i akcje	20 000,00
Wartości niematerialne i prawne	1 000,00

Spośród wymienionych w tabeli składników aktywów amortyzacji **nie podlegają**

- A. budynki.
- B. komputery.
- C. udziały i akcje.
- D. wartości niematerialne i prawne.

Zadanie 30.

Na których kontach księgowych należy dokonać ewidencji rozchodu z magazynu papieru do pakowania towarów?

- A. Dt „Towary”, Ct „Zużycie materiałów i energii”.
- B. Dt „Zużycie materiałów i energii”, Ct „Materiały”.
- C. Dt „Zużycie materiałów i energii”, Ct „Towary”.
- D. Dt „Materiały”, Ct „Zużycie materiałów i energii”.

Zadanie 31.

W czasie inwentaryzacji w sklepie papierniczym stwierdzono nadwyżkę 40 ryz papieru A4 kolor zielony w cenie po 11 zł. za ryzę oraz niedobór 30 ryz papieru A4 kolor biały w cenie 10 zł. za ryzę. Wartość kompensaty niedoboru z nadwyżką zgodnie z zasadą mniejszej ilości, niższej ceny wyniesie

- A. 300 zł
- B. 330 zł
- C. 400 zł
- D. 440 zł

Zadanie 32.

Wybrane dane rachunku zysków i strat przedsiębiorstwa ALFA

Wyszczególnienie	Wartość w zł
zysk na działalności gospodarczej	200 000,00
przychody finansowe	20 000,00
koszty finansowe	10 000,00
zyski nadzwyczajne	0 000,00
straty nadzwyczajne	50 000,00

Zysk brutto przedsiębiorstwa ALFA obliczony na podstawie informacji zamieszczonych w tabeli wynosi

- A. 220 000,00 zł
- B. 210 000,00 zł
- C. 200 000,00 zł
- D. 170 000,00 zł

Zadanie 33.

Na podstawie danych z tabeli ustal, który segment słonych przekąsek ma największy udział w rynku.

- A. Chipsy.
- B. Chrupki.
- C. Paluszki.
- D. Orzeszki.

WARTOŚĆ I WIELKOŚĆ RYNKU SŁONYCH PRZEKĄSEK		
SEGMENTY	Wartość sprzedaży w 10 000 zł /proc. udział	Wielkość sprzedaży w 1000 kg /proc. udział
Chipsy	47 364,7 /41,6	17 699,9 / 28,1
Chrupki	33 148,0 /29,1	17 577,9 / 27,9
Paluszki	16 717,6 / 14,7	17 372,9 / 27,5
Orzeszki	9 876,8 / 8,6	5 442,1 / 8,6
Pozostałe	6 764,7 / 5,9	5 002,5 / 7,9
Suma	113 872,0	63 095,3

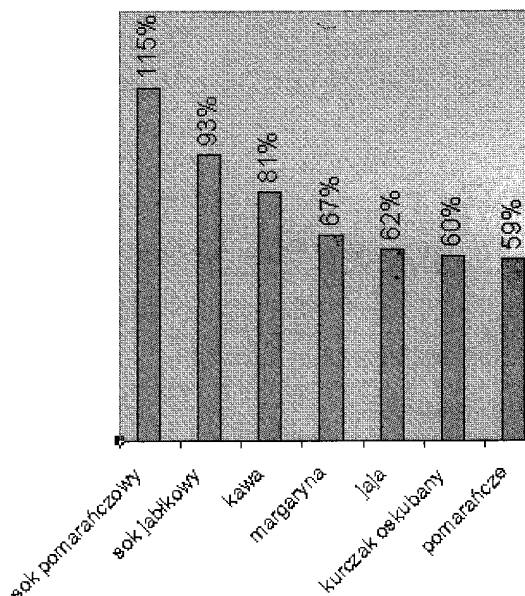
Źródło: ACNielsen, dane za IV 2004 – III 2005

Zadanie 34.

Na podstawie analizy wykresu, można stwierdzić, że cena jaj w Polsce jest

- A. o 38% niższa niż w Niemczech.
- B. o 38% wyższa niż w Niemczech.
- C. o 62% niższa niż w Niemczech.
- D. o 62% wyższa niż w Niemczech.

*Ceny artykułów spożywczych w Polsce.
Za 100% przyjęto ceny w Niemczech*



Źródło: Gazeta Wyborcza 4.09.1997

Zadanie 35.

W przedsiębiorstwie wzrosła wartość zysku netto, przy stałych przychodach ze sprzedaży. Jak zmieni się rentowność sprzedaży?

- A. Wzrośnie.
- B. Zmaleje.
- C. Pozostanie na tym samym poziomie.
- D. Kierunek zmian rentowności jest niemożliwy do ustalenia.

Zadanie 36.

Przedsiębiorstwo handlowe MERKUS zaplanowało sprzedaż w maju na poziomie 220 000 zł, przy planowanych kosztach 200 000 zł. W analizowanym okresie nastąpił wzrost sprzedaży względem wielkości planowanych o 8%. Przy założeniu proporcjonalnego wzrostu kosztów w stosunku do wzrostu sprzedaży, poniesione koszty wzrosną

- A. o 1 600 zł
- B. o 16 000 zł
- C. o 17 600 zł
- D. o 37 600 zł

Zadanie 37.

Przeprowadzona analiza finansowa przedsiębiorstwa wskazuje, że przedsiębiorstwo posiada płynność finansową. Oznacza to zdolność firmy

- A. do wymiany waluty.
- B. do generowania zysków.
- C. do generowania gotówki.
- D. do regulowania zobowiązań.

Zadanie 38.

PPH Kargo sp. z o.o. sprzedało towary za 20 000,00 zł i otrzymało jako zapłatę weksel. Jeżeli wartość sumy dyskontowej wynosi 618,56 zł na wekslu widnieje kwota

- A. 618,56 zł
- B. 19 381,44 zł
- C. 20 000,00 zł
- D. 20 618,56 zł

Zadanie 39.

Jeżeli cena kilograma bananów dnia 01.04.2011 r. wynosiła 4,00 zł a dnia 01.05.2011 r. 4,50 zł oznacza to, że cena bananów wzrosła

- A. o 12,50%
- B. o 50,00%
- C. o 87,50%
- D. o 112,50%

Zadanie 40.

Przedstawiony dokument stanowi dowód dokonania

Pismo maszynowe: normalna czcionka
 Pismo odręczne: duże drukowane litery, każda w osobnej kratce
 wypełniać długopisem, mocno dociskając
 *niepoprawne serięsio

PKO BANK POLSKI

Polecenie przelewu / wpłata gotówkowa

nazwa odbiorcy TELEKOMUNIKACJA POLSKA S.A.											
nazwa odbiorcy od 01 KATOWICE										R / NR	
nr rachunku odbiorcy 66 2001 2344 6500 0000 2001 5005 -											
w X				waluta PLN				kwota 86,25			
nr rachunku zleceńdawcy (przelew) / kwota słownie (wpłata) OSIEMDZIESIĄT SZESĆ ZŁ 25/100											
nazwa zleceńdawcy ANNA KOWALSKA 42-400 ZANIER-											
nazwa zleceńdawcy cd CIE UL. SOWIA 5/26											
tytułem OPŁATA ZA TELEFON NR 2640333											
tytułem cd RACHUNEK ZA LISTOPAD 2004											

06

05. 12. 2004r
 Anna Kowalska

piszczyć, data i podpis(y) zleceńdawcy

5.31-4020/12004

odcinek dla banku zleceńdawcy

- wpłaty kwoty 86,25 zł. na rachunek bankowy Anny Kowalskiej.
- wpłaty bezgotówkowej na rachunek Telekomunikacji Polskiej S.A.
- wpłaty gotówkowej kwoty 86,25 zł. na rachunek Telekomunikacji Polskiej S.A.
- przelewu przez Annę Kowalską kwoty 86,25 zł. na rachunek Telekomunikacji Polskiej S.A.

Zadanie 41.

Przedsiębiorstwo Handlu Hurtowego „VERA” Sp. z o.o. Ul. Gołycka34 . 22-450 Warszawa NIP 785-34-52-243		Dostawca Młyny Sp. z o.o. Ul. Liliowa 4 . 22-550 Warszawa NIP 776-24-51-283	PZ Przyjęcie materiałów zewn.				Nr bieżący Pz	Egz.			
Nr zamówienia		Środek transportu		Przeznaczenie		Data wysyłki		Wysyłka na koszt	Nr i data faktury		
Nr indeksu materiałowego		Nazwa materiału		Ilość			Cena	Wartość	Konto syntet. Mat.	Zapasy ilość	
		Do sprzedaży						24/2011	16.05.2011	56/10 16.05.2011	
				otrzymana			j.m.	przyjęta	zł /gr	zł/gr	
		Mąka tortowa		1 500 000			kg	1 500 000	2,00	3 000 000	1 500 000
		Mąka pszenna		2 000 000			kg	2 000 000	1,80	3 600 000	3 500 000
wystawił		zatwierdził		dostarczył		data		przyjął		Ewidencja ilość, wartość	

Z zamieszczonego dowodu księgowego Pz wynika, że dnia 16.05.2011 r. do magazynu przyjęto materiały o łącznej wartości

- A. 3 000 000 zł
- B. 3 500 000 zł
- C. 4 800 000 zł
- D. 6 600 000 zł

Zadanie 42.

Kosmetyki sprzedawane przez konsultantki, to przykład sprzedaży

- A. wielkopowierzchniowej.
- B. subskrypcyjnej.
- C. drobnodetalicznej.
- D. akwizycyjnej.

Zadanie 43.

W ofercie banku znajdują się cztery warianty lokat. Który z nich powinien wybrać klient banku, lokując swoje wolne środki finansowe w celu osiągnięcia największych korzyści?

Wariant lokaty	Oprocentowanie (roczne)	Kapitalizacja odsetek
A.	15% lokata na 6 miesięcy	miesięczna
B.	15% lokata na 6 miesięcy	półroczna
C.	15% lokata na 6 miesięcy	kwartalna
D.	15% lokata na 6 miesięcy	na koniec okresu

Zadanie 44.

Mleko z oznaczeniem UHT to produkt

- A. sterylizowany.
- B. z dużą zawartością tłuszczu.
- C. homogenizowany.
- D. z żywymi kulturami bakterii.



Zadanie 45.

Klientka zakupiła obuwie zimowe i otrzymała jedynie paragon fiskalny, jako dokument uprawniający do złożenia reklamacji. Klientce **nie przysługuje**

- A. wymiana obuwia zimowego z tytułu gwarancji.
- B. wymiana obuwia zimowego z tytułu niezgodności towaru z umową.
- C. naprawa obuwia zimowego z tytułu niezgodności towaru z umową.
- D. zwrot pieniędzy, gdy sprzedawca nie jest w stanie naprawić obuwia zimowego w odpowiednim czasie.

Zadanie 46.

Fragment Rozporządzenia w sprawie bezpieczeństwa i higieny pracy przy ręcznych pracach transportowych

Rozdział 5

Przemieszczanie materiałów szkodliwych i niebezpiecznych

§ 19. 1. Organizacja i metody prac związanych z ręcznym przemieszczaniem materiałów mogących stwarzać zagrożenia w związku z ich właściwościami (żrących, trujących, pyłących) powinny eliminować lub ograniczać te zagrożenia.

2. Wymagania dotyczące przemieszczania stopionego metalu, materiałów wybuchowych oraz butli z gazami sprężonymi określają odrębne przepisy.

§ 20. 1. Niedopuszczalne jest przenoszenie przez jednego pracownika materiałów ciekłych – gorących, żrących albo o właściwościach szkodliwych dla zdrowia, których masa wraz z naczyniem i uchwytem przekracza 25 kg.

2. Balony szklane z kwasami lub innymi cieczami żrącymi powinny być przewożone na specjalnych wózkach.

Zgodnie z zamieszczonym fragmentem rozporządzenia naruszeniem zasad bezpieczeństwa i higieny pracy jest

- A. przenoszenie przez jednego pracownika towaru o masie 26 kg przy pracy stałej.
- B. przenoszenie przez jednego pracownika towaru o masie 40 kg przy pracy dorywczej.
- C. przewożenie przez jednego pracownika towarów na wózkach ręcznych o masie 450 kg.
- D. przenoszenie przez jednego pracownika artykułów żrących o masie 26 kg (wraz z opakowaniem).

Zadanie 47.

Nazwisko i imię	Data urodzenia	Miejsce urodzenia
Grzelak Ewa	13.04.1973 r.	Głowno
Królak Anna	16.07.1980 r.	Zgierz
Sieradzka Emilia	15.03.1976 r.	Poznań

Przedstawiona w formie tabeli baza danych osobowych kandydatów na stanowisko pracownika sekretariatu została sklasyfikowana według kryterium

- A. rzeczowego.
- B. geograficznego.
- C. alfabetycznego.
- D. chronologicznego.

Zadanie 48.

Sprawę sklasyfikowano według hasła klasyfikacyjnego o symbolu 110. Symbol wyodrębniono według podziału

- A. I stopnia.
- B. II stopnia.
- C. III stopnia.
- D. IV stopnia.

Symbole klasyfikacyjne				Hasła klasyfikacyjne
I	II	III	IV	
				5
1				Kadry
	10			Ogólne zasady pracy i płacy
		100		Umowy zbiorowe i zakładowe
		101		Taryfikatory kwalifikacyjne
		110		Przepisy prawne dotyczące zatrudniania i wynagradzania
				(...)
	12			Ewidencja osobowa
		120		Akta osobowe

Zadanie 49.

Pracownik sklepu chemicznego nieostrożnie obchodził się z substancją żrącą w wyniku czego doznał oparzenia dłoni. Udzielenie mu pierwszej pomocy polega na natychmiastowym

- A. posypaniu rany talkiem.
- B. założeniu na ranę opatrunku.
- C. posmarowaniu rany kremem.
- D. zmyciu żrącej substancji z rany dużą ilością zimnej wody.

Zadanie 50.

Instrukcje obsługi wózków do transportu towarów, a szczególnie wózków z napędem silnikowym, nakazują stosowanie przez pracownika hurtowni obuwia roboczego wiązanego powyżej kostki. Nieprzestrzeganie tej zasady jest najczęściej przyczyną

- A. płaskostopia.
- B. żylaków nóg.
- C. skręcenia stopy.
- D. urazów kręgosłupa.