

EGZAMIN
POTWIERDZAJĄCY KWALIFIKACJE ZAWODOWE
Czerwiec 2012
Etap pisemny

Instrukcja dla zdającego

1. Sprawdź, czy arkusz egzaminacyjny zawiera 19 stron. Ewentualny brak stron lub inne usterki zgłoś przewodniczącemu zespołu nadzorującego.
2. Do arkusza dołączona jest KARTA ODPOWIEDZI, na której:
 - wpisz symbol cyfrowy zawodu,
 - zamaluj kratkę z oznaczeniem wersji arkusza,
 - wpisz swój numer PESEL*,
 - wpisz swoją datę urodzenia,
 - przyklej naklejkę ze swoim numerem PESEL w oznaczonym miejscu na karcie.
3. Arkusz egzaminacyjny składa się z dwóch części. Część I zawiera 50 zadań, część II 20 zadań.
4. Za każde poprawnie rozwiązane zadanie możesz uzyskać 1 punkt.
5. Aby zdać etap pisemny egzaminu, musisz uzyskać co najmniej 25 punktów z części I i co najmniej 6 punktów z części II.
6. Czytaj uważnie wszystkie zadania.
7. Rozwiązania zaznaczaj na KARCIE ODPOWIEDZI długopisem lub piórem z czarnym tuszem/atramentem.
8. Do każdego zadania podane są cztery odpowiedzi: A, B, C, D. Odpowiada im następujący układ kratek na KARCIE ODPOWIEDZI:

A	B	C	D
---	---	---	---

9. Tylko jedna odpowiedź jest poprawna.
10. Wybierz właściwą odpowiedź i zamaluj kratkę z odpowiadającą jej literą – np. gdy wybrałeś odpowiedź "A":

<input checked="" type="checkbox"/>	B	C	D
-------------------------------------	---	---	---

11. Staraj się wyraźnie zaznaczać odpowiedzi. Jeżeli się pomylisz i błędnie zaznaczysz odpowiedź, otocz ją kółkiem i zaznacz odpowiedź, którą uważasz za poprawną, np.

<input checked="" type="checkbox"/>	B	C	<input checked="" type="checkbox"/>
-------------------------------------	---	---	-------------------------------------

12. Po rozwiązaniu testu sprawdź, czy zaznaczyłeś wszystkie odpowiedzi na KARCIE ODPOWIEDZI i wprowadziłeś wszystkie dane, o których mowa w punkcie 2 tej instrukcji.

Pamiętaj, że oddajesz przewodniczącemu zespołu nadzorującego tylko KARTĘ ODPOWIEDZI

Powodzenia!

* w przypadku braku numeru PESEL - seria i numer paszportu lub innego dokumentu potwierdzającego tożsamość.

Część I

Zadanie 1.

Cena równowagi rynkowej występuje, gdy wielkość popytu

- A. jest większa od wielkości podaży.
- B. jest mniejsza od wielkości podaży.
- C. nie zależy od wielkości podaży.
- D. równa się wielkości podaży.

Zadanie 2.

Hurtownia mebli udzieliła kupującemu, bez pośrednictwa banku, kredytu związanego z odroczeniem zapłaty za otrzymane towary. Jest to kredyt

- A. kupiecki.
- B. gotówkowy.
- C. inwestycyjny.
- D. długoterminowy.

Zadanie 3.

Sytuacja, w której ilość pieniędzy w obiegu rośnie szybciej niż wartość towarów i usług oferowanych do sprzedaży, to

- A. deflacja.
- B. inflacja.
- C. dewaluacja.
- D. aprecjacja.

Zadanie 4.

Opust cenowy przyznawany stałym klientom, aby zachęcić ich do ciągłego zaopatrywania się u jednego dostawcy, to rabat

- A. ilościowy.
- B. sezonowy.
- C. lojalnościowy.
- D. gotówkowy.

Zadanie 5.

Oferowanie klientowi do zakupionego produktu kuponu upoważniającego go do zniżki przy następnym zakupie to przykład

- A. promocji sprzedaży.
- B. sprzedaży osobistej.
- C. public relations.
- D. reklamy.

Zadanie 6.

Zamieszczony w ramce opis jednej z faz cyklu życia produktu dotyczy fazy

- A. wprowadzenia.
- B. wzrostu.
- C. dojrzałości.
- D. spadku.

„W tej fazie obserwuje się szybki wzrost sprzedaży, firma zaczyna osiągać zyski. Pojawiają się konkurenci. Dążąc do dalszego zwiększania sprzedaży, można obniżać ceny, rozwijać sieć dystrybucji oraz wprowadzać różne odmiany produktu. Stosuje się również promocję nakłaniającą do zakupu.”

Źródło: „Podstawy marketingu” A. Nowacka, R. Nowacki, wyd. DIFIN

Zadanie 7.

Inkaso należności to

- A. odprowadzenie utargu.
- B. zwrot pieniędzy klientowi.
- C. przyjęcie pieniędzy do kasy.
- D. zostawienie polecenia przelewu w banku.

Zadanie 8.

Jednostka handlowa, która sprzedaje towar oddany do sprzedaży przez zleceniodawcę, pobierając za to prowizję prowadzi sprzedaż

- A. ratalną.
- B. komisową.
- C. subskrypcyjną.
- D. na zamówienie.

Zadanie 9.

Przedsiębiorstwo Handlowe „AS” - Jan Kot zawarło z producentem umowę leasingu samochodu. Zgodnie z umową nie dokonuje odpisów amortyzacyjnych. Jest to leasing

- A. operacyjny.
- B. kapitałowy.
- C. finansowy.
- D. pośredni.

Zadanie 10.

Rozrachunki z dostawcami	VAT naliczony	Rozliczenie zakupu towarów
1c) 3 690	1b) 690	1a) 3 000

Podstawą ewidencji na kontach księgowych przedstawionej operacji gospodarczej jest dowód księgowy

- A. faktura VAT zakup
- B. faktura VAT sprzedaż
- C. PZ
- D. WZ

Zadanie 11.

Przedstawiony przykład dowodu księgowego to

- A. Pz
- B. Wz
- C. Pw
- D. Rw

Przedsiębiorstwo Handlowe AGA sp. z o.o. ul. Jasna 15, 61-100 Poznań		Odbiorca		?	Nr bieżący	Egz.				
		Sklep wielobranżowy MATA sp. z o.o. ul. Zamyślona 12, 61-100 Poznań			12/06/2011	1				
		Przeznaczenie			Nr magazynowy	Data				
					12/06/2011	5.06.2011 r.				
Środek transportu	Zamówienie	sprzedaż		Data wysyłki	Wysyłka na koszt					
				5.06.2011 r.	(...)	Numer i data faktury - specyfikacji				
					Fa 13/06/2011 z dn. 5.06.2011					
Nr indeksu materiałowego	Nazwa materiału	Ilość			Cena		Wartość		Konto syntet. małej	Zapas ilość
		Zadysponowana	Jedn.	Wydana	zł	gr	zł	gr		
(...)	Piłżanki	40	szt.	40	15,00		600,00			
RAZEM							600,00			
Wystawił	Zatwierdził	Wymienione ilości			Ewidencja ilość wartość					
(...)	(...)	Wydal	Data	Odebrał						
		(...)	5.06.2011 r.	(...)						

Zadanie 12.

Hurtownia dokonała na podstawie faktury FA 11/2012 sprzedaży 50 sztuk kalendarzy. Podczas odbioru stwierdzono uszkodzenie 10 sztuk kalendarzy. Odbiorca zwrócił uszkodzone kalendarze. Zwrot w hurtowni należy udokumentować fakturą korygującą do FA 11/2012 i dowodem księgowym

- A. Pw
- B. Pz
- C. Wz
- D. Rw

Zadanie 13.

Słonina, żeberka i biodrówka to elementy handlowe mięsa

- A. wieprzowego.
- B. wołowego.
- C. baraniego.
- D. cielęcego.

Zadanie 14.

Do warzyw strączkowych zalicza się

- A. pomidory.
- B. ziemniaki.
- C. ogórki.
- D. soję.

Zadanie 15.

Które z wymienionych dóbr są towarami?

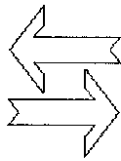
- A. Bułki w sklepie spożywczym.
- B. Bułki w kiosku z hamburgerami.
- C. Bułki w zakładzie produkującym bułkę tartą.
- D. Bułki przeznaczone do spożycia przez rodzinę właściciela piekarni.

Zadanie 16.

Który symbol oznacza, że opakowanie rozkłada się podczas kompostowania bez uwalniania szkodliwych substancji dla środowiska?



A.



B.



C.



D.

Zadanie 17.

Co oznacza przedstawiony znak zamieszczany na towarze?

- A. Suszyć w pozycji poziomej.
- B. Suszyć w pozycji pionowej.
- C. Nie suszyć w suszarce bębnowej.
- D. Można suszyć w suszarce bębnowej.



Zadanie 18.

Sklep detaliczny kupuje ręczniki od hurtowni w cenie zakupu netto 80 zł/szt. Na sprzedaży realizuje marżę detaliczną w wysokości 30% od ceny zakupu netto, doliczając podatek VAT 23%. Klient sklepu detalicznego zapłaci za jeden ręcznik

- A. 98,40 zł
- B. 104,00 zł
- C. 114,29 zł
- D. 127,92 zł

Zadanie 19.

Hurtownia, będąca podatnikiem podstawowej stawki podatku VAT, wystawiła fakturę VAT o wartości brutto 1 230 zł. Wartość sprzedaży netto wynosi

- A. 230,00 zł
- B. 282,90 zł
- C. 947,10 zł
- D. 1 000,00 zł

Zadanie 20.

Sklep detaliczny obniżył cenę towaru z 200 zł do 120 zł, czyli

- A. o 24%
- B. o 40%
- C. o 60%
- D. o 66%

Zadanie 21.

Operację gospodarczą o treści „LP – naliczono wynagrodzenia brutto 2 000 zł” należy księgować w następujący sposób

A.

Wynagrodzenia	Rozrachunki z tytułu wynagrodzeń
1) 2 000	1) 2 000

B.

Rachunek bieżący	Wynagrodzenia
1) 2 000	1) 2 000

C.

Wynagrodzenia	Rozrachunki z tytułu wynagrodzeń
1) 2 000	1) 2 000

D.

Wynagrodzenia	Rachunek bieżący
1) 2 000	1) 2 000

Zadanie 22.

Przedstawiony na kontach księgowych sposób ewidencji operacji gospodarczej to księgowanie

Rozrachunki z odbiorcami	VAT należny	Przychody ze sprzedaży towarów
1c) 4 059	1b) 759	1a) 3 300

- A. faktury VAT od dostawcy za zakupione towary.
- B. faktury VAT dla odbiorcy za sprzedane towary.
- C. WZ – wydania sprzedanych towarów odbiorcy.
- D. PZ – przyjęcia zakupionych towarów od dostawcy.

Zadanie 23.

Ewidencji miesięcznego zużycia środka trwałego dokonuje się na kontach księgowych

- A. Dt „Umorzenie środków trwałych” Ct „Amortyzacja”
- B. Dt „Umorzenie środków trwałych” Ct „Straty nadzwyczajne”
- C. Dt „Pozostałe koszty operacyjne” Ct „Umorzenie środków trwałych”
- D. Dt „Amortyzacja” Ct „Umorzenie środków trwałych”

Zadanie 24.

Hurtownia ewidencjonuje towary w magazynie według stałej ceny ewidencyjnej wynoszącej 14 zł/szt. Jednostka otrzymała fakturę VAT zakupu 100 szt. towaru po 12 zł/szt., stawka podatku VAT 23%. Jednostka zaksięguje przyjęcie towarów do magazynu na podstawie dowodu księgowego Pz

- A. Dt „Towary” 1 400 zł Ct „Rozliczenie zakupu” 1 400 zł
- B. Dt „Rozliczenie zakupu” 1 400 zł Ct „Towary” 1 400 zł
- C. Dt „Towary” 1 200 zł Ct „Rozliczenie zakupu” 1 200 zł
- D. Dt „Rozliczenie zakupu” 1 200 zł Ct „Towary” 1 200 zł

Zadanie 25.

Dokonując kompensaty niedoboru składników majątkowych nadwyżką stosuje się zasadę

- A. niższej ceny i większej ilości.
- B. wyższej ceny i większej ilości.
- C. niższej ceny i mniejszej ilości.
- D. wyższej ceny i mniejszej ilości.

Zadanie 26.

W wyniku inwentaryzacji ujawniono niedobór towarów w magazynie powstały w wyniku pożaru. Stwierdzenie niedoboru towarów należy zaewidencjonować na kontach księgowych

- A. Dt „Towary” Ct „Straty nadzwyczajne”
- B. Dt „Rozliczenie niedoborów” Ct „Towary”
- C. Dt „Zyski nadzwyczajne” Ct „Rozliczenie niedoborów”
- D. Dt Pozostałe rozrachunki z pracownikami” Ct „Towary”

Zadanie 27.

Na podstawie danych zawartych w tabeli ustal, ile wyniesie wynik finansowy brutto w przedsiębiorstwie handlowym.

- A. 13 500 zł
- B. 14 500 zł
- C. 15 000 zł
- D. 22 900 zł

Wyszczególnienie	Kwota
Odsetki od środków na rachunku bankowym	2 000 zł
Otrzymane dywidendy	1 500 zł
Przekazana (zapłacona) kara za nieterminową płatność	500 zł
Przychody ze sprzedaży towarów netto	70 000 zł
Koszty działalności podstawowej netto	55 000 zł
Odsetki od kredytu bankowego	4 200 zł
Straty nadzwyczajne	300 zł

Zadanie 28.

Przedsiębiorstwo osiągnęło zysk na sprzedaży w wysokości 60 000 zł. Pozostałe przychody operacyjne wynoszą 7 000 zł, pozostałe koszty operacyjne 9 000 zł, przychody finansowe 4 000 zł. Wysokość zysku na działalności gospodarczej wyniesie

- A. 58 000 zł
- B. 60 000 zł
- C. 62 000 zł
- D. 67 000 zł

Zadanie 29.

Przedsiębiorstwo handlowe osiągnęło zysk z działalności operacyjnej w wysokości 42 000 zł. Koszty finansowe wynosiły 5 000 zł, a straty nadzwyczajne 3 400 zł. Podatek dochodowy od osób prawnych, który musi zapłacić przedsiębiorstwo, wynosi

- A. 6 384 zł
- B. 7 728 zł
- C. 33 600 zł
- D. 37 000 zł

Zadanie 30.

Przychody z działalności operacyjnej nie obejmują przychodów


- A. ze sprzedaży towarów.
- B. ze sprzedaży produktów.
- C. z tytułu sprzedaży aktywów finansowych.
- D. ze sprzedaży zbędnych środków trwałych.

Zadanie 31.

Wykres przedstawia wyniki badania marketingowego przeprowadzonego wśród klientów sklepu internetowego. Z przeprowadzonych badań wynika, że największa grupa klientów przegląda ofertę sklepu

- A. kilka razy w tygodniu.
- B. raz w miesiącu.
- C. kilka razy w miesiącu.
- D. rzadziej niż raz w miesiącu.

Jak często przeglądasz ofertę sklepu internetowego?



Zadanie 32.

Zestawienie wyników badań preferencji zakupów produktów P.P. MEGA

Produkt	Popyt w lipcu 2011 r. w szt.	Prognoza zakupu w lipcu 2012 r. w szt.
Fotele	80	95
Krzesła	120	131
Stoły	62	73
Ławy	94	126

Na podstawie danych zawartych w tabeli określ, dla jakiego produktu należy się spodziewać największego przyrostu popytu w lipcu 2012 r. w porównaniu z lipcem 2011 r.

- A. Foteli.
- B. Krzesel.
- C. Stołów.
- D. Ław.

Zadanie 33.

Interpretacja wybranego wskaźnika przedstawia się następująco: „W roku 2011 wskaźnik wyniósł 19,32 co oznacza, że zapas towarów odnawiano w jednostce około 19 razy.” Interpretacja dotyczy wskaźnika

- A. rotacji zapasów w dniach.
- B. rotacji zapasów w razach.
- C. płynności szybkiej.
- D. płynności bieżącej.

Zadanie 34.

W tabeli zaprezentowano wskaźniki struktury majątku poszczególnych firm. Która z wymienionych firm ma odpowiednią dla przedsiębiorstwa handlowego strukturę majątku?

Wyszczególnienie	ETTA	SIGMA	MEGA	MINI
Środki trwałe	35%	65%	40%	15%
Materiały	15%	12%	17%	5%
Towary	5%	0%	3%	40%
Wyroby gotowe	20%	15%	20%	0%
Należności od odbiorców	14%	6%	15%	30%
Rachunek bieżący	11%	2%	5%	10%

- A. ETTA
- B. SIGMA
- C. MEGA
- D. MINI

Zadanie 35.

Spółka akcyjna przeznaczyła zysk na wypłatę dywidendy w wysokości 80 000 zł. Dywidendę wypłaca się proporcjonalnie do wysokości udziałów. Udziałowiec pierwszy posiada 10% udziałów, udziałowiec drugi 30% udziałów, udziałowiec trzeci 20% udziałów, udziałowiec czwarty 40% udziałów. Kwoty wypłaconych dywidend poszczególnym udziałowcom są następujące:

- A. 8 000 zł, 32 000 zł, 24 000 zł, 16 000 zł
- B. 24 000 zł, 32 000 zł, 16 000 zł, 8 000 zł
- C. 32 000 zł, 16 000 zł, 24 000 zł, 8 000 zł
- D. 8 000 zł, 24 000 zł, 16 000 zł, 32 000 zł

Zadanie 36.

Pożyczkę 3 000 zł spłacono jednorazowo po 12 miesiącach kwotą 3 180 zł. Roczna stopa procentowa wyniosła

- A. 2%
- B. 6%
- C. 20%
- D. 24%

Zadanie 37.

Hurtownia Bata sp. z o.o. posiada w magazynie 48 szt. ręczników bawełnianych po 15,00 zł/szt. Dnia 5 czerwca 2011 r. przyjęła do magazynu na podstawie dowodu Pz dostawę ręczników. Stan zapasu ręczników na dzień 6.06.2011 r. wynosi

Hurtownia „BATA” sp. z o.o. Ul. Jasna 15, 61-100 Poznań		Dostawca Przedsiębiorstwo MEBLA sp. z o.o. ul. Zamyślona 12, 61-100 Poznań		Pz Przyjęcie materiałów z zewn.		Nr bieżący PZ 12/06/2011		Egz. 1			
Nr zamówienia		Srodek transportu		Przeznaczenie sprzedaż		Data otrzym. 5.06.2011 r.		Nr i data faktury Fa 13/06/2011 z dn. 5.06.2011			
Nr indeksu materiałowego	Nazwa materiału	Ilość			Cena		Wartość		Konto syntet. mater.	Zapas ilość	
		Otrzymana	Jedn.	Przyjęta	zł	gr	zł	gr			
(...)	Ręczniki bawełniane	40	szt.	40	15,00		600,00				
RAZEM							600,00				
Uwagi kontroli przyjęcia		Przyjął		Data		Ewidencja ilość, wartość		Wystawił		Zatwierdził	
Wynik pozytywny		(...)		5.06.2011 r.				(...)		(...)	

- A. 8 szt.
- B. 40 szt.
- C. 48 szt.
- D. 88 szt.


Zadanie 38.

Na podstawie zamieszczonego paragonu fiskalnego, kwota podatku VAT do zapłacenia za zakupione towary wynosi

- A. 5,75 zł
- B. 6,03 zł
- C. 7,27 zł
- D. 30,75 zł

ABC s.c.
BEATA Busz, JAN Kowalski
UL. STARA 3, 61-100 POZNAŃ
NIP 111-222-00-00
2011-07-21 1234
PARAGON FISKALNY
MAEA EUROPY EDU. 1X28,30 28,30 D
PEPSI 5X6,15 30,75 A
BUŁKA 4X0,92 3,68 B

SP. OP. A 30,75
PTU A 23% 5,75
SP. OP. B 3,40
PTU B 8% 0,28
SP. OP. D 28,30
PTU D 0% 0,00
SUMA PTU ???????

Suma PLN 62,73
Zapłacono gotówką 70,00
Reszta 7,27
0013/0212 #0130 Kasjer nr 11 09:20
 ABC 12345678

Zadanie 39.

Najlepszą dla konsumentów formą sprzedaży owoców cytrusowych jest sprzedaż

- A. obwoźna.
- B. wysyłkowa.
- C. preselekcyjna.
- D. samoobsługowa.

Zadanie 40.

Zgodnie z definicją Głównego Urzędu Statystycznego, „sklepy o powierzchni sprzedażowej od 2 500 m², prowadzące sprzedaż głównie w systemie samoobsługowym, oferujące szeroki asortyment artykułów żywnościowych i nieżywnościowych częstego zakupu, zwykle z parkingiem samochodowym”, to

- A. domy handlowe.
- B. hipermarkety.
- C. domy towarowe.
- D. megasamy.

Zadanie 41.

Przy sprzedaży artykułów żywnościowych i nieżywnościowych dla klientów rozproszonych na terenach wiejskich, najlepiej zastosować

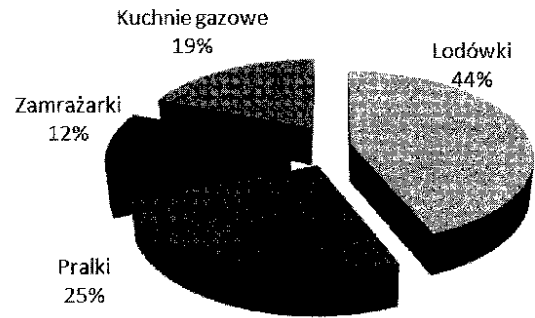
- A. handel obwoźny.
- B. handel uliczny.
- C. handel tradycyjny.
- D. samoobsługę.

Zadanie 42.

Największy udział w sprzedaży ogółem został osiągnięty w przypadku

- A. kuchni gazowych.
- B. zamrażarek.
- C. pralek.
- D. lodówek.

Udział wielkości sprzedaży produktów PH AGDMIX



Zadanie 43.

Jednostka handlowa planując wielkości zakupu stosuje przedstawiony wzór

$$Z_a = S_p + U + Z_k - Z_p$$

Gdzie: Z_a – zakup

S_p – sprzedaż

U – niedobory

Z_k – zapas końcowy


Z_p – zapas początkowy

Jeżeli planowana wielkość zakupu wynosi 50 300 zł, planowany zapas początkowy 200 zł, planowany zapas końcowy 250 zł, planowane niedobory 20 zł., to planowana wielkość sprzedaży wyniesie

- A. 50 230 zł
- B. 50 300 zł
- C. 50 500 zł
- D. 50 770 zł

Zadanie 44.

Przeciętny ser podpuszczkowy zawiera około 33% wody, 31% tłuszczu, 34% białek łącznie z produktami ich degradacji. Serem podpuszczkowym jest ser oznaczony literą



Zadanie 45.

Fakturę VAT za szkolenie BHP pracowników zapłaci

- A. Państwowa Inspekcja Pracy.
- B. Urząd Pracy.
- C. pracownik.
- D. pracodawca.

Zadanie 46.

Do podstawowych obowiązków każdego pracownika w zakresie BHP należy

- A. przestrzeganie przepisów i zasad BHP.
- B. zaopatrzenie się w sprzęt ochrony osobistej.
- C. opracowywanie planów poprawy stanu BHP.
- D. organizacja planów postępowania w sytuacji zagrożenia życia.

Zadanie 47.

Faktury VAT dokumentujące sprzedaż towarów należy przechowywać

- A. do dnia badania sprawozdań finansowych przez biegłego rewidenta.
- B. do dnia zatwierdzenia sprawozdania finansowego za dany rok obrotowy.
- C. przez 5 lat, licząc od końca roku, w którym przypadał termin zapłaty podatku.
- D. trwale.

Zadanie 48.

Brak odpowiedniego oświetlenia przy pracy przy komputerze może spowodować

- A. bóle szyi.
- B. bóle kręgosłupa.
- C. kłopoty ze wzrokiem.
- D. cierpięcie nóg.

Zadanie 49.

W tradycyjnej formie sprzedaży „w zasięgu ręki” sprzedawcy powinny znajdować się towary

- A. najmniejsze.
- B. najdroższe.
- C. szybko psujące się.
- D. najczęściej kupowane przez klientów.

Zadanie 50.

Udrażniając drogi oddechowe poszkodowanego należy

- A. usunąć ciało obce z jamy ustnej i odgiąć głowę do tyłu.
- B. przygiąć głowę do mostka.
- C. przyłożyć chustkę do ust.
- D. uciskać mostek poszkodowanego.