

Zawód: **technik handlowiec**  
Symbol cyfrowy zawodu: **341[03]**  
Wersja arkusza: **X**

Arkusz zawiera informacje  
prawnie chronione do  
momentu rozpoczęcia  
egzaminu

**341[03]-0X-132**

Czas trwania egzaminu: 120 minut

**EGZAMIN**  
**POTWIERDZAJĄCY KWALIFIKACJE ZAWODOWE**  
**Czerwiec 2013**  
**Etap pisemny**

**Instrukcja dla zdającego**

1. Sprawdź, czy arkusz egzaminacyjny zawiera 18 stron. Ewentualny brak stron lub inne usterki zgłoś przewodniczącemu zespołu nadzorującego.
2. Do arkusza dołączona jest KARTA ODPOWIEDZI, na której:
  - wpisz symbol cyfrowy zawodu,
  - zamaluj kratkę z oznaczeniem wersji arkusza,
  - wpisz swój numer PESEL\*,
  - wpisz swoją datę urodzenia,
  - przyklej naklejkę ze swoim numerem PESEL w oznaczonym miejscu na karcie.
3. Arkusz egzaminacyjny składa się z dwóch części. Część I zawiera 50 zadań, część II 20 zadań.
4. Za każde poprawnie rozwiązane zadanie możesz uzyskać 1 punkt.
5. Aby zdać etap pisemny egzaminu, musisz uzyskać co najmniej 25 punktów z części I i co najmniej 6 punktów z części II.
6. Czytaj uważnie wszystkie zadania.
7. Rozwiązania zaznaczaj na KARCIE ODPOWIEDZI długopisem lub piórem z czarnym tuszem/atramentem.
8. Do każdego zadania podane są cztery odpowiedzi: A, B, C, D. Odpowiada im następujący układ krerek na KARCIE ODPOWIEDZI:

A	B	C	D
---	---	---	---

9. Tylko jedna odpowiedź jest poprawna.
10. Wybierz właściwą odpowiedź i zamaluj kratkę z odpowiadającą jej literą – np. gdy wybrałeś odpowiedź "A":

■	B	C	D
---	---	---	---

11. Staraj się wyraźnie zaznaczać odpowiedzi. Jeżeli się pomylisz i błędnie zaznaczysz odpowiedź, otocz ją kółkiem i zaznacz odpowiedź, którą uważasz za poprawną, np.

◉ ■	B	C	■
-----	---	---	---

12. Po rozwiązaniu testu sprawdź, czy zaznaczyłeś wszystkie odpowiedzi na KARCIE ODPOWIEDZI i wprowadziłeś wszystkie dane, o których mowa w punkcie 2 tej instrukcji.

**Pamiętaj, że oddajesz przewodniczącemu zespołu nadzorującego tylko  
KARTĘ ODPOWIEDZI**

***Powodzenia!***

# Część I

## Zadanie 1.

Opakowanie służące do pakowania wyrobów sprzedawanych do poszczególnych ogniw handlu, zawierające kilka lub kilkanaście sztuk produktów, którego główną funkcją jest ochrona towaru, to opakowanie

- A. zbiorcze.
- B. jednostkowe.
- C. hermetyczne.
- D. konsumenckie.

## Zadanie 2.

Do podatków bezpośrednich zalicza się

- A. cło.
- B. akcyzę.
- C. podatek dochodowy.
- D. podatek od towarów i usług.

## Zadanie 3

Dobra komplementarne to

- A. węgiel i sól.
- B. sól i cukier.
- C. pieprz i wanilia.
- D. pieprz i pieprzniczka.

## Zadanie 4.

*Fragment ustawy o swobodzie działalności gospodarczej z dnia 2 lipca 2004 r.*

**Art. 22. 1.** Dokonywanie lub przyjmowanie płatności związanych z wykonywaną działalnością gospodarczą następuje za pośrednictwem rachunku bankowego przedsiębiorcy w każdym przypadku, gdy:

1) stroną transakcji, z której wynika płatność, jest inny przedsiębiorca oraz

2) jednorazowa wartość transakcji, bez względu na liczbę wynikających z niej płatności, przekracza równowartość 15 000 euro przeliczonych na złote według średniego kursu walut obcych ogłaszanego przez Narodowy Bank Polski ostatniego dnia miesiąca poprzedzającego miesiąc, w którym dokonano transakcji.

Jeżeli hurtownia zakupiła towary za łączną kwotę 200 000 złotych a średni kurs euro wynosi 4,50 złotych, to zgodnie z ustawą o swobodzie działalności gospodarczej, przedsiębiorstwo powinno uregulować swoje zobowiązanie

- A. gotówką.
- B. wekslem.
- C. poleceniem przelewu.
- D. przekazem pocztowym.

### Zadanie 5.

Zgodnie z prawem popytu rynkowego,

- A. wraz ze wzrostem ceny na dany produkt, zmniejsza się popyt na ten produkt.
- B. wraz ze spadkiem popytu na dany produkt, zmniejsza się cena tego produktu.
- C. każdy spadek ceny spowodowany jest zmianą popytu.
- D. każdy spadek popytu spowodowany jest wzrostem ceny.

### Zadanie 6.

Wartość produkcji wytworzonej w gospodarce danego kraju w ciągu roku to

- A. produkt narodowy netto.
- B. produkt narodowy brutto.
- C. produkt krajowy brutto.
- D. dochód narodowy.

### Zadanie 7.

Bezrobocie powstałe w wyniku upadku w danym rejonie dominującej branży przemysłu, np. przemysłu włókienniczego, to bezrobocie

- A. frykcyjne.
- B. naturalne.
- C. sezonowe.
- D. strukturalne.

### Zadanie 8.

Koszty, których poziom w krótkim okresie nie zmienia się wraz ze wzrostem rozmiarów produkcji, to koszty

- A. stałe.
- B. zmienne.
- C. krańcowe.
- D. przeciętne.

### Zadanie 9.

Który zestaw kryteriów segmentacji należy stosować na rynku proszków do prania?

- A. Płeć, religia i narodowość.
- B. Zawód, miejsce pracy i rasa.
- C. Cykl życia rodziny, dochody i miejsce zamieszkania.
- D. Wykształcenie, okazje zakupu, stopień lojalności wobec marek.

## Zadanie 10.

Przedsiębiorstwo handlowe wykorzystuje na użytek badań marketingowych opracowania statystyczne wydane przez GUS. Takie informacje klasyfikuje się jako informacje

- A. wtórne.
- B. pierwotne.
- C. wewnętrzne.
- D. jednorazowe.

## Zadanie 11.


W celu sprzedaży towarów przedsiębiorstwo handlowe informuje i przekonuje nabywców do zakupu poprzez bezpośredni kontakt. Oznacza to, że przedsiębiorstwo stosuje

- A. public relations.
- B. sprzedaż osobistą.
- C. promocję sprzedaży.
- D. reklamę bezpośrednią.

## Zadanie 12.

Zamieszczony dokument, za pomocą którego przedsiębiorstwo uregulowało swoje zobowiązanie, to

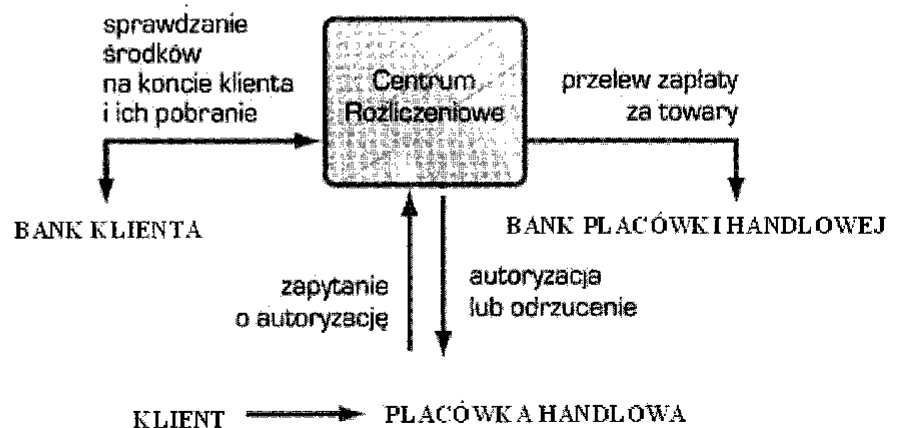
- A. weksel trasowany.
- B. przelew bankowy.
- C. przekaz pocztowy.
- D. czek rozrachunkowy.



## Zadanie 13.

Na rysunku przedstawiono schemat przebiegu zapłaty

- A. czekiem.
- B. wekslem.
- C. kartą płatniczą.
- D. poleceniem przelewu.



## Zadanie 14.

Do dowodów sprzedaży, które pozostają wyłącznie w dokumentacji sklepu, nie należy

- A. raport fiskalny.
- B. paragon fiskalny.
- C. kontrolka sprzedaży.
- D. taśma kasy rejestrującej.

## Zadanie 15.

Zamieszczony dokument to

- A. raport fiskalny.
- B. paragon fiskalny.
- C. kontrolka sprzedaży.
- D. rachunek uproszczony.

KRASNALNET  
UL. OŁÓWKOWA 15  
48-300 NYSA  
NIP 534-001-89-70

2011-11-28 238

PTU A 23,00 %  
PTU B 0,00 %  
PTU C 0,00 %  
PTU D 5,00 %  
G SP.ZM.

----- 26

SPRZEDAŻ OPODATK. PTU A 0,00  
SPRZEDAŻ OPODATK. PTU B 1296,30  
SPRZEDAŻ OPODATK. PTU C 0,00  
SPRZEDAŻ OPODATK. PTU D 0,00  
SPRZEDAŻ ZWOLN. G 0,00  
KWOTA PTU A 0,00  
KWOTA PTU B 103,70  
KWOTA PTU D 0,00  
KŁĄCZNA KWOTA PTU 103,70  
KŁĄCZNA NALEŻNOŚĆ 1400,00  
EMIDENCJA PLN

----- 7

IŁOŚĆ PARAGONÓW 7

----- 38

IŁOŚĆ POZYCJI 38

----- 12:45

#004 KIEROWNIK 12:45  
561C6A00250CED29047773947B9CCD06B500DF4  
58A-1 DANYCH DOBOWYCH  
90CC7A7E7487CC704B0133C5ED592E15D558D922

## Zadanie 16.

Dokument, którego fragment zamieszczono, to

- A. przelew bankowy.
- B. przekaz pocztowy.
- C. dowód wpłaty KP.
- D. bankowy dowód wpłaty.

Dowód wpłaty	
Słownie złotych	
groszy jak wyżej	
Nazwa i adres odbiorcy wpłaty	Na dobro rachunku nr
w	
Tytuł wpłaty	
Nazwa (nazwisko i imię), adres wpłacającego	

Prz-K-401

Urządca E. ul. Powieki 10, tel. 26 674 12 70 13 str. 6 - Złoty ul. Średzkiej, tel. 26 674 12 70

stempel banku

## Zadanie 17.

Do kategorii ryb świeżych zalicza się

- A. karpia żywego.
- B. śledzia solonego.
- C. makrełę wędzoną.
- D. mintaja mrożonego.

### Zadanie 18.

Do towarów sporadycznego zakupu zalicza się

- A. owoce.
- B. obuwie.
- C. telewizor.
- D. prasę codzienną.

### Zadanie 19.

Do warzyw cebulowych nie zalicza się

- A. pora.
- B. szalotki.
- C. czosnku.
- D. rzodkiewki.

### Zadanie 20.

Tłuszczami roślinnymi są

- A. olej i masło.
- B. olej i margaryna.
- C. margaryna i masło.
- D. smalec i margaryna.

### Zadanie 21.

Produkt uboczny otrzymywany podczas przerobu ziarna zboża, w którego skład wchodzi rozdrobnione cząstki okrywy owocowo-nasiennej pozbawione lub zawierające niewielkie ilości cząstek bielma lub zarodka, to

- A. mąka.
- B. kasza.
- C. otręby.
- D. kuskus.

### Zadanie 22.

Na podstawie składu określ, który krem powinien chronić skórę przed szkodliwym działaniem promieni słonecznych.

Krem 1	Krem 2	Krem 3	Krem 4
Skład: Wyciąg z roślin, Liposomy, Witamina A i E	Skład: Proteiny, Kwas hialuronowy, Witamina E	Skład: Składniki bioaktywne, Filtr UV, Ekstrakt aloesowy	Skład: Prowitamina B5, Substancje z alg, Alantoina
A.	B.	C.	D.

### Zadanie 23.

Cena detaliczna netto opakowania czekoladek mlecznych wynosi 24,00 zł. Ile wynosi kwota podatku VAT, jeżeli na ten towar obowiązuje podstawowa stawka podatku?

- A. 5,28 zł
- B. 5,52 zł
- C. 6,49 zł
- D. 6,78 zł

### Zadanie 24.

Przedsiębiorstwo sprzedało towary o łącznej wartości 70 000,00 zł. Klient uregulował należność 15 dni przed terminem i skorzystał ze skonta 3%. Kwota za zakupione towary wynosi

- A. 2 100,00 zł
- B. 67 900,00 zł
- C. 69 825,00 zł
- D. 69 912,50 zł

### Zadanie 25.

Hurtownia zakupiła towar po cenie 246,00 zł/szt. (w tym VAT 23%). Ile wyniesie cena sprzedaży netto towaru, jeśli hurtownia stosuje marżę w wysokości 20% ceny zakupu netto?

- A. 200,00 zł
- B. 240,00 zł
- C. 295,20 zł
- D. 302,58 zł

### Zadanie 26.

Operacja gospodarcza, która spowodowała zwiększenie środków pieniężnych na rachunku bankowym i zwiększenie kredytów bankowych, jest operacją

- A. aktywną.
- B. pasywną.
- C. aktywno-pasywną zwiększającą.
- D. aktywno-pasywną zmniejszającą.

### Zadanie 27.

W bilansie towary powinny być wyceniane według

- A. cen zakupu netto.
- B. cen zakupu brutto.
- C. cen sprzedaży netto.
- D. cen sprzedaży brutto.

### Zadanie 28.

W samoobsługowym sklepie spożywczym przeprowadzono inwentaryzację towarów. Według protokołu inwentaryzacyjnego stan księgowy wyniósł 4 800 zł, a stan faktyczny 4 600 zł. Ustalony dla tego sklepu limit ubytków wynosi 0,4%. Od ostatniej inwentaryzacji sprzedano towary za 40 000 zł. W wyniku rozliczenia, po uwzględnieniu limitu, stwierdzono

- A. niedobór w kwocie 40 zł.
- B. nadwyżkę w kwocie 40 zł.
- C. niedobór w kwocie 200 zł.
- D. nadwyżkę w kwocie 200 zł.

### Zadanie 29.

Towar	Zapasy początkowy w szt.	Zakup w szt.	Sprzedaż w szt.
Dezodorant damski	550	9 200	7 750

Zapasy końcowy dezodorantu damskiego, ustalony na podstawie zamieszczonych w tabeli danych, wynosi

- A. 900 szt.
- B. 1 450 szt.
- C. 2 000 szt.
- D. 8 650 szt.

### Zadanie 30.

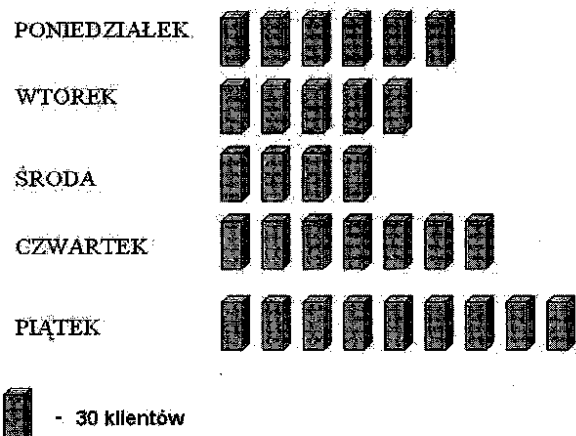
Przedsiębiorstwo sprzedające napoje osiągnęło przychody ze sprzedaży na poziomie 100 000 zł. Wszystkie koszty działalności wyniosły 80 000 zł. Jaki zysk osiągnęło przedsiębiorstwo na każdej złotówce przychodu?

- A. 0,20 zł
- B. 0,25 zł
- C. 0,80 zł
- D. 0,75 zł

### Zadanie 31.

Wykres przedstawia liczbę klientów odwiedzających sklep spożywczy PTYŚ. Którego dnia sklep ten odwiedziło 210 klientów?

- A. W poniedziałek.
- B. We wtorek.
- C. W środę.
- D. W czwartek.





### Zadanie 32.

Przedsiębiorstwo odnawia zapas towarów co 15 dni. Jeżeli wielkość sprzedaży w kwartale wynosi 120 000 zł oznacza to, że

- A. zapas końcowy wynosi 20 000 zł.
- B. zapas przeciętny wynosi 20 000 zł.
- C. zapas początkowy wynosi 20 000 zł.
- D. zapas maksymalny wynosi 20 000 zł.

### Zadanie 33.

O ile procent wzrosła cena aparatu fotograficznego, jeżeli w styczniu 2013 roku wynosiła 240,00 zł a w marcu 300,00 zł?

- A. 20%
- B. 25%
- C. 80%
- D. 125%

### Zadanie 34.

Skrzynka z jabłkami waży 15 kg. Tara stanowi 10%. Ile ważą jabłka?

- A. 3,5 kg
- B. 13,5 kg
- C. 15,0 kg
- D. 16,5 kg

### Zadanie 35.

Pracownik hurtowni zakłada kartotekę magazynową dla krzesła obrotowego na podstawie załączonej faktury VAT. Ile wynosi cena kartotekowa krzesła?

- A. 270,60 zł
- B. 264,00 zł
- C. 220,00 zł
- D. 180,00 zł

*Fragment faktury VAT*

Lp.	Nazwa towaru lub usługi	Symbol statystyczny towaru lub usługi**	Jm.	Ilość	Cena bez podatku VAT (netto)	Wartość bez podatku VAT (netto)	Podatek VAT		Wartość sprzedaży z podatkiem VAT (brutto)	
							stawka podatku VAT %	kwota		
1	krzesło obrotowe		szt	20,00	220,00	4 400,00	23	1 012,00	5 412,00	
2	fotel bujany		szt	10,00	180,00	1 800,00	23	414,00	2 214,00	
Sposób zapłaty:					<b>RAZEM</b>		8 200,00	X	1 428,00	7 628,00
przelew							8 200,00	23	1 428,00	7 628,00

### Zadanie 36.

Przestawiony dokument to

- A. oferta pracy.
- B. oferta handlowa.
- C. oferta publiczna.
- D. zapytanie ofertowe.

**FERIE ZIMOWE PAKIET II**

*Pragniemy zachęcić Państwa do spędzenia aktywnego wypoczynku w naszym hotelu.*

*Zima to nie tylko góry, ale także morze przykryte białym puchem. To długie spacery po plaży i ciepłe wieczory w hotelowym zaciszu.*

**FERIE ZIMOWE 2013**

**PAKIET DLA RODZINY**  
**2 OSOBY DOROSŁE + 2 dzieci do 14 lat**

**2 730 zł**

**W CENĘ WLICZONE JEST:**

- 7 noclegów w pokoju rodzinnym
- 7 śniadań i obiadokolacji serwowanych w formie bufetu szwedzkiego
- Korzystanie z basenu hotelowego, sauny hotelowej i jacuzzi hotelowego

Korzystanie z kompleksu basenów w Parku Wodnym  
**PARK WODNY CZYNNY OD ŚRODY DO NIEDZIELI**

### Zadanie 37.

Jaką wartość sprzedaży netto należy wpisać w przedstawionym fragmencie faktury VAT?

- A. 7,59 zł
- B. 11,50 zł
- C. 34,50 zł
- D. 42,44 zł

Nazwa towaru	J. m	Ilość	Cena jednostkowa netto w zł	Wartość sprzedaży netto w zł	Stawka VAT w %	Kwota podatku w zł	Wartość sprzedaży brutto w zł
Świecznik szklany	szt.	3	11,50	?	23%	7,94	42,44

### Zadanie 38.

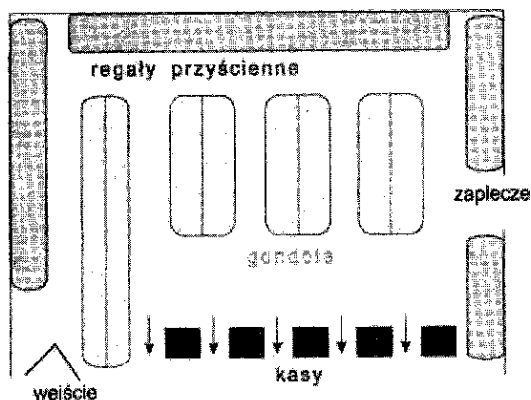
Które towary **nie mogą być** przedmiotem obrotu na giełdzie towarowej?

- A. Herbata.
- B. Węgiel kamienny.
- C. Metale kolorowe.
- D. Mikroskopy szkolne.

### Zadanie 39.

Przedstawiony schemat organizacji sali sprzedażowej jest stosowany w sprzedaży

- A. specjalnej.
- B. tradycyjnej.
- C. preselekcyjnej.
- D. samoobsługowej.



### Zadanie 40.

Sklep, który ma w swojej ofercie artykuły takie jak: nici, tasiemki, guziki oraz przybory do szycia, to

- A. butik.
- B. dyskont.
- C. drogeria.
- D. pasmanteria.

### Zadanie 41.

Znak umieszczony na opakowaniu informuje, że wyrób

- A. jest bezpieczny.
- B. posiada atest PZH.
- C. nie jest testowany na zwierzętach.
- D. jest kontrolowany mikrobiologicznie.



### Zadanie 42.

Na podstawie danych z tabeli przedstawiających wielkość i dynamikę sprzedaży cukru w ciągu ostatnich pięciu miesięcy określ, jaka będzie sprzedaż cukru w czerwcu, zakładając stałą tendencję wzrostu wielkości sprzedaży.

- A. 424 szt.
- B. 432 szt.
- C. 436 szt.
- D. 440 szt.

Miesiąc	Wielkość sprzedaży cukru w kg	Wskaźniki dynamiki sprzedaży w %
styczeń	299	-
luty	317	106
marzec	340	107
kwiecień	367	108
maj	400	109

### Zadanie 43.

*Wartość energetyczna wybranych gatunków ryb w 100 g*

Rodzaj produktu	Wartość energetyczna [kcal]	Białko [g]	Tłuszcz [g]
Dorsz świeży	69	16,5	0,3
Karp świeży	49	7,7	2,0
Śledź świeży	87	8,8	5,8
Węgorz świeży	278	15,0	24,5

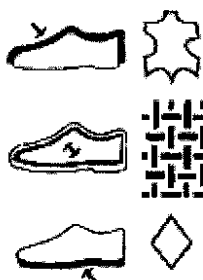
Na podstawie danych zawartych w tabeli ustal, którą rybę zakupi hurtownia, jeżeli w swojej ofercie umieściła informację o sprzedaży ryb chudych.

- A. Dorsza świeżego.
- B. Karpia świeżego.
- C. Śledzia świeżego.
- D. Węgorza świeżego.

### Zadanie 44.

Na podstawie zamieszczonej informacji, ustal z jakiego materiału wykonano cholewkę w czółenkach damskich.

- A. Ze skóry.
- B. Z gumy.
- C. Z materiału włókienniczego.
- D. Z tworzywa skóropodobnego.



### Zadanie 45.

Właściciel przedsiębiorstwa hurtowego postanowił zatrudnić pracownika na stanowisko handlowca. Nowo zatrudniony pracownik powinien być poddany badaniom

- A. wstępnym.
- B. cyklicznym.
- C. kontrolnym.
- D. okresowym.

### Zadanie 46.

Dokumenty gromadzone w teczce, której opis zamieszczono oznaczone są kategorią archiwalną

- A. DH
- B. B25
- C. 2011
- D. 3524

DH / 3524	DZIAŁ HANDLU	B 25
.....		
KATALOGI CEN		
.....		
2011		
.....		

### Zadanie 47.

Okres przechowywania akt zależy

- A. od kategorii archiwalnej.
- B. od nośnika przechowywania.
- C. od sposobu klasyfikacji pisma.
- D. od zarządzenia kierownika jednostki.

### Zadanie 48.

Wieloletnia praca w wilgotnym, zimnym magazynie może być u pracownika przyczyną

- A. chorób kręgosłupa.
- B. żylaków nóg.
- C. płaskostopia.
- D. reumatyzmu.

### **Zadanie 49.**

W tradycyjnej formie sprzedaży „w zasięgu ręki” sprzedawcy powinny znajdować się towary

- A. najmniejsze.
- B. najdroższe.
- C. szybko psujące się.
- D. najczęściej kupowane przez klientów.

### **Zadanie 50.**

Przedstawiciel handlowy podczas prezentacji nawilżacza parowego poparzył dłoń gorącą wodą. Powierzchnię oparzoną należy

- A. poleć zimną wodą.
- B. posmarować tłuszczem.
- C. zdezynfekować wodą utlenioną.
- D. zdezynfekować spirytusem salicylowym.